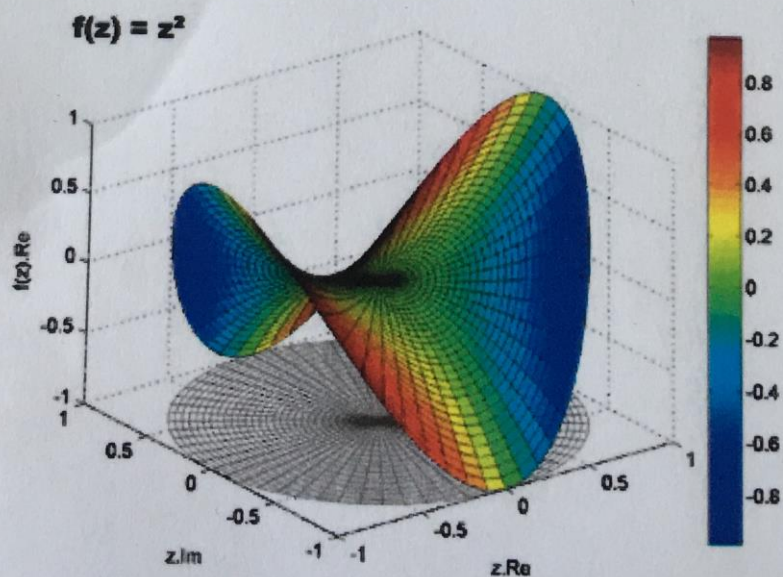


В. І. Риндюк, І. В. Коц, С. В. Риндюк

**Інформатика.
Приклади і завдання
з обчислювальної математики
та теоретичної механіки
для самостійної роботи студентів**



В. І. Риндюк, І. В. Коц, С. В. Риндюк

**ІНФОРМАТИКА.
ПРИКЛАДИ І ЗАВДАННЯ
З ОБЧИСЛЮВАЛЬНОЇ МАТЕМАТИКИ
ТА ТЕОРЕТИЧНОЇ МЕХАНІКИ
ДЛЯ САМОСТІЙНОЇ РОБОТИ СТУДЕНТІВ**

Навчальний посібник

Вінниця

ВНТУ

2017

УДК 531 (075)
P51

Рекомендовано до видання Вченою радою Вінницького національного технічного університету Міністерства освіти і науки, молоді та спорту України (протокол № 5 від 19.01.2012 р.)

Рецензенти:

- О. Д. Азаров, доктор технічних наук, професор
В. І. Ключко, доктор технічних наук, професор
О. В. Нахайчук, доктор технічних наук, професор

Риндюк, В.

P51 Інформатика. Приклади і завдання з обчислювальної математики та теоретичної механіки для самостійної роботи студентів : навчальний посібник / В. І. Риндюк, І. В. Коц, С. В. Риндюк. – Вінниця : ВНТУ, 2017. – 78 с.

В посібнику для розв'язання задач обчислювальної математики і статистики в теоретичній механіці використовується редактор WORD, електронні таблиці EXCEL та програмна система автоматизованого проектування КОМПАС.

Наведені приклади виконання завдань є достатніми для засвоєння відповідних методик розрахунків на комп'ютері. Посібник містить 30 варіантів завдань з кожної тематики, які можна використовувати для індивідуальних завдань з вищої математики, інформатики (практикум) та теоретичної механіки (статика).

Рекомендується для студентів денної та заочної форми навчання, магістрів та аспірантів за напрямками підготовки «Будівництво та цивільна інженерія» та «Теплоенергетика».

УДК 531 (075)

© ВНТУ, 2017

Зступ.....

1 Основні відомості Програма «Майкрософт» для використання

3 Порядок виконання

4 Приклади виконання WORD та електронних таблиць

4.1 Розв'язання задач за формулою

4.2 Розв'язання задач оберненої задачі

4.3 Виконання завдань

4.4 Розв'язання задач

4.5 Графічне рішення задач

4.6 Графічне рішення задач методом перетинів

4.7 Використання таблиць

4.8 Визначення параметрів

4.9 Визначення параметрів

4.10 Розв'язання задач

4.10.1 Розв'язання задач

4.10.2 Розв'язання задач

4.11 Метод скінченних елементів

5 Приклади виконання програми КОМПАС

5.1 Основні принципи роботи

5.2 Визначення параметрів системи

5.3 Знаходження параметрів

5.4 Графічне рішення задач

5.5 Знаходження параметрів (побудова моделі)

Література

Зміст

Вступ.....	4
1 Основні відомості про формули в EXCEL	5
2 Програма «Майстер функцій» та її основні функції для використання в подальших розрахунках	5
3 Порядок виконання розрахунків.....	6
4 Приклади виконання завдання за допомогою текстового редактора WORD та електронних таблиць EXCEL.....	7
4.1 Розв'язання систем алгебраїчних рівнянь за формулою Крамера.....	7
4.2 Розв'язання систем алгебраїчних рівнянь за допомогою оберненої матриці	8
4.3 Виконання дій над матрицями	9
4.4 Розв'язання матричного рівняння	11
4.5 Графічне виділення коренів	21
4.6 Графічне виділення коренів і уточнення одного з них методом проб	23
4.7 Використання методу ітерації для нелінійних рівнянь	24
4.8 Визначення інтеграла за формулою трапецій	26
4.9 Визначення інтеграла за формулою Сімпсона	28
4.10 Розв'язання задачі Коші	31
4.10.1 Розв'язання задачі Коші за допомогою методу ламаних	31
4.10.2 Розв'язання задачі Коші за допомогою методу Ейлера	34
4.11 Метод скінченних різниць	37
5 Приклади виконання завдання за допомогою програми КОМПАС	40
5.1 Основні положення для графічного визначення опорних зусиль конструкції	40
5.2 Визначення опорних зусиль у випадку плоскої збіжної системи сил	45
5.3 Знаходження зусиль у випадку довільної плоскої системи сил.....	53
5.4 Графічне визначення опорних зусиль ферми за допомогою вірбовочного багатокутника.....	59
5.5 Знаходження зусиль в стержнях ферми графічним методом (побудова діаграми Максвелла–Кремони).....	62
Література	77

ВСТУП

Навчальний посібник присвячений розв'язанню основних питань обчислювальної математики та графоаналітичному розрахунку задачі статики з використанням обчислювальної техніки.

Його мета:

1. Розширити та закріпити знання з питань використання текстового редактора WORD в поєднанні з електронними таблицями EXCEL для різноманітних математичних розрахунків.

2. Освоїти методику роботи в програмі КОМПАС з одночасним використанням графічних методів знаходження опорних зусиль у відповідних конструкціях.

Отримані знання будуть необхідні для вивчення таких дисциплін як вища математика, інформатика (практикум), креслення, теоретична механіка, опір матеріалів, будівельна механіка та ряду інших інженерних прикладних дисциплін.

Користування посібником не потребує спеціальних знань з вищої математики та методики програмування, знання графічних методів розрахунків. Наведені приклади виконання завдань є достатніми для засвоєння відповідних методик розрахунків.

Посібник містить 30 варіантів завдань з кожної тематики.

Навчальний посібник розрахований на студентів денної та заочної форми навчання, магістрантів і аспірантів напрямку підготовки «Будівництво та цивільна інженерія» та «Теплоенергетика».

1 ОСНОВНІ ВІДОМОСТІ ПРО ФОРМУЛИ В EXCEL

Всі формули в EXCEL починаються зі знаку рівності. Цей знак попереджає EXCEL, що всі наступні символи утворюють формулу. Будь які символи, які введені без знаку рівності, сприймаються як звичайний текст.

Щоб побачити, як працюють формули, створимо декілька найпростіших формул. Наприклад, виділимо комірку A10. Тепер наберемо в ній : =10+5,5 і натиснемо ENTER. В комірці з'явиться значення 15,5. Якщо виділити комірку A10, то в рядку формул можна побачити саму формулу, введenu в ці комірки. Те, що з'явиться в комірці, є відображаючим значенням, а в рядку формул виводиться збережене в цій комірці значення.

Тепер виділимо комірку A11 і наберемо в ній : =A10. Значення в обох комірках дорівнює 15,5. Якщо змінити значення в комірці A10, то зміниться і значення в комірці A11. Тепер виділимо комірку A12 і введемо в неї формулу : =A1 + A2. EXCEL поверне значення 31.

Для економії часу та уникнення множини помилок, краще вводити в формулу адреси комірок за допомогою миші. Наприклад, щоб ввести в комірку B10 формулу з адресами комірок A9 і A10, необхідно виконати:

1. Виділити комірку B10 і ввести знак рівності.
2. Клацнути на комірці A9 і ввести знак плюс.
3. Клацнути на комірці A10 і натиснути ENTER.

2 ПРОГРАМА „МАСТЕР ФУНКЦІЙ” ТА ЇЇ ОСНОВНІ ФУНКЦІЇ ДЛЯ ВИКОРИСТАННЯ В ПОДАЛЬШИХ РОЗРАХУНКАХ

У випадку, коли ми точно знаємо як записати функцію в комірку таблиці, то ми можемо її ввести з клавіатури. Наприклад, ми уже знаємо, що формула =cos(A10) визначить функцію косинус від аргументу, який записаний в комірці A10. Але частіше ми не пам'ятаємо точного синтаксису функції і для її введення використаємо „Мастер функций”. Він викликається через пункт меню „Вставка / Функція” або натискуванням кнопки $f x$, розміщеній на стандартній панелі інструментів.

Після виклику Майстра функцій на екрані з'являється діалогове вікно з двома списками: Категорія зліва і Функція (список функцій вибраної категорії) праворуч. Всього в таблиці біля 500 різноманітних функцій.

Розглянемо функції категорії „Математические”, які необхідні для наших розрахунків.

В російських версіях MS Office функції можуть записуватися як латинськими символами (cos, sin, exp...), так і російськими (корень, круг).

Розглянемо деякі функції, які надалі будемо використовувати в розрахунках.

Функція СУММ.

Функція **СУММ (SUM)** підсумовує числа і має синтаксис:

СУММ (число).

Функція **COS** визначає косинус аргументу, який записано в радіанах, і має синтаксис:

COS (число).

Функція **SIN** визначає синус аргументу, який записано в радіанах, і має синтаксис:

SIN (число).

Функція **EXP** визначає експоненту заданого числа.

Синтаксис : **EXP** (число).

Функція **LN** визначає натуральний логарифм числа:

Синтаксис : **LN** (число).

Функції **LOG**, **LOG 10** визначають відповідно логарифм числа по заданій основі і логарифм числа за основою десять.

Синтаксис: **LOG** (число, основа логарифма)

LOG 10 (число).

Функція **ГРАДУСЫ** перетворює радіани в градуси.

Синтаксис: **ГРАДУСЫ** (угол).

Функція **КОРЕНЬ** повертає значення кореня квадратного

Синтаксис: **КОРЕНЬ** (число).

Функція **МОБР** повертає обернену матрицю (матриця зберігається в масиві).

Синтаксис: **МОБР** (масив).

Функція **МУМНОЖ** повертає добуток матриць, які зберігаються в масивах.

Синтаксис: **МУМНОЖ** (масив 1, масив 2).

Функція **ПИ** визначає округлене до 15 знаків число π .

Синтаксис: **ПИ** (...).

Функція **ABS** визначає абсолютну величину числа.

Синтаксис: **ABS** (число).

Функція **РАДИАНЫ** перетворює градуси в радіани.

Синтаксис: **РАДИАНЫ** (угол).

Функція **СТЕПЕНЬ** визначає результат піднесення до степеня.

Синтаксис: **СТЕПЕНЬ** (число; степень).

3 ПОРЯДОК ВИКОНАННЯ РОЗРАХУНКІВ

1. За допомогою текстового редактора WORD набираємо умову задачі та відповідні пояснення для її розв'язання.
2. Розміщуємо курсор в місце необхідної вставки об'єкта.
3. Вибираємо команду **Вставка => Об'єкт**. Відкриється діалогове вікно **Вставка об'єкта**.
4. Клацнути на вкладку **Создание**.
5. Вибираємо з списку **Тип об'єкта Лист Microsoft Excel**. В результаті з'явиться таблиця Excel в якій будемо проводити розрахунки.

Зауважимо, що замість пунктів 3-5 можна на панелі інструментів використати кнопку **Добавить таблицу Excel** і вибрати початковий розмір таблиці. В цій таблиці будемо проводити різноманітні розрахунки за даними стовпців і рядків, будувати і друкувати діаграми.

6. При виконанні завдань за допомогою програми КОМПАС набір тексту завдання виконується при включенні кнопки [Т].

4 ПРИКЛАДИ ВИКОНАННЯ ЗАВДАННЯ ЗА ДОПОМОГОЮ ТЕКСТОВОГО РЕДАКТОРА WORD ТА ЕЛЕКТРОННИХ ТАБЛИЦЬ EXCEL

4.1 Розв'язання систем алгебраїчних рівнянь за формулою Крамера

$$\begin{aligned}x_1 + x_2 + 2x_3 + 3x_4 &= 1 \\3x_1 - x_2 - x_3 - 2x_4 &= -4 \\2x_1 + 3x_2 - x_3 - x_4 &= -6 \\x_1 + 2x_2 + 3x_3 - x_4 &= -4\end{aligned}$$

Формула Крамера:

$$x_1 = \Delta_1 / \Delta; \quad x_2 = \Delta_2 / \Delta; \quad x_3 = \Delta_3 / \Delta; \quad x_4 = \Delta_4 / \Delta,$$

$$\begin{aligned}\text{де } \Delta &= \det(A_1; A_2; A_3; A_4), \quad \Delta_1 = \det(B; A_2; A_3; A_4), \quad \Delta_2 = \det(A_1; B; A_3; A_4), \\ \Delta_3 &= \det(A_1; A_2; B; A_4), \quad \Delta_4 = \det(A_1; A_2; A_3; B).\end{aligned}$$

Викликаємо програму **EXCEL**.

Вносимо задані матриці A і B .

Для того, щоб розв'язати систему рівнянь за формулою Крамера, потрібно знайти визначник матриці. В комірці $A7$ записуємо $\Delta =$, в комірку $B7$ вносимо формулу розрахунку визначника. Для цього ставимо $=$ і через **“Мастер функций”** вносимо функцію **“МОПРЕД”** і задаємо координати функції, отримуємо запис формули $=\text{МОПРЕД}(B2:E5)$, натискаємо **ENTER**, отримуємо результат.

Аналогічно отримуємо визначники для інших матриць.

Знаходимо корені системи рівнянь x_1 . Для цього задаємо формулу $=H10/B7$, натискаємо **ENTER**, отримуємо результат.

Аналогічно знаходимо інші корені системи рівнянь.

	A	B	C	D	E	F	G	H
1								
2		1	1	2	3			1
3	A=	3	-1	-1	-2		B=	-4
4		2	3	-1	-1			-6

5		1	2	3	-1			-4
6								
7	$\Delta =$	-153						
8								
9		1	1	2	3			
10	$BA_2A_3A_4$	-4	-1	-1	-2	$\Delta_1 =$		153
11		-6	3	-1	-1			
12		-4	2	3	-1			
13								
14		1	1	2	3			
15	$A_1BA_3A_4$	3	-4	-1	-2	$\Delta_2 =$		153
16		2	-6	-1	-1			
17		1	-4	3	-1			
18								
19		1	1	1	3			
20	$A_1A_2BA_4$	3	-1	-4	-2	$\Delta_3 =$		4,32987E-15
21		2	3	-6	-1			
22		1	2	-4	-1			
23								
24		1	1	2	1			
25	$A_1A_2A_3B$	3	-1	-1	-4	$\Delta_4 =$		-153
26		2	3	-1	-6			
27		1	2	3	-4			
28								
29	$x_1 =$	-1		$x_2 =$	-1			-1
30						$x =$		-1
31	$x_3 =$	-2,82998E-17		$x_4 =$	1			1

4.2 Розв'язання системи алгебраїчних рівнянь за допомогою оберненої матриці

$$\begin{cases} 5x + 8y - z = 7 \\ x + 2y + 3z = 1 \\ 2x - 3y + 2z = 9 \end{cases}$$

Викликаємо програму EXCEL.

	A	B	C	D	E	F	G	H	I	J
1										
2		5	8	-1			7			x
3	$A =$	1	2	3		$B =$	1			$x = y$

4		2	-3	2			9		z
5									
6		0,125	-0,125	0,25			3		7
7	$A^{-1} =$	0,038462	0,115385	-0,15385		$X = A^{-1}B =$	-1		$Ax = 1$
8		-0,06731	0,298077	0,019231			-2 E-16		9

Задаємо систему рівнянь матрицями A, B і X :

$$A \cdot X = B.$$

Звідки

$$X = A^{-1} \cdot B,$$

де $X = \{ x, y, z \}^T$.

Для того, щоб знайти рішення рівняння, потрібно знайти обернену матрицю A^{-1} до матриці A . Виділяємо комірку $A7$, записуємо A^{-1} , виділяємо комірку $B6$ через “**Мастер функций**”, вносимо формулу оберненої матриці “**МОБР**” і визначаємо координати матриці $A(B2:D4)$, отримуємо запис формули $=\text{МОБР}(B2:D4)$, натискаємо **ENTER**. Отримуємо результат в комірці $B6$, виділяємо цю комірку і протягуємо до комірки $D8$, натискаємо клавішу **F2**, а потім клавіші **Ctrl+Shift+Enter**. Отримуємо в результаті матрицю A^{-1} – обернену до матриці A .

Перемножуємо матриці A^{-1} і B , виділяємо $F7$ і записуємо x , виділяємо комірку $G6$ і вносимо формулу множення матриць “**МУМНОЖ**” через “**Мастер функций**” і задаємо координати матриць для матриці $A^{-1} - B6:D8$, для матриці $B - G2:G4$, отримуємо запис формули $=\text{МУМНОЖ}(B6:D8;G2:G4)$, натискаємо **ENTER**. Отримуємо результат в комірці $G6$, виділяємо цю комірку і протягуємо до комірки $G8$, натискаємо клавішу **F2**, а потім клавіші **Ctrl+Shift+Enter**. Отримуємо в результаті матрицю $A^{-1}B = x$, яка є розв’язком даного рівняння.

4.3 Виконати дії над матрицями

$$2(A + B)(2B - A)$$

	A	B	C	D	E	F	G	H	I
1									
2		2	3	-1			-1	0	5
3	$A =$	4	5	2		$B =$	0	1	3
4		-1	0	7			2	-2	4
5									
6									
7		-2	0	10					
8	$2B =$	0	2	6					
9		4	-4	8					
10									

11									
12		1	3	4			-4	-3	11
13	$A+B=$	4	6	5		$2B-A=$	-4	-3	4
14		1	-2	11			5	-4	1
15									
16									
17		4	-28	27			8	-56	54
18	$(A+B)(2B-A)=$	-15	-50	73		$2(A+B)(2B-A)=$	-30	-100	146
19		59	-41	14			118	-82	28

Викликаємо програму **EXCEL**, задаємо дані матриць A і B .

Знаходимо добуток $2B$, в комірці $A8$ записуємо $2B$, в комірці $B7$ записуємо формулу $=2*G2$, натискаємо **ENTER**, отримуємо результат. Знову виділяємо комірку $B7$, протягуємо вниз, а потім вправо, отримуємо в результаті матрицю $2B$.

Знаходимо суму матриць A і B . Виділяємо комірку $A13$, записуємо $A+B$, виділяємо комірку $B12$, записуємо формулу $=B2+G2$, натискаємо **ENTER**, отримуємо результат. Знову виділяємо комірку $B12$, протягуємо вниз, а потім вправо, отримуємо в результаті матрицю $A+B$.

Знаходимо різницю матриць $2B$ і A . Виділяємо комірку $F13$, записуємо $2B-A$, виділяємо комірку $G12$, записуємо формулу $=B7-B2$, натискаємо **ENTER**, отримуємо результат. Знову виділяємо комірку $G12$, протягуємо вниз, а потім вправо, отримуємо в результаті матрицю $2B-A$.

Множимо матрицю $(A+B)$ і $(2B-A)$. Виділяємо комірку $A18$, записуємо $(A+B)(2B-A)$, в комірку $B17$ вносимо формулу множення матриць “**МУМНОЖ**” через “**Мастер функций**” і задаємо координати матриць для матриці $(A+B)$ – $B12:D14$, для матриці $(2B-A)$ – $G12:I14$, отримуємо запис формули $=МУМНОЖ(B12:D14;G12:I14)$, натискаємо **ENTER**. Отримуємо результат в комірці $B17$, виділяємо цю комірку і протягуємо до комірки $D19$, натискаємо клавішу $F2$, а потім клавіш **Ctrl+Shift+Enter**. Отримуємо в результаті матрицю $(A+B)(2B-A)$.

Знаходимо добуток $2(A+B)(2B-A)$, в комірці $F18$ записуємо $2(A+B)(2B-A)$, в комірці $G17$ записуємо формулу $=2*B17$, натискаємо **ENTER**, отримуємо результат. Знову виділяємо комірку $G17$, протягуємо вниз, а потім вправо, отримуємо в результаті матрицю $2(A+B)(2B-A)$.

4.4 Розв’язання матричного рівняння

$$\begin{pmatrix} 2 & 3 & 1 \\ -1 & 2 & 4 \\ 5 & 3 & 0 \end{pmatrix} \cdot X = \begin{pmatrix} 2 & 7 & 13 \\ -1 & 0 & 5 \\ 5 & 13 & 21 \end{pmatrix}.$$

	A	B	C	D	E	F	G	H	I
1									

2		$A \cdot X = B,$	де:						
3									
4		2	3	1		2	7	13	
5	$A =$	-1	2	4	$B =$	-1	0	5	
6		5	3	0		5	3	21	
7									
8		$x = B / A = A^{-1} B$							
9									
10		-0,52173913	0,13043478	0,4347826		1	2	3	
11	$A^{-1} =$	0,86956522	-0,2173913	-0,391304	$X =$	-2,2204E-16	1	2	
12		-0,56521739	0,39130435	0,3043478		0	0	1	

Викликаємо програму **EXCEL**, задаємо дані матриць A і B .

Для того, щоб знайти рішення рівняння, потрібно знайти обернену матрицю A^{-1} до матриці A . Виділяємо комірку $A11$, записуємо A^{-1} , виділяємо комірку $B10$ через “**Мастер функций**”, вносимо формулу оберненої матриці “**МОБР**” і визначаємо координати матриці $A(B4:D6)$, отримуємо запис формули $=\text{МОБР}(B4:D6)$, натискаємо **ENTER**. Отримуємо результат в комірці $B10$, виділяємо цю комірку і протягуємо до комірки $D12$, натискаємо клавішу $F2$, а потім клавіші **Ctrl+Shift+Enter**. Отримуємо в результаті матрицю A^{-1} – обернену до матриці A .

Перемножуємо матриці A^{-1} і B , виділяємо $F11$ і записуємо x , виділяємо комірку $G10$ і вносимо формулу множення матриць “**МУМНОЖ**” через вставку функцій, задаємо координати матриць для матриці A^{-1} – $B10:D12$, для матриці B – $G4:I6$, отримуємо запис формули $=\text{МУМНОЖ}(B10:D12;G4:I6)$, натискаємо **ENTER**. Отримуємо результат в комірці $B10$, виділяємо цю комірку і протягуємо до комірки $D12$, натискаємо клавішу $F2$, а потім клавіш **Ctrl+Shift+Enter**. Отримуємо в результаті матрицю $A^{-1}B = X$, яка є розв’язком даного рівняння.

Завдання 1

1. Розв’язати систему за формулою Крамера.
2. Розв’язати систему за допомогою зворотної матриці.
3. Виконати дії над матрицями.
4. Розв’язати рівняння.

$$\text{№1. } 1) \begin{cases} x_1 + x_2 + 2x_3 + 3x_4 = 1; \\ 3x_1 - x_2 - x_3 - 2x_4 = -4; \\ 2x_1 + 3x_2 - x_3 - x_4 = -6; \\ x_1 + 2x_2 + 3x_3 - x_4 = -4. \end{cases} \quad 2) \begin{cases} 5x + 8y - z = -7; \\ x + 2y + 3z = 1; \\ 2x - 3y + 2z = 9. \end{cases}$$

$$3) 2(A+B)(2B-A), \quad \text{де } A = \begin{pmatrix} 2 & 3 & -1 \\ 4 & 5 & 2 \\ -1 & 0 & 7 \end{pmatrix}, \quad B = \begin{pmatrix} -1 & 0 & 5 \\ 0 & 1 & 3 \\ 2 & -2 & 4 \end{pmatrix}.$$

$$4) \begin{pmatrix} 2 & 3 & 1 \\ -1 & 2 & 4 \\ 5 & 3 & 0 \end{pmatrix} \cdot X = \begin{pmatrix} 2 & 7 & 3 \\ -1 & 0 & 5 \\ 5 & 13 & 1 \end{pmatrix}.$$

$$\text{№2. } 1) \begin{cases} x_1 + 2x_2 + 3x_3 - 2x_4 = 6; \\ x_1 + x_2 - 2x_3 - 3x_4 = 8; \\ 3x_1 + 2x_2 - x_3 - 2x_4 = 4; \\ 2x_1 - 3x_2 + 2x_3 + x_4 = -8. \end{cases} \quad 2) \begin{cases} x + 2y + z = 4; \\ 3x - 5y + 3z = 1; \\ 2x + 7y - z = 8. \end{cases}$$

$$3) 3A - (A + 2B)B, \quad \text{де } A = \begin{pmatrix} 4 & 5 & -2 \\ 3 & -1 & 0 \\ 4 & 2 & 7 \end{pmatrix}, \quad B = \begin{pmatrix} 2 & 1 & -1 \\ 0 & 1 & 3 \\ 5 & 7 & 3 \end{pmatrix}.$$

$$4) X \cdot \begin{pmatrix} -1 & -2 & 3 \\ 2 & 3 & 5 \\ 1 & 4 & -1 \end{pmatrix} = \begin{pmatrix} 4 & 11 & 3 \\ 1 & 6 & 1 \\ 2 & 2 & 16 \end{pmatrix}.$$

$$\text{№3. } 1) \begin{cases} x_1 + 2x_2 + 3x_3 + 4x_4 = 5; \\ 2x_1 + x_2 + 2x_3 + 3x_4 = 1; \\ 3x_1 + 2x_2 + x_3 + 2x_4 = 1; \\ 4x_1 + 3x_2 + 2x_3 + x_4 = -5. \end{cases} \quad 2) \begin{cases} 3x + 2y + z = 5; \\ 2x + 3y + z = 1; \\ 2x + y + 3z = 11. \end{cases}$$

$$3) 2(A - B)(A^2 + B), \quad \text{де } A = \begin{pmatrix} 5 & 1 & 7 \\ -10 & -2 & 1 \\ 0 & 1 & 2 \end{pmatrix}, \quad B = \begin{pmatrix} 2 & 4 & 1 \\ 3 & 1 & 0 \\ 7 & 3 & 1 \end{pmatrix}.$$

$$4) \begin{pmatrix} 4 & -2 & 0 \\ 1 & 1 & 2 \\ 3 & -2 & 0 \end{pmatrix} \cdot X = \begin{pmatrix} 0 & -2 & 6 \\ 2 & 4 & 3 \\ 0 & -3 & 4 \end{pmatrix}.$$

$$\text{№4. } 1) \begin{cases} x_2 - 3x_3 + 4x_4 = -5; \\ x_1 - 2x_3 - 3x_4 = -4; \\ 3x_1 + 2x_2 - 5x_4 = 12; \\ 4x_1 + 3x_2 - 5x_3 = 5. \end{cases} \quad 2) \begin{cases} x_1 + 2x_2 + 4x_3 = 31; \\ 5x_1 + x_2 + 2x_3 = 29; \\ 3x_1 - x_2 + x_3 = 10. \end{cases}$$

$$3) (A^2 - B^2)(A + B), \quad \text{де } A = \begin{pmatrix} 7 & 2 & 0 \\ -7 & -2 & 1 \\ 1 & 1 & 1 \end{pmatrix}, \quad B = \begin{pmatrix} 0 & 2 & 3 \\ 1 & 0 & -2 \\ 3 & 1 & 1 \end{pmatrix}.$$

$$4) X \cdot \begin{pmatrix} 2 & 1 & 3 \\ 1 & -2 & 0 \\ 4 & -3 & 0 \end{pmatrix} = \begin{pmatrix} 22 & -14 & 3 \\ 6 & -7 & 0 \\ 11 & 3 & 15 \end{pmatrix}.$$

$$\text{№5. } 1) \begin{cases} x_1 + 3x_2 + 5x_3 + 7x_4 = 12; \\ 3x_1 + 5x_2 + 7x_3 + x_4 = 0; \\ 5x_1 + 7x_2 + x_3 + 3x_4 = 4; \\ 7x_1 + x_2 + 3x_3 + 5x_4 = 16. \end{cases} \quad 2) \begin{cases} 4x - 3y + 2z = 9; \\ 2x + 5y - 3z = 4; \\ 5x + 6y - 2z = 18. \end{cases}$$

$$3) (A - B^2)(2A + B), \quad \text{де } A = \begin{pmatrix} 5 & 2 & 0 \\ 10 & 4 & 1 \\ 7 & 3 & 2 \end{pmatrix}, \quad B = \begin{pmatrix} 3 & 6 & -1 \\ -1 & -2 & 0 \\ 2 & 1 & 3 \end{pmatrix}.$$

$$4) \begin{pmatrix} 2 & 3 & 1 \\ 4 & -1 & 0 \\ 0 & 1 & 2 \end{pmatrix} \cdot X = \begin{pmatrix} 9 & 8 & 7 \\ 2 & 7 & 3 \\ 4 & 2 & 5 \end{pmatrix}.$$

$$\text{№6. } 1) \begin{cases} x_1 + 5x_2 + 3x_3 - 4x_4 = 20; \\ 3x_1 + x_2 - 2x_3 = 9; \\ 5x_1 - 7x_2 + 10x_4 = -9; \\ 3x_2 - 5x_3 = 1. \end{cases} \quad 2) \begin{cases} 2x_1 - x_2 - x_3 = 4; \\ 3x_1 + 4x_2 - 2x_3 = 11; \\ 3x_1 - 2x_2 + 4x_3 = 11. \end{cases}$$

$$3) (A - B)A + 2B, \quad \text{де } A = \begin{pmatrix} 5 & -1 & 3 \\ 0 & 2 & -1 \\ -2 & -1 & 0 \end{pmatrix}, \quad B = \begin{pmatrix} 3 & 7 & -2 \\ 1 & 1 & -2 \\ 0 & 1 & 3 \end{pmatrix}.$$

$$4) X \cdot \begin{pmatrix} 5 & 1 & 2 \\ -1 & 2 & 0 \\ 1 & 0 & 1 \end{pmatrix} = \begin{pmatrix} 8 & 1 & 5 \\ -2 & 2 & -1 \\ 17 & 1 & 7 \end{pmatrix}.$$

$$\text{№7. } 1) \begin{cases} x_1 + 5x_2 = 2; \\ 2x_1 - x_2 + 3x_3 + 2x_4 = 4; \\ 3x_1 - x_2 - x_3 + 2x_4 = 6; \\ 3x_1 - x_2 + 3x_3 - x_4 = 6. \end{cases} \quad 2) \begin{cases} 2x_1 - x_2 + 3x_3 = 7; \\ x_1 + 3x_2 - 2x_3 = 0; \\ 2x_2 - x_3 = 2. \end{cases}$$

$$3) 2AB - (A + B)(A - B), \quad \text{де } A = \begin{pmatrix} 4 & -2 & 0 \\ 1 & 1 & 2 \\ 3 & -2 & 0 \end{pmatrix}, \quad B = \begin{pmatrix} 0 & -2 & 6 \\ 2 & 4 & 3 \\ 0 & -3 & 4 \end{pmatrix}.$$

$$4) \begin{pmatrix} 12 & 15 & -6 \\ 9 & -3 & 0 \\ 12 & 0 & 21 \end{pmatrix} \cdot X = \begin{pmatrix} 8 & 7 & -4 \\ 3 & 1 & 6 \\ 16 & 16 & 13 \end{pmatrix}.$$

$$\text{№8. } 1) \begin{cases} x_1 - 4x_2 - x_3 + x_4 = 2; \\ x_1 + x_2 + 2x_3 + 3x_4 = 1; \\ 2x_1 + 3x_2 - x_3 - x_4 = -6; \\ x_1 + 2x_2 + 3x_3 - x_4 = -4. \end{cases} \quad 2) \begin{cases} 2x_1 + x_2 + 4x_3 = 20; \\ 2x_1 - x_2 - 3x_3 = 3; \\ 3x_1 + 4x_2 - 5x_3 = -8. \end{cases}$$

$$3) 2A + 3B(AB - 2A), \quad \text{де } A = \begin{pmatrix} 1 & -1 & 0 \\ 2 & 0 & -1 \\ 1 & 1 & 1 \end{pmatrix}, \quad B = \begin{pmatrix} 5 & 3 & 1 \\ -1 & 2 & 0 \\ -3 & 0 & 0 \end{pmatrix}.$$

$$4) X \cdot \begin{pmatrix} 1 & 3 & 4 \\ 6 & 6 & 5 \\ -1 & -2 & 11 \end{pmatrix} = \begin{pmatrix} -4 & -3 & 11 \\ 0 & -3 & 4 \\ 1 & -4 & 1 \end{pmatrix}.$$

$$\text{№9. } 1) \begin{cases} 5x_1 - x_2 + x_3 + 3x_4 = -4; \\ x_1 + 2x_2 + 3x_3 - 2x_4 = 6; \\ 2x_1 - x_2 - 2x_3 - 3x_4 = 8; \\ 3x_1 + 2x_2 - x_3 + 2x_4 = 4. \end{cases} \quad 2) \begin{cases} x_1 - x_2 = 4; \\ 2x_1 + 3x_2 + x_3 = 1; \\ 2x_1 + x_2 + 3x_3 = 11. \end{cases}$$

$$3) (A - B)(A + B) - 2AB, \quad \text{де } A = \begin{pmatrix} 3 & 4 & 5 \\ -1 & 0 & 2 \\ -2 & -1 & 0 \end{pmatrix}, \quad B = \begin{pmatrix} 0 & 1 & -2 \\ -1 & 1 & 2 \\ 3 & -1 & 0 \end{pmatrix}.$$

$$4) \begin{pmatrix} 8 & -5 & -1 \\ -4 & 7 & -1 \\ -4 & 1 & 5 \end{pmatrix} \cdot X = \begin{pmatrix} 5 & 4 & -1 \\ 10 & 12 & -3 \\ 0 & 1 & 1 \end{pmatrix}.$$

$$\text{№10. } 1) \begin{cases} 4x_1 - 2x_2 + x_3 - 4x_4 = 3; \\ 2x_1 - x_2 + x_3 - x_4 = 1; \\ 3x_1 - x_3 + x_4 = -3; \\ 2x_1 + 2x_2 - 2x_3 + 5x_4 = -6. \end{cases} \quad 2) \begin{cases} x_1 + 5x_2 - x_3 = 7; \\ 2x_1 - x_2 - x_3 = 4; \\ 3x_1 - 2x_2 + 4x_3 = 11. \end{cases}$$

$$3) 2A - AB(B - A) + B, \quad \text{де } A = \begin{pmatrix} 3 & 2 & -1 \\ 0 & -1 & 2 \\ 5 & 7 & 1 \end{pmatrix}, \quad B = \begin{pmatrix} 0 & 3 & -1 \\ 2 & -1 & 2 \\ -3 & 1 & 4 \end{pmatrix}.$$

$$4) X \cdot \begin{pmatrix} 3 & 2 & -5 \\ 4 & 2 & 0 \\ 1 & 1 & 2 \end{pmatrix} = \begin{pmatrix} -1 & 2 & 4 \\ 0 & 3 & 2 \\ -1 & -3 & 4 \end{pmatrix}.$$

$$\text{№11. } 1) \begin{cases} 2x_1 - x_3 - 2x_4 = -1; \\ x_2 + 2x_3 - x_4 = 2; \\ x_1 - x_2 - x_4 = -1; \\ -x_1 + 3x_2 - 2x_3 = 0. \end{cases} \quad 2) \begin{cases} 11x + 3y - z = 2; \\ 2x + 5y - 5z = 0; \\ x + y + z = 2. \end{cases}$$

$$3) B(A + 2B) - 3AB, \quad \text{де } A = \begin{pmatrix} 7 & -3 & 0 \\ 1 & -1 & 0 \\ 2 & 0 & 3 \end{pmatrix}, \quad B = \begin{pmatrix} -4 & 2 & 1 \\ 1 & 0 & 1 \\ 3 & 2 & 1 \end{pmatrix}.$$

$$4) X \cdot \begin{pmatrix} 5 & -1 & 3 \\ 0 & 2 & -1 \\ -2 & -1 & 0 \end{pmatrix} = \begin{pmatrix} 3 & 7 & -2 \\ 1 & 1 & -2 \\ 0 & 1 & 3 \end{pmatrix}.$$

$$\text{№12. 1) } \begin{cases} -x_1 + x_2 + x_3 + x_4 = 4; \\ 2x_1 + x_2 + 2x_3 + 3x_4 = 1; \\ 3x_1 + 2x_2 + x_3 + 2x_4 = 1; \\ 4x_1 + 3x_2 + 2x_3 + x_4 = -5. \end{cases} \quad 2) \begin{cases} 7x + 5y + 2z = 18; \\ x - y - z = 3; \\ x + y + 2z = -2. \end{cases}$$

$$3) B(A+2B) - 3AB, \quad \text{де } A = \begin{pmatrix} 7 & -3 & 0 \\ 1 & -1 & 0 \\ 2 & 0 & 3 \end{pmatrix}, \quad B = \begin{pmatrix} -4 & 2 & 1 \\ 1 & 0 & 1 \\ 3 & 2 & 1 \end{pmatrix}.$$

$$4) X \cdot \begin{pmatrix} -1 & 2 & 0 \\ -3 & 2 & 1 \\ 1 & 2 & 3 \end{pmatrix} = \begin{pmatrix} 5 & -1 & 3 \\ 4 & 2 & 1 \\ -1 & 0 & 2 \end{pmatrix}.$$

$$\text{№13. 1) } \begin{cases} 5x_1 + 3x_2 - 7x_3 + 3x_4 = 1; \\ x_1 + 3x_3 + 4x_4 = -5; \\ x_1 - 2x_2 - 3x_4 = -3; \\ 4x_1 + 3x_2 + 5x_3 = 5. \end{cases} \quad 2) \begin{cases} 2x + 3y + z = 1; \\ x + z = 0; \\ x - y - z = 2. \end{cases}$$

$$3) 3(A+B) - (A-B)A, \quad \text{де } A = \begin{pmatrix} 1 & 2 & 3 \\ 0 & -2 & 3 \\ 1 & 1 & 1 \end{pmatrix}, \quad B = \begin{pmatrix} 4 & 2 & 1 \\ -1 & 2 & 0 \\ 2 & 3 & -1 \end{pmatrix}.$$

$$4) \begin{pmatrix} 1 & 1 & -1 \\ 4 & -3 & 1 \\ 0 & 2 & 1 \end{pmatrix} \cdot X = \begin{pmatrix} 7 & 0 & -5 \\ 4 & 11 & 2 \\ 1 & 3 & 1 \end{pmatrix}.$$

$$\text{№14. 1) } \begin{cases} x_1 + x_2 - x_3 - x_4 = 0; \\ x_1 + 2x_3 - 2x_4 = 1; \\ x_1 + x_2 - x_4 = -1; \\ -x_1 + 3x_2 - 2x_3 = 0. \end{cases} \quad 2) \begin{cases} x - 2y - 2z = 3; \\ x + y - 2z = 0; \\ x - y - z = 1. \end{cases}$$

$$3) A(A-B) + 2B(A+B), \quad \text{де } A = \begin{pmatrix} 1 & -2 & -2 \\ 1 & 1 & -2 \\ 1 & -1 & -1 \end{pmatrix}, \quad B = \begin{pmatrix} 0 & 3 & 5 \\ 4 & 1 & 0 \\ 1 & 1 & 2 \end{pmatrix}.$$

$$4) X \cdot \begin{pmatrix} 2 & 3 & 1 \\ 1 & 0 & 1 \\ 1 & -1 & -1 \end{pmatrix} = \begin{pmatrix} 7 & 5 & 2 \\ 1 & -1 & -1 \\ 1 & 1 & 2 \end{pmatrix}.$$

$$\text{№15. 1) } \begin{cases} 2x_1 + x_2 - x_3 + 3x_4 = -6; \\ 3x_1 - x_2 + x_3 + 5x_4 = 3; \\ x_1 + 2x_2 - x_3 - 2x_4 = 28; \\ 2x_1 + 3x_2 + x_3 - x_4 = 0. \end{cases} \quad 2) \begin{cases} 3x_1 + x_2 - 5x_3 = -7; \\ 2x_1 - 3x_2 + 4x_3 = -1; \\ 5x_1 - x_2 + 3x_3 = 0. \end{cases}$$

3) $(2A+B)B-0.5A$,

де $A = \begin{pmatrix} 1 & -1 & 2 \\ 3 & 0 & -2 \\ 2 & -1 & 1 \end{pmatrix}$, $B = \begin{pmatrix} -1 & 0 & -2 \\ 2 & 1 & 1 \\ -2 & 0 & 1 \end{pmatrix}$.

4) $X \cdot \begin{pmatrix} 2 & 3 & 1 \\ 3 & -1 & 0 \\ 1 & 2 & -1 \end{pmatrix} = \begin{pmatrix} 1 & 5 & 0 \\ 3 & -1 & 2 \\ 0 & 2 & 1 \end{pmatrix}$.

№16. 1) $\begin{cases} 2x_1 - x_2 + 2x_3 + 2x_4 = -3; \\ 3x_1 + 2x_2 + x_3 - x_4 = 3; \\ x_1 - 3x_2 - x_3 - 3x_4 = 0; \\ 4x_1 + 2x_2 + 2x_3 + 5x_4 = -15. \end{cases}$

2) $\begin{cases} x_1 - 2x_2 + x_3 = 15; \\ 2x_1 + x_2 + 3x_3 = 9; \\ 2x_1 + 3x_2 + 2x_3 = -2. \end{cases}$

3) $AB - 2(A+B)A$,

де $A = \begin{pmatrix} 2 & 1 & -1 \\ 1 & 0 & 1 \\ 3 & 1 & -2 \end{pmatrix}$, $B = \begin{pmatrix} 2 & -1 & 0 \\ 0 & 2 & 1 \\ 1 & 3 & -1 \end{pmatrix}$.

4) $\begin{pmatrix} -2 & 1 & 2 \\ 3 & 0 & 4 \\ 2 & 1 & -1 \end{pmatrix} \cdot X = \begin{pmatrix} 1 & 1 & 2 \\ 2 & 1 & 1 \\ -1 & 0 & 1 \end{pmatrix}$.

№17. 1) $\begin{cases} x_1 - 2x_2 + 3x_3 - 4x_4 = -2; \\ 2x_1 + 3x_2 + 4x_3 - 5x_4 = 8; \\ 3x_1 - x_2 - x_3 + 7x_4 = -2; \\ 2x_1 - x_2 + 6x_3 - 3x_4 = 7. \end{cases}$

2) $\begin{cases} 2x_1 - x_2 - 2x_3 = 1; \\ 3x_1 + 2x_2 + x_3 = 1; \\ 2x_1 + 3x_2 + 3x_3 = 0. \end{cases}$

3) $(A+2B)(3A-B)$,

де $A = \begin{pmatrix} 1 & 2 & 3 \\ 4 & -2 & 1 \\ 0 & 1 & -1 \end{pmatrix}$, $B = \begin{pmatrix} 2 & 3 & -1 \\ -2 & 0 & -1 \\ 1 & 0 & 1 \end{pmatrix}$.

4) $X \cdot \begin{pmatrix} 2 & 3 & 1 \\ -2 & 0 & 2 \\ 0 & 2 & 1 \end{pmatrix} = \begin{pmatrix} 1 & 3 & 2 \\ 4 & 2 & 1 \\ -1 & 0 & 1 \end{pmatrix}$.

№18. 1) $\begin{cases} 3x_1 + 2x_2 + 5x_3 - x_4 = 3; \\ 2x_1 - 3x_2 - 3x_3 + 4x_4 = 1; \\ 4x_1 + x_2 + 3x_3 + 2x_4 = 3; \\ 5x_1 - 2x_2 + x_3 + 3x_4 = 5. \end{cases}$

2) $\begin{cases} 2x_1 + 3x_2 + 4x_3 = 5; \\ 3x_1 + 4x_2 - x_3 = 3; \\ 4x_1 + 5x_2 - 2x_3 = 3. \end{cases}$

3) $2AB + A(B-A)$,

де $A = \begin{pmatrix} 1 & 2 & -1 \\ 2 & 3 & 0 \\ 0 & 2 & -1 \end{pmatrix}$, $B = \begin{pmatrix} 1 & 2 & -1 \\ 2 & -1 & 0 \\ 1 & 2 & 1 \end{pmatrix}$.

4) $X \cdot \begin{pmatrix} 3 & 2 & -1 \\ 0 & 1 & -2 \\ 1 & 1 & 3 \end{pmatrix} = \begin{pmatrix} -2 & 0 & 1 \\ 2 & 0 & -1 \\ 1 & 2 & 1 \end{pmatrix}$.

$$\text{№19. 1) } \begin{cases} 2x_1 + x_2 - 5x_3 - x_4 = 1; \\ 3x_1 + 3x_2 - 2x_3 - 5x_4 = 2; \\ x_1 - x_2 + 2x_3 + 3x_4 = 10; \\ 3x_1 + 2x_2 + 7x_3 - 2x_4 = 1. \end{cases} \quad 2) \begin{cases} 2x_1 - x_2 - 3x_3 = -9; \\ x_1 + 2x_2 + x_3 = 3; \\ 3x_1 + x_2 - x_3 = -1. \end{cases}$$

$$3) (3A + 0.5B)(2B - A), \quad \text{де } A = \begin{pmatrix} 1 & 2 & 3 \\ -1 & 0 & 2 \\ 1 & 2 & 1 \end{pmatrix}, \quad B = \begin{pmatrix} 1 & 0 & 2 \\ 2 & 3 & 1 \\ 3 & 1 & 0 \end{pmatrix}.$$

$$4) \begin{pmatrix} 1 & 2 & 1 \\ -1 & 0 & 2 \\ 3 & 0 & 1 \end{pmatrix} \cdot X = \begin{pmatrix} 2 & 3 & 5 \\ 0 & 2 & 1 \\ 1 & 0 & 2 \end{pmatrix}.$$

$$\text{№20. 1) } \begin{cases} 3x_1 + x_2 + 2x_3 - x_4 = 8; \\ 2x_1 - 3x_2 - 3x_3 + x_4 = -3; \\ 4x_1 + 2x_2 + 5x_3 + 3x_4 = 6; \\ x_1 + 2x_2 - 4x_3 - 3x_4 = -3. \end{cases} \quad 2) \begin{cases} 3x_1 + x_2 - 2x_3 = 4; \\ 2x_1 - 3x_2 + x_3 = 9; \\ 5x_1 + x_2 + 3x_3 = -4. \end{cases}$$

$$3) 2A(A + B) - 3AB, \quad \text{де } A = \begin{pmatrix} 2 & 3 & 4 \\ 1 & -2 & 0 \\ 0 & 1 & 2 \end{pmatrix}, \quad B = \begin{pmatrix} 2 & 0 & -2 \\ 1 & 1 & 0 \\ 1 & -1 & 1 \end{pmatrix}.$$

$$4) X \cdot \begin{pmatrix} 2 & 1 & 0 \\ 1 & 2 & 2 \\ 0 & 1 & -1 \end{pmatrix} = \begin{pmatrix} -1 & 2 & 3 \\ 0 & 2 & -1 \\ 1 & 2 & 3 \end{pmatrix}.$$

$$\text{№21. 1) } \begin{cases} 2x_1 + 3x_2 + 5x_3 + x_4 = 6; \\ 3x_1 + x_2 - x_3 + 5x_4 = 0; \\ 2x_1 - x_2 + 3x_4 = -5; \\ 2x_1 + 2x_2 - x_3 + 7x_4 = -3. \end{cases} \quad 2) \begin{cases} 2x_1 - x_2 + 3x_3 = -4; \\ x_1 + 3x_2 - x_3 = 2; \\ 5x_1 + 2x_2 + x_3 = 5. \end{cases}$$

$$3) 3AB + (A - B)(A + 2B), \quad \text{де } A = \begin{pmatrix} 2 & 5 & -1 \\ 0 & 2 & 1 \\ 1 & 0 & 1 \end{pmatrix}, \quad B = \begin{pmatrix} 1 & -2 & 0 \\ 1 & 0 & 2 \\ 0 & 0 & 3 \end{pmatrix}.$$

$$4) \begin{pmatrix} 1 & 2 & 1 \\ 0 & -1 & 2 \\ 2 & -1 & 0 \end{pmatrix} \cdot X = \begin{pmatrix} 1 & 1 & 3 \\ 3 & 2 & 1 \\ 0 & 2 & -1 \end{pmatrix}.$$

$$\text{№22 1) } \begin{cases} 5x_1 + 3x_2 - 7x_3 + 3x_4 = 1; \\ x_2 - 3x_3 + 4x_4 = -5; \\ x_1 - 2x_3 - 3x_4 = -4; \\ 4x_1 + 3x_2 - 5x_3 = 5. \end{cases} \quad 2) \begin{cases} 2x + 3y + z = 1; \\ x + z = 0; \\ x - y - z = 2. \end{cases}$$

$$3) 3(A+B) - (A-B)A, \quad \text{де } A = \begin{pmatrix} 1 & 2 & 3 \\ 0 & -2 & 3 \\ 1 & 1 & 1 \end{pmatrix}, B = \begin{pmatrix} 4 & 2 & 1 \\ -1 & 2 & 0 \\ 2 & 3 & -1 \end{pmatrix}.$$

$$4) \begin{pmatrix} 1 & 1 & -1 \\ 4 & -3 & 1 \\ 0 & 2 & 1 \end{pmatrix} \cdot X = \begin{pmatrix} 7 & 0 & -5 \\ 4 & 11 & 2 \\ 1 & 3 & 1 \end{pmatrix}.$$

$$\text{№23 } 1) \begin{cases} x_1 + x_2 - x_3 - x_4 = 0; \\ x_1 + 2x_3 - 2x_4 = 1; \\ x_1 - x_2 - x_4 = -1; \\ -x_1 + 3x_2 - 2x_3 = 0. \end{cases} \quad 2) \begin{cases} x - 2y - 2z = 3; \\ x + y - 2z = 0; \\ x - y - z = -1. \end{cases}$$

$$3) A(A-B) + 2B(A+B), \quad \text{де } A = \begin{pmatrix} 1 & -2 & -2 \\ 1 & 1 & -2 \\ 1 & -1 & -1 \end{pmatrix}, B = \begin{pmatrix} 0 & 3 & 5 \\ 4 & 1 & 0 \\ 1 & 1 & 2 \end{pmatrix}.$$

$$4) X \cdot \begin{pmatrix} 2 & 3 & 1 \\ 1 & 0 & 1 \\ 1 & -1 & -1 \end{pmatrix} = \begin{pmatrix} 7 & 5 & 2 \\ 1 & -1 & -1 \\ 1 & 1 & 2 \end{pmatrix}.$$

$$\text{№24 } 1) \begin{cases} 2x_1 + x_2 - x_3 + 3x_4 = -6; \\ 3x_1 - x_2 + x_3 + 5x_4 = 3; \\ x_1 + 2x_2 - x_3 + 2x_4 = 28; \\ 2x_1 + 3x_2 + x_3 - x_4 = 0. \end{cases} \quad 2) \begin{cases} 3x_1 + x_2 - 5x_3 = -7; \\ 2x_1 - 3x_2 + 4x_3 = -1; \\ 5x_1 - x_2 + 3x_3 = 0. \end{cases}$$

$$3) (2A+B)B - 0.5A, \quad \text{де } A = \begin{pmatrix} 1 & -1 & 2 \\ 3 & 0 & -2 \\ 2 & -1 & 1 \end{pmatrix}, B = \begin{pmatrix} -1 & 0 & -2 \\ 2 & 1 & 1 \\ -2 & 0 & 1 \end{pmatrix}.$$

$$4) X \cdot \begin{pmatrix} 2 & 3 & 1 \\ 3 & -1 & 0 \\ 1 & 2 & -1 \end{pmatrix} = \begin{pmatrix} 1 & 5 & 0 \\ 3 & -1 & 2 \\ 0 & 2 & 1 \end{pmatrix}.$$

$$\text{№25 } 1) \begin{cases} 2x_1 - x_2 + 2x_3 + 2x_4 = -3; \\ 3x_1 + 2x_2 + x_3 - x_4 = 3; \\ x_1 - 3x_2 - x_3 - 3x_4 = 0; \\ 4x_1 + 2x_2 + 2x_3 + 5x_4 = -15. \end{cases} \quad 2) \begin{cases} x_1 - 2x_2 + x_3 = 15; \\ 2x_1 + x_2 + 3x_3 = 9; \\ 2x_1 + 3x_2 + 2x_3 = -2. \end{cases}$$

$$3) AB - 2(A+B)A, \quad \text{де } A = \begin{pmatrix} 2 & 1 & -1 \\ 1 & 0 & 1 \\ 3 & 1 & -2 \end{pmatrix}, B = \begin{pmatrix} 2 & -1 & 0 \\ 0 & 2 & 1 \\ 1 & 3 & -1 \end{pmatrix}.$$

$$4) \begin{pmatrix} -2 & 1 & 2 \\ 3 & 0 & 4 \\ 2 & 1 & -1 \end{pmatrix} \cdot X = \begin{pmatrix} 1 & 1 & 2 \\ 2 & 1 & 1 \\ -1 & 0 & 1 \end{pmatrix}.$$

$$\text{№26 } 1) \begin{cases} x_1 - 2x_2 + 3x_3 - 4x_4 = -2; \\ 2x_1 + 3x_2 + 4x_3 - 5x_4 = 8; \\ 3x_1 - x_2 - x_3 + 7x_4 = -2; \\ 2x_1 - x_2 + 6x_3 - 3x_4 = 7. \end{cases}$$

$$2) \begin{cases} 2x_1 - x_2 - 2x_3 = 1; \\ 3x_1 + 2x_2 + x_3 = 1; \\ 2x_1 + 3x_2 + 3x_3 = 0. \end{cases}$$

$$3) (A + 2B)(3A - B),$$

$$\text{де } A = \begin{pmatrix} 1 & 2 & 3 \\ 4 & -2 & 1 \\ 0 & 1 & -1 \end{pmatrix}, \quad B = \begin{pmatrix} 2 & 3 & -1 \\ -2 & 0 & -1 \\ 1 & 0 & 1 \end{pmatrix}.$$

$$4) X \cdot \begin{pmatrix} 2 & 3 & 1 \\ -2 & 0 & 2 \\ 0 & 2 & 1 \end{pmatrix} = \begin{pmatrix} 1 & 3 & 2 \\ 4 & 2 & 1 \\ -1 & 0 & 1 \end{pmatrix}.$$

$$\text{№27 } 1) \begin{cases} 3x_1 + 2x_2 + 5x_3 - x_4 = 3; \\ 2x_1 - 3x_2 - 3x_3 + 4x_4 = 1; \\ 4x_1 + x_2 + 3x_3 + 2x_4 = 3; \\ 5x_1 - 2x_2 + x_3 + 3x_4 = 5. \end{cases}$$

$$2) \begin{cases} 2x_1 + 3x_2 + 4x_3 = 5; \\ 3x_1 + 4x_2 - x_3 = 3; \\ 4x_1 + 5x_2 - 2x_3 = 3. \end{cases}$$

$$3) 2AB + A(B - A),$$

$$\text{де } A = \begin{pmatrix} 1 & 2 & -1 \\ 2 & 3 & 0 \\ 0 & 2 & -1 \end{pmatrix}, \quad B = \begin{pmatrix} 1 & 2 & -1 \\ 2 & -1 & 0 \\ 1 & 2 & 1 \end{pmatrix}.$$

$$4) X \cdot \begin{pmatrix} 3 & 2 & -1 \\ 0 & 1 & -2 \\ 1 & 1 & 3 \end{pmatrix} = \begin{pmatrix} -2 & 0 & 1 \\ 2 & 0 & -1 \\ 1 & 2 & 1 \end{pmatrix}.$$

$$\text{№28 } 1) \begin{cases} 2x_1 + x_2 + 5x_3 - x_4 = 1; \\ 3x_1 + 3x_2 - 2x_3 - 5x_4 = 2; \\ x_1 - x_2 + 2x_3 + 3x_4 = 10; \\ 3x_1 + 2x_2 + 7x_3 - 2x_4 = 1. \end{cases}$$

$$2) \begin{cases} 2x_1 - x_2 - 3x_3 = -9; \\ x_1 + 2x_2 + x_3 = 3; \\ 3x_1 + x_2 - x_3 = -1. \end{cases}$$

$$3) (3A + 0.5B)(2B - A),$$

$$\text{де } A = \begin{pmatrix} 1 & 2 & 3 \\ -1 & 0 & 2 \\ 1 & 2 & 1 \end{pmatrix}, \quad B = \begin{pmatrix} 1 & 0 & 2 \\ 2 & 3 & 1 \\ 3 & 1 & 0 \end{pmatrix}.$$

$$4) \begin{pmatrix} 1 & 2 & 1 \\ -1 & 0 & 2 \\ 3 & 0 & 1 \end{pmatrix} \cdot X = \begin{pmatrix} 2 & 3 & 5 \\ 0 & 2 & 1 \\ 1 & 0 & 2 \end{pmatrix}.$$

$$\text{№29 } 1) \begin{cases} 3x_1 + x_2 + 2x_3 - x_4 = 8; \\ 2x_1 - 3x_2 - 3x_3 + x_4 = -3; \\ 4x_1 + 2x_2 + 5x_3 + 3x_4 = 6; \\ x_1 + 2x_2 - 4x_3 - 3x_4 = -3. \end{cases}$$

$$2) \begin{cases} 3x_1 + x_2 - 2x_3 = 4; \\ 2x_1 - 3x_2 + x_3 = 9; \\ 5x_1 + x_2 + 3x_3 = -4. \end{cases}$$

3) $2A(A+B) - 3AB$, де $A = \begin{pmatrix} 2 & 3 & 4 \\ 1 & -2 & 0 \\ 0 & 1 & 2 \end{pmatrix}$, $B = \begin{pmatrix} 2 & 0 & -2 \\ 1 & 1 & 0 \\ 1 & -1 & 1 \end{pmatrix}$.

4) $X \cdot \begin{pmatrix} 2 & 1 & 0 \\ 1 & 2 & 2 \\ 0 & 1 & -1 \end{pmatrix} = \begin{pmatrix} -1 & 2 & 3 \\ 0 & 2 & -1 \\ 1 & 2 & 3 \end{pmatrix}$.

№30 1) $\begin{cases} 2x_1 + 3x_2 + 5x_3 + x_4 = 6; \\ 3x_1 + x_2 - x_3 - 5x_4 = 0; \\ 2x_1 - x_2 + 3x_4 = -5; \\ 2x_1 + 2x_2 - x_3 + 7x_4 = -3. \end{cases}$

2) $\begin{cases} 2x_1 - x_2 + 3x_3 = -4; \\ x_1 + 3x_2 - x_3 = 2; \\ 5x_1 + 2x_2 + x_3 = 5. \end{cases}$

3) $3AB + (A-B)(A+2B)$, де $A = \begin{pmatrix} 2 & 5 & -1 \\ 0 & 2 & 1 \\ 1 & 0 & 1 \end{pmatrix}$, $B = \begin{pmatrix} 1 & -2 & 0 \\ 1 & 0 & 2 \\ 0 & 0 & 3 \end{pmatrix}$.

4) $\begin{pmatrix} 1 & 2 & 1 \\ 0 & -1 & 2 \\ 2 & -1 & 0 \end{pmatrix} \cdot X = \begin{pmatrix} 1 & 1 & 3 \\ 3 & 2 & 1 \\ 0 & 2 & -1 \end{pmatrix}$.

4.5 Графічне виділення коренів

$$0,5^x + 1 = (x - 2)^2$$



Позначимо ліву частину рівняння через y_1 і праву – y_2 .

Викликаємо програму **EXCEL**.

В комірці $A2$ задаємо значення для $x=3$, в $A3$ – x зменшуємо на $0,2$, $x=3-0,2=2,8$. Виділяємо комірки $A2$ і $A3$ та мишкою ставимо курсор в чорний квадратик, натискаємо ліву клавішу і, тримаючи, рухаємо вниз по колонці A , при цьому при проходженні кожного рядка буде тимчасово висвічуватись її значення. Зупиняємось, коли $x=-0,8$.

Переводимо курсор в комірку $B2$ і записуємо формулу для $y_1 := 0,5 \wedge A2 + 1$, натискаємо **ENTER**. Отримуємо значення y_1 при $x=3$. Повертаємо курсор в $B2$, виділяємо її і за допомогою чорного квадратика при натисканні лівої клавіші миші проходимо вниз до останнього значення аргументу x . Отримуємо значення y_1 для всіх значень x .

Повертаємось в комірку $C2$ і записуємо формулу для $y_2 := (A2 - 2) \wedge 2$ й натискаємо **ENTER**. Отримуємо значення y_2 при $x=3$. Аналогічно попередній процедурі знаходимо всі значення для y_2 .

Для побудови графіка виділяємо колонки B і C з вирахованими значеннями y_1 і y_2 .

Натискаємо **“Мастер діаграм”** на панелі інструментів.

З’являється підменю для **“Мастер діаграм”**, вибираємо тип графіка, натискаємо кнопку **“ДАЛЕЕ”**. З’являється попередній варіант наших графіків. При цьому існує запит для позначення осі x і y розбиття в сітку. Натискаємо кнопку **“ГОТОВО”**. В результаті на листі з нашими розрахунками з’являється картинка з графіками, яку можна переміщувати, деформувати, змінювати.

Точки перетину графіків і визначають корінь рівняння.

Завдання 2

Виділити корені графічно.

1. $0,5^x + 1 = (x - 2)^2$;

2. $[\log_2(-x)] \cdot (x + 2) = -1$;

3. $x^2 - 2 + 0,5^x = 0$;

4. $x \cdot \log_3(x + 1) = 1$;

5. $(x - 4)^2 \cdot \log_{0,5}(x - 3) = -1$;

6. $x^2 \cdot 2^x = 1$;

7. $0,5^x - 1 = (x + 2)^2$;

8. $2x^2 - 0,5^x - 3 = 0$;

9. $(x - 2)^2 2^x = 1$;

10. $2 \sin\left(x + \frac{\pi}{3}\right) = 0,5x^2 - 1$;

16. $(x - 1)^2 2^x = 1$;

17. $0,5^x - 3 = (x + 2)^2$;

18. $2x^2 - 0,5^x - 2 = 0$;

19. $(x - 2)^2 2^x = 1$;

20. $2 \sin\left(x + \frac{\pi}{3}\right) = x^2 - 0,5$;

21. $(0,5)^x + 1 = (x - 2)^2$;

22. $(x + 2) \log_2(x) = 1$;

23. $x^2 - 4 + 0,5^x = 0$;

24. $x \log_3(x + 1) = 1$;

25. $(x - 4)^2 \log_{0,5}(x - 3) = -1$;

$$11. [(x-2)^2 - 1] \cdot 2^x = 1;$$

$$12. [\log_2(x+2)] \cdot (x-1) = 1;$$

$$13. x^2 - 3 + 0,5^x = 0;$$

$$14. x \log_3(x+1) = 2;$$

$$15. (x-3)^2 \log_{0,5}(x-2) = -1;$$

$$26. (x-1)^2 2^x = 1;$$

$$27. 0,5^x - 3 = -(x+1)^2;$$

$$28. 2x^2 - 0,5^x - 3 = 0;$$

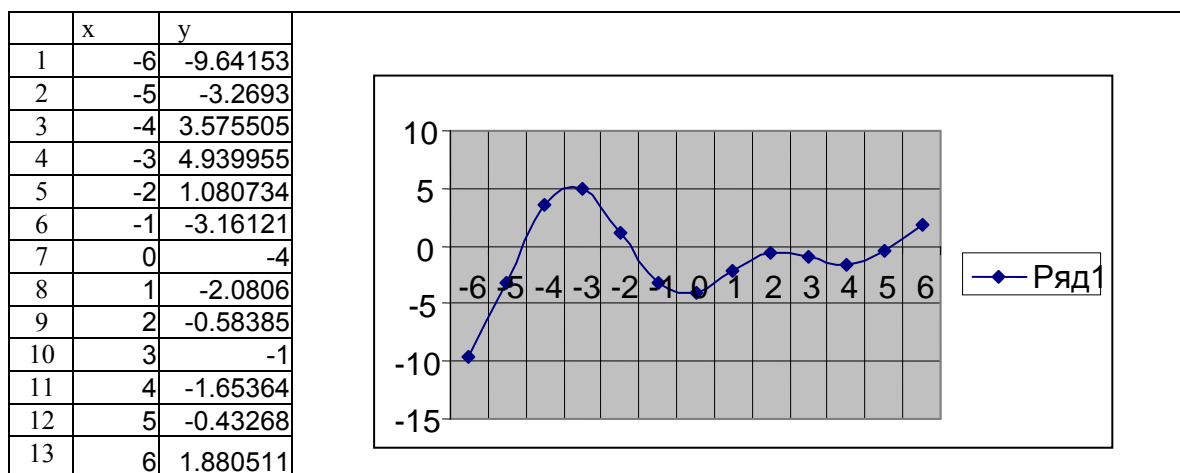
$$29. (x-2)^2 2^x = 1;$$

$$30. 0,5^x + 1 = (x-2)^2.$$

4.6 Графічне виділення коренів і уточнення одного з них методом проб

$$(x-3) \cdot \cos x = 1$$

Побудуємо графік функції $f(x) = (x-3) \cdot \cos x - 1$.



Тепер для уточнення кореня виберемо проміжок на кінцях, коли функція $F(x) = (x-3) \cdot \cos x - 1$ має різні знаки. Цей проміжок $x=6, x=5$.

Далі розрахунки в такій таблиці:

	A	B	C	D	E
1	n	A_{n+}	B_{n-}	x_n	$F(x)$
2	1	6	5	5,5	0,771674
3	2	5,5	5	5,25	0,152192
4	3	5,25	5	5,125	-0,14787
5	4	5,25	5,125	5,1875	0,000644
6	5	5,1875	5,125	5,15625	-0,07404
7	6	5,18375	5,15625	5,17	-0,04128
8	7	5,18375	5,17	5,176875	-0,02484
9	8	5,18375	5,176875	5,180313	-0,0166
10	9	5,18375	5,180313	5,182032	-0,01248
11	10	5,18375	5,182032	5,182891	-0,01042
12	11	5,18375	5,182891	5,183321	-0,00939
13	12	5,18375	5,183321	5,183536	-0,00888
14	13	5,18375	5,183536	5,183643	-0,00862

Записуємо в комірку B2 значення 6, а в комірку C2 – 5.

В комірці D2 визначаємо $f(x) = (D2 - 3) * \cos(D2) - 1$. Якщо $f(x) < 0$, то A_{n+} залишається 6, а B_{n-} буде 5,5. В іншому випадку $A_{n+} = 5,5$, а B_{n-} залишиться 5.

Знову визначаємо $f(x)$ і слідкуємо за знаком. При цьому звертаємо увагу на різницю значень між A_{n+} і A_{n+1+} ; B_{n-} і B_{n+1-} , якщо різниці менше 0,001, то x_n є коренем.

Завдання 3

Виділити корені графічно і уточнити один з них методом проб з точністю до 0,01.

1. $(x - 3)\cos x = 1, -2\pi \leq x \leq 2\pi;$

16. $\operatorname{tg}^3 x = x - 1, -\frac{\pi}{2} \leq x \leq \frac{\pi}{2};$

2. $\sin\left(x + \frac{\pi}{3}\right) - 0,5x = 0;$

17. $x^2 \cos 2x = -1, -2\pi \leq x \leq 2\pi;$

3. $(x - 1)^2 \cdot \lg(x + 11) = 1;$

18. $x \lg(x + 1) = 1;$

4. $\cos(x + 0,5) = x^3;$

19. $x^2 - 20\sin x = 0;$

5. $5\sin x = x;$

20. $2\lg x - \frac{x}{2} + 1 = 0;$

6. $\operatorname{tg} x = x + 1, -\frac{\pi}{2} \leq x \leq \frac{\pi}{2};$

21. $(x - 3)\cos x = 1, -2\pi \leq x \leq 2\pi;$

7. $x^2 \cos 2x = -1;$

22. $\sin(x + 1) = 0,5x;$

8. $x \lg(x + 1) = 1;$

23. $(x - 2)^2 \lg(x + 11) = 1;$

9. $x^2 - 20\sin x = 0;$

24. $\cos(x + 0,5) = x^3;$

10. $2\lg x - \frac{x}{2} + 1 = 0;$

25. $5\sin x = x - 0,5;$

11. $(x - 2)\cos x = 1, -2\pi \leq x \leq 2\pi;$

26. $\operatorname{tg}^3 x = x + 1, -\frac{\pi}{2} \leq x \leq \frac{\pi}{2};$

12. $\sin(x - 0,5) - x + 0,8 = 0;$

27. $x^2 \cos 2x = -1;$

13. $(x - 2)^2 \lg(x + 11) = 1;$

28. $x \lg(x + 1) = 1;$

14. $\cos(x + 0,3) = x^2;$

29. $x^2 - 10\sin x = 0;$

15. $5\sin x = x - 1;$

30. $(x + 3)\cos x = 1, -2\pi \leq x \leq 2\pi.$

4.7 Використання методу ітерації для нелінійних рівнянь

Приклад виконання завдання

Використовуючи метод ітерації, розв'язати систему нелінійних рівнянь з точністю до 0,001.

$$\begin{cases} \sin(x+1) - y = 1,2, \\ 2x + \cos y = 2. \end{cases}$$

Перепишемо дану систему у вигляді:

$$y = \sin(x+1) - 1,2 = \varphi_1(x, y),$$

$$x = 1 - 0,5 \cos y = \varphi_2(x, y).$$

Впевнимося в тому, що метод ітерації можна використати для уточнення розв'язку системи.

Знайдемо частинні похідні від функцій $\varphi_1(x, y)$ і $\varphi_2(x, y)$:

$$\frac{\partial \varphi_1}{\partial x} = \cos(x+1), \quad \frac{\partial \varphi_1}{\partial y} = 0,$$

$$\frac{\partial \varphi_2}{\partial x} = 0, \quad \frac{\partial \varphi_2}{\partial y} = 0.5 \sin y.$$

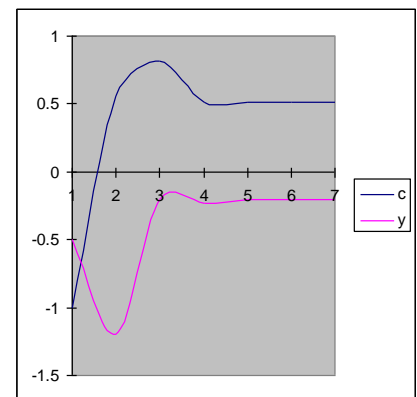
З графіка побудови функцій маємо: $0 < x < 1$; $0 < y < -0,5$,

тоді

$$\left| \frac{\partial \varphi_1}{\partial x} \right| + \left| \frac{\partial \varphi_2}{\partial x} \right| = |\cos(x+1)| < 1;$$

$$\left| \frac{\partial \varphi_1}{\partial y} \right| + \left| \frac{\partial \varphi_2}{\partial y} \right| = |0.5 \sin y| < 1.$$

	A	B	C	D
1	x	y	$\sin(x+1)-1.2$	$1-0.5\cos y$
2	-1	-0.5	-1.2	0.561209
3	0.561209	-1.2	-0.200046	0.818821
4	0.818821	-0.20005	-0.2306008	0.509971
5	0.509971	-0.2306	-0.2018493	0.513235
6	0.513235	-0.20185	-0.2016562	0.510151
7	0.510151	-0.20166	-0.2018383	0.510132
8	0.510132	-0.20184	-0.2018395	0.51015



Викликаємо програму **EXCEL**.

В стовпці *A* задаємо значення *x*, в стовпці *B* – значення *y* (довільно). В комірці *C2* задаємо формулу: **=sin(A2+1)-1.2**, натискаємо **ENTER**, отримуємо результат.

В комірці *D2* задаємо формулу: **=1-0.5*cos(B2)**, натискаємо **ENTER**, отримуємо результат.

В комірці *A3* записуємо формулу: **=D2**, натискаємо клавішу **ENTER**.

В комірці *B3* записуємо формулу: **=C2**, натискаємо клавішу **ENTER**.

Виділяємо комірки *C2-D2*, розташовуємо курсор в чорному квадратику і

натискуючи ліву клавішу, курсором переміщуємося в комірки C3-D3.

Після цього виділяємо комірки A3-D3 і, аналогічно попередній операції,

Опускаємось на декілька комірок вниз, наприклад, до A8-D8. В результаті отримуємо (відповідно до заданої точності) корені рівняння: $X=0.5101$; $Y=-0.2018$.

Якщо точність не виконується, то повторюємо операцію в нижніх комірках A9-D9 тощо.

Завдання 4

Використовуючи метод ітерацій, розв'язати систему нелінійних рівнянь з точністю 0,001.

$$1. \begin{cases} \sin(x+1) - y = 1,2; \\ 2x + \cos y = 2. \end{cases}$$

$$2. \begin{cases} \cos(x-1) + y = 0,5; \\ x - \cos y = 3. \end{cases}$$

$$3. \begin{cases} \sin x + 2y = 2; \\ \cos(y-1) + x = 0,7. \end{cases}$$

$$4. \begin{cases} \cos x + y = 1,5; \\ 2x - \sin(y-0,5) = 1. \end{cases}$$

$$5. \begin{cases} \sin(x+0,5) - y = 1; \\ \cos(y-2) + x = 0. \end{cases}$$

$$6. \begin{cases} \cos(x+0,5) + y = 0,8; \\ \sin y - 2x = 1,6. \end{cases}$$

$$7. \begin{cases} \sin(x-1) = 1,3 - y; \\ x - \sin(y+1) = 0,8. \end{cases}$$

$$8. \begin{cases} 2y - \cos(x+1) = 0; \\ x + \sin y = -0,4. \end{cases}$$

$$9. \begin{cases} \cos(x+0,5) - y = 2; \\ \sin y - 2x = 1. \end{cases}$$

$$10. \begin{cases} \sin(x+2) - y = 1,5; \\ x + \cos(y-2) = 0,5. \end{cases}$$

$$11. \begin{cases} \sin(y+1) - x = 1,2; \\ 2y + \cos x = 2. \end{cases}$$

$$12. \begin{cases} \cos(y-1) + x = 0,5; \\ y - \cos y = 3. \end{cases}$$

$$13. \begin{cases} \sin y + 2x = 2; \\ \cos(x-1) + y = 0,7. \end{cases}$$

$$14. \begin{cases} \cos y + x = 1,5; \\ 2y - \sin(x-0,5) = 1. \end{cases}$$

$$15. \begin{cases} \sin(y+0,5) - x = 1; \\ \cos(x-2) + y = 0. \end{cases}$$

$$16. \begin{cases} \cos(y+0,5) + x = 0,8; \\ \sin x - 2y = 1,6. \end{cases}$$

$$17. \begin{cases} \sin(y-1) + x = 1,3; \\ y - \sin(x+1) = 0,8. \end{cases}$$

$$18. \begin{cases} 2x - \cos(y+1) = 0; \\ y + \sin x = -0,4. \end{cases}$$

$$19. \begin{cases} \cos(y+0,5) - x = 2; \\ \sin x - 2y = 1. \end{cases}$$

$$20. \begin{cases} \sin(y+2) - x = 1,5; \\ y + \cos(x-2) = 0,5. \end{cases}$$

$$21. \begin{cases} \sin(x+1) - y = 1; \\ 2x + \cos y = 2. \end{cases}$$

$$22. \begin{cases} \cos(x-1) + y = 0,8; \\ x - \cos y = 2. \end{cases}$$

$$23. \begin{cases} \sin x + 2y = 1,6; \\ \cos(y-1) + x = 1. \end{cases}$$

$$24. \begin{cases} \cos x + y = 1,2; \\ 2x - \sin(y-0,5) = 2. \end{cases}$$

$$25. \begin{cases} \sin(x+0,5) - y = 1,2; \\ \cos(y-2) + x = 0. \end{cases}$$

$$26. \begin{cases} \cos(x+0,5) + y = 1; \\ \sin y - 2x = 2. \end{cases}$$

$$27. \begin{cases} \sin(x-1) + y = 1,5; \\ x - \sin(y+1) = 1. \end{cases}$$

$$28. \begin{cases} \sin(y+1) - x = 1; \\ 2y + \cos x = 2. \end{cases}$$

$$29. \begin{cases} \cos(y-1) + x = 0,8; \\ y - \cos x = 2. \end{cases}$$

$$30. \begin{cases} \cos(x-1) + y = 1; \\ \sin y + 2x = 1,6. \end{cases}$$

4.8 Визначення інтеграла за формулою трапецій

$$\int_{x=0,8}^{x=1,6} \frac{dx}{\sqrt{2x^2-1}};$$

Для того, щоб досягти заданого ступеня точності, необхідно визначити значення так, щоб:

$$\frac{(b-a)^3}{12n^2} \cdot M_2 \leq 0,005;$$

$$b=1,6; a=0,8; M_2 \geq |f''(x)|, \text{ де } f(x) = \frac{1}{\sqrt{2x^2+1}}.$$

Знаходимо:

$$f'(x) = \frac{2x/\sqrt{2x^2+1}}{2x^2+1} = -\frac{2x}{(2x^2+1)^{\frac{3}{2}}}; \quad f''(x) = \frac{8x^2-0,6}{\sqrt{(2x^2+0,3)^3}}.$$

За допомогою програми «Калькулятор» визначаємо значення f'' при $x=a$ і $x=b$. Маємо: $f''(0,8) = 2,53$; $f''(1,6) = 1,57$.

$$\frac{0,512}{12 \cdot n^2 \cdot 1} \leq 0,005, \text{ звідки } n > 2,92;$$

$$\max|f''(x)| \approx 2,53.$$

Покладемо: $M_2 = 3, [0,8; 0,6]$, тоді нерівність приймає вигляд:

$$\frac{0,512}{12 \cdot n^2 \cdot 1} \leq 0,005, \text{ звідки } n > 16.$$

Викликаємо програму **EXCEL**.

Оскільки в таблицях нумерація починається з одиниці, то з врахуванням назви колонок будемо мати:

$$y_0 = y_2; \quad y_{16} = y_{18}.$$

Обчислення інтегралу знаходимо за формулою:

$$I = h((y_2 + y_{18})/2 + y_1 + y_2 + \dots + y_{17}),$$

$$\text{де } h = \frac{b-a}{n} = \frac{1,6-0,8}{18} = 0,05; \quad y_i = y(x_i) = 1/\sqrt{2x_i^2+1}; \quad x_i = 0,8+ih; \quad i=0,16.$$

Розрахунки проводимо в таблиці.

Ставимо курсор в комірку $A1$, записуємо назву аргументу x_i , потім переходимо в комірку $B1$ – записуємо x_i^2 , і так до $E1$ включно.

Потім в $A2$ записуємо нижню границю інтервалу $x_0 = 0,8$. Переходимо в комірку $A3$ і записуємо інформацію так: $=A2+h$, де $h=0,05$ по розрахунках і натискаємо ENTER. Повертаємося в комірку $A3$ і мишкою за допомогою чорного квадратика при натиснутій лівій клавіші (комірка змінить своє обрамлення)

протягуємо курсор до *A18* включно, тоді клавішу мишки відпускаємо.

В комірці *B2* записуємо формулу: $=A2^2$ і натискаємо **ENTER**. Проводимо аналогічну операцію до *B18*.

Переходимо в комірку *C2*, записуємо формулу: $=1/КОРЕНЬ(2*B2+1)$ і натискаємо **ENTER**. Знову за допомогою чорного квадратика проходимо до комірки *C18*.

Переходимо в комірку *D2* і записуємо формулу: $=(C2+C18)/2$ і натискаємо **ENTER**.

В комірці *E2* записуємо формулу: $=СУММ(C3:C17)$ і натискаємо **ENTER**.

В комірці *F2* записуємо формулу: $=0,05*(D2+E2)$ і натискаємо **ENTER**.

В результаті отримуємо значення інтеграла.

	A	B	C	D	E	F
1	x_i	x_i^2	$1/\sqrt{2x_i^2+1}$	$(y_1 + y_{18})/2$	$y_3 + y_{17}$	
2	0,8	0,64	0,662266	0,5332461	7,727314	0,413028
3	0,85	0,7225	0,639529			
4	0,9	0,81	0,617802			
5	0,95	0,9025	0,597081			
6	1	1	0,57735			
7	1,05	1,1025	0,558581			
8	1,1	1,21	0,540738			
9	1,15	1,3225	0,523783			
10	1,2	1,44	0,507673			
11	1,25	1,5625	0,492366			
12	1,3	1,69	0,477818			
13	1,35	1,8225	0,463988			
14	1,4	1,96	0,450835			
15	1,45	2,1025	0,438318			
16	1,5	2,25	0,426401			
17	1,55	2,4025	0,415049			
18	1,6	2,56	0,404226			

4.9 Визначення інтеграла за формулою Сімпсона

$$\int_{1,2}^2 \frac{\lg(x+2)}{x} dx$$

Нехай $n = 8$, тому $h = (b - a) / n = (2 - 1,2) / 8 = 0,1$.

Для будь-якого значення n обчислювальна формула має вигляд:

$$I = \frac{h}{3} \cdot (y_0 + 4y_1 + 2y_2 + 4y_3 + 2y_4 + 4y_5 + \dots + 4y_{n-1} + y_n).$$

В даному випадку формула для визначення інтеграла така:

$$I = \frac{h}{3} \cdot (y_0 + 4y_1 + 2y_2 + 4y_3 + 2y_4 + 4y_5 + 2y_6 + 4y_7 + y_8),$$

де $y_i = y(x_i) = \frac{\lg(x_i + 2)}{x_i}$; $x_i = 1,2 + ih$ ($i = 0,8$).

Виконаємо процедуру аналогічну процедурі попереднього прикладу. Переходимо в комірку E2 і записуємо формулу:

$$= 0,1 * (D2 + 4 * D3 + 2 * D4 + 4 * D5 + 2 * D6 + 4 * D7 + 2 * D8 + 4 * D9 + D10) / 3.$$

Натискаємо **ENTER**, отримуємо результат.

A	B	C	D	E	F
1	x_i	$\lg(x + 2)$	$y = \lg(x + 2) / x$		
2	1,2	0,50515	0,420958	0,281613	
3	1,3	0,518514	0,398857		
4	1,4	0,531479	0,379628		
5	1,5	0,544068	0,362712		
6	1,6	0,556303	0,347689		
7	1,7	0,568202	0,334236		
8	1,8	0,579784	0,322102		
9	1,9	0,591065	0,311087		
10	2,0	0,60206	0,30103		

Завдання 5

- Обчислити інтеграл за формулою трапецій з трьома десятковими знаками.
- Обчислити інтеграл за формулою Сімпсона при $i = 8$; оцінити похибку результату, склавши таблицю скінченних різниць.

№1. 1) $\int_{0,8}^{1,6} \frac{dx}{\sqrt{2x^2 + 1}}$;

2) $\int_{1,2}^2 \frac{\lg(x + 2)}{x} dx.$

№2. 1) $\int_{1,2}^{2,7} \frac{dx}{\sqrt{x^2 + 3,2}}$;

2) $\int_{1,6}^{2,4} (x + 1) \sin x dx.$

$$\text{№3. } 1) \int_1^2 \frac{dx}{\sqrt{2x^2 + 1,3}};$$

$$2) \int_{0,2}^1 \frac{\text{tg}(x^2)}{x^2 + 1} dx.$$

$$\text{№4. } 1) \int_{0,2}^{1,2} \frac{dx}{\sqrt{x^2 + 1}};$$

$$2) \int_{0,6}^{1,4} \frac{\cos x}{x + 1} dx.$$

$$\text{№5. } 1) \int_{0,8}^{1,4} \frac{dx}{\sqrt{2x^2 + 3}};$$

$$2) \int_{0,4}^{1,2} \sqrt{x} \cos(x^2) dx.$$

$$\text{№6. } 1) \int_{0,4}^{1,2} \frac{dx}{\sqrt{2 + 0,5x^2}};$$

$$2) \int_{0,8}^{1,2} \frac{\sin(2x)}{x^2} dx.$$

$$\text{№7. } 1) \int_{1,4}^{2,1} \frac{dx}{\sqrt{3x^2 - 1}};$$

$$2) \int_{0,8}^{1,6} \frac{\lg(x^2 + 1)}{x} dx.$$

$$\text{№8. } 1) \int_{1,2}^{2,4} \frac{dx}{\sqrt{0,5 + x^2}};$$

$$2) \int_{0,4}^{1,2} \frac{\cos x}{x + 2} dx.$$

$$\text{№9. } 1) \int_{0,4}^{1,2} \frac{dx}{\sqrt{3 + x^2}};$$

$$2) \int_{0,4}^{1,2} (2x + 0,5) \sin x dx.$$

$$\text{№10. } 1) \int_{0,6}^{1,5} \frac{dx}{\sqrt{1 + 2x^2}};$$

$$2) \int_{0,4}^{0,8} \frac{\text{tg}(x^2 + 0,5)}{1 + 2x^2} dx.$$

$$\text{№11. } 1) \int_2^{3,5} \frac{dx}{\sqrt{x^2 - 1}};$$

$$2) \int_{0,18}^{0,98} \frac{\sin x}{x + 1} dx.$$

$$\text{№12. } 1) \int_{0,5}^{1,3} \frac{dx}{x^2 + 2};$$

$$2) \int_{0,2}^{1,8} \sqrt{x + 1} \cos(x^2) dx.$$

$$\text{№13. } 1) \int_{1,2}^{2,6} \frac{dx}{\sqrt{x^2 + 0,6}};$$

$$2) \int_{1,4}^3 x^2 \lg x dx.$$

$$\text{№14. } 1) \int_{1,4}^{2,2} \frac{dx}{\sqrt{3x^2 + 1}};$$

$$2) \int_{1,4}^{2,2} \frac{\lg(x^2 + 2)}{x + 1} dx.$$

$$\text{№15. } 1) \int_{0,8}^{1,8} \frac{dx}{\sqrt{x^2 + 4}};$$

$$2) \int_{0,4}^{1,2} \frac{\cos(x^2)}{x + 1} dx.$$

$$\text{№16. } 1) \int_{1,6}^{2,2} \frac{dx}{\sqrt{x^2 + 2,5}};$$

$$2) \int_{0,8}^{1,6} (x^2 + 1) \sin(x - 0,5) dx.$$

$$\text{№17. } 1) \int_{0,6}^{1,6} \frac{dx}{\sqrt{x^2 + 0,8}};$$

$$2) \int_{0,6}^{1,4} x^2 \cos x dx.$$

№18.	1) $\int_{1,2}^2 \frac{dx}{\sqrt{x^2 + 1,2}};$	2) $\int_{1,2}^2 \frac{\lg(x^2 + 3)}{2x} dx.$
№19.	1) $\int_{1,4}^2 \frac{dx}{\sqrt{2x^2 + 0,7}};$	2) $\int_{2,5}^{3,3} \frac{\lg(x^2 + 0,8)}{x-1} dx.$
№20.	1) $\int_{3,2}^4 \frac{dx}{\sqrt{0,5x^2 + 1}};$	2) $\int_{0,5}^{1,2} \frac{\operatorname{tg}(x^2)}{x+1} dx.$
№21.	1) $\int_{0,8}^{1,7} \frac{dx}{\sqrt{2x^2 + 0,3}};$	2) $\int_{1,3}^{2,1} \frac{\sin(x^2 - 1)}{2\sqrt{x}} dx.$
№22.	1) $\int_{1,2}^{2,0} \frac{dx}{\sqrt{0,5x^2 + 1,5}};$	2) $\int_{0,2}^{1,0} (x+1) \cos(x^2) dx.$
№23.	1) $\int_{2,1}^{3,6} \frac{dx}{\sqrt{x^2 - 3}};$	2) $\int_{0,8}^{1,2} \frac{\sin(x^2 - 0,4)}{x+2} dx.$
№24.	1) $\int_{1,3}^{2,5} \frac{dx}{\sqrt{0,2x^2 + 1}};$	2) $\int_{0,15}^{0,63} \sqrt{x+1} \lg(x+3) dx.$
№25.	1) $\int_{0,6}^{1,4} \frac{dx}{\sqrt{12x^2 + 0,5}};$	2) $\int_{1,2}^{2,8} \frac{\lg(1+x^2)}{2x-1} dx.$
№26.	1) $\int_{1,3}^{2,1} \frac{dx}{\sqrt{3x^2 - 0,4}};$	2) $\int_{0,6}^{0,72} (\sqrt{x} + 1) \operatorname{tg} 2x dx.$
№27.	1) $\int_{1,4}^{2,6} \frac{dx}{\sqrt{1,5x^2 + 0,7}};$	2) $\int_{0,8}^{1,2} \frac{\cos x}{x^2 + 1} dx.$
№28.	1) $\int_{0,15}^{0,5} \frac{dx}{\sqrt{2x^2 + 1,6}};$	2) $\int_{1,2}^{2,8} \left(\frac{x}{2} + 1\right) \sin \frac{x}{2} dx.$
№29.	1) $\int_{2,3}^{0,5} \frac{dx}{\sqrt{x^2 - 4}};$	2) $\int_{0,8}^{1,6} \frac{\lg(x^2 + 1)}{x+1} dx.$
№30.	1) $\int_{0,32}^{0,66} \frac{dx}{\sqrt{x^2 + 2,3}};$	2) $\int_{1,6}^{3,2} \frac{x}{2} \lg\left(\frac{x^2}{2}\right) dx.$

4.10 Розв'язання задач Коші

4.10.1 Розв'язання задач Коші за допомогою методу ламаних

Скласти розв'язання задачі Коші для звичайного диференційного рівняння першого порядку удосконаленим методом ламаних на відрізку $[0,2;1,2]$ з кроком $h = 0,1$ при початковій умові $y(0,2) = 0,25$.

Приклад виконання завдання

$$y' = 0,185 (x^2 + \cos 0,7 x) + 1,843y.$$

Використовуємо формулу $y_{i+1} = y_i + h y'_{i+\frac{1}{2}}$,

де $y'_{i+\frac{1}{2}} = y'(x_i + \frac{h}{2} + y'_{i+\frac{1}{2}})$,

$$y_{i+\frac{1}{2}} = y_i + \frac{h}{2} y'_i. \quad (1)$$

Викликаємо програму **EXCEL**

	A	B	C	D	E	F	G	H	I
1	i	x _i	y _i	y' _i	hy _i /2	x _i +h/2	y _i +1/2	y' _i +1/2	hy' _i +1/2
2	0	0,2	0,25	0,65134	0,032567	0,25	0,282567	0,7145	0,0715
3	1	0,3	1,01458	0,658336	0,032917	0,35	0,282917	0,71458	0,07141
4	2	0,4	0,321451	0,799829	0,039991	0,45	0,361442	0,723554	0,072355
5	3	0,5	0,393806	0,945819	0,047291	0,55	0,441097	0,879498	0,08795
6	4	0,6	0,481756	1,123398	0,05617	0,65	0,537926	1,040362	0,104036
7	5	0,7	0,585792	1,333496	0,066675	0,75	0,652467	1,235738	0,123574
8	6	0,8	0,709366	1,582504	0,079125	0,85	0,788491	1,466644	0,146664
9	7	0,9	0,85603	1,876999	0,09385	0,95	0,94988	1,740059	0,174006
10	8	1	1,030036	2,224853	0,111243	1,05	1,141279	2,063172	0,206317
11	9	1,1	1,236353	2,635263	0,131763	1,15	1,368117	2,444578	0,244458
12	10	1,2	1,480811	3,119016	0,155951	1,25	1,636762	2,894327	0,289433

Ставимо курсор в комірку A1, записуємо індекс i потім переходимо в комірку B1 – записуємо x_i, так до I1 включно.

Після цього переходимо на стовпець A і в комірці A3 – значення 1.

Виділяємо ці комірки і мишею за допомогою чорного квадратики при натиснутій лівій клавіші (комірка змінить своє обрамлення) протягуємо курсор до A12 включно, тоді клавішу мишки відпускаємо.

Переходимо на комірку B2 і записуємо початкове значення аргументу x –0,2, в комірці B3 – значення 0,3.

Тепер аналогічно попередній процедурі зі стовпцем A протягуємо курсор до B12. В результаті надаємо значення аргументу x від 0,2 до 1,2.

В комірці C2 задаємо початкове значення функції y – 0,25.

В комірці D2 записуємо формулу:

= 0,185*(B2^2+ cos(07*B2)) + 1,843*G2 і натискаємо клавішу **ENTER**.

В комірці E2 записуємо формулу: =(0,1*D2)/2 і натискаємо клавішу **ENTER**.

Переходимо в комірку F2 і записуємо формулу: =B2+0,05 і натискаємо клавішу **ENTER**. В комірці G2 записуємо формулу: =C2+E2 (тобто визначаємо $y_{0+\frac{1}{2}}$), натискаємо клавішу **ENTER**.

В комірці H2 записуємо формулу: =(F2^2+cos(0.7*F2)+0.843*G2), натискаємо клавішу **ENTER**.

Переходимо в комірку I2, записуємо формулу: =0,1*H2 і натискаємо клавішу **ENTER**.

В результаті отримано необхідні результати для визначення y_2 ($i=1$) згідно з формулою: $y_{i+1} = y_i + hy'_{i+\frac{1}{2}}$.

Далі переходимо в комірку C3 і записуємо формулу: =C2+I2, натискаємо клавішу **ENTER**.

Виділяємо комірку D2 і мишею за допомогою чорного квадратика при натиснутій лівій клавіші протягуємо курсор в комірку D3. Аналогічну процедуру виконуємо з комірками E3 – I2. Після цього повертаємось в комірку C3, виділяємо комірки C3 – I3 і за допомогою чорного квадратика при натиснутій лівій клавіші протягуємо курсор в комірку I12.

Завдання 6

Скласти розв'язання задачі Коші для звичайного диференціального рівняння першого порядку покращеним методом ломаних на відрізку $[0,2;1,2]$ з кроком $h = 0,1$ при початковій умові $y(0,2) = 0,25$. Всі розрахунки виконувати з чотирма десятковими знаками.

№ 1. $y' = 0.133(x^2 + \sin 2x) + 0.872y$.

№ 2. $y' = 0.215(x^2 + \cos 1,5x) + 1.283y$.

№ 3. $y' = 0.158(x^2 + \sin 0,8x) + 1.164y$.

№ 4. $y' = 0.173(x^2 + \cos 0.7x) + 0.754y$.

№ 5. $y' = 0.221(x^2 + \sin 1.2x) + 0.452y$.

№ 6. $y' = 0.163(x^2 + \cos 0.4x) + 0.653y$.

№ 7. $y' = 0.218(x^2 + \sin 1.6x) + 0.718y$.

№ 8. $y' = 0.145(x^2 + \cos 0.5x) + 0.842y$.

№ 9. $y' = 0.213(x^2 + \sin 1.8x) + 0.368y$.

№ 10. $y' = 0.127(x^2 + \cos 0.6x) + 0.573y$.

№ 11. $y' = 0.232(x^2 + \sin 1.4x) + 1.453y$.

№ 12. $y' = 0.417(x^2 + \cos 0.8x) + 0.972y$.

№ 13. $y' = 0.324(x^2 + \sin 1,5x) + 1,612y$.

№ 14. $y' = 0.263(x^2 + \cos 1,2x) + 0,453y$.

- № 15. $y' = 0.372(x^2 + \sin 0,7x) + 0.758y$.
- № 16. $y' = 0.343(x^2 + \cos 0,4x) + 1,315y$.
- № 17. $y' = 0.276(x^2 + \sin 1,6x) + 0,988y$.
- № 18. $y' = 0.276(x^2 + \cos 0,6x) + 1,534y$.
- № 19. $y' = 0.258(x^2 + \sin 0,4x) + 0.724y$.
- № 20. $y' = 0.317(x^2 + \cos 1,4x) + 1.344y$.
- № 21. $y' = 0.166(x^2 + \sin 1,1x) + 0.883y$.
- № 22. $y' = 0.215(x^2 + \cos 0,9x) + 1.213y$.
- № 23. $y' = 0.188(x^2 + \sin 1,5x) + 0,885y$.
- № 24. $y' = 0.314(x^2 + \cos 0,6x) + 0,772y$.
- № 25. $y' = 0.418(x^2 + \sin 1,2x) + 1,344y$.
- № 26. $y' = 0.273(x^2 + \cos 1,3x) + 0,687y$.
- № 27. $y' = 0.176(x^2 + \sin 0,8x) + 1,247y$.
- № 28. $y' = 0.245(x^2 + \cos 0,4x) + 1,452y$.
- № 29. $y' = 0.184(x^2 + \sin 0,6x) + 0.747y$.
- № 30. $y' = 0.212(x^2 + \cos 1,2x) + 1.544y$.

4.10.2 Розв'язання задачі Коші за допомогою метода Ейлера.

Скласти таблицю значень інтеграла диференціального рівняння, яке розглядалось в п. 4.10.1.

Приклад виконання завдання

Для розв'язання використовуємо таку формулу:

$$y_{i+1} = y_i + h y'(x_i, y_i) .$$

Аналогічно п. 4.10.1 складаємо за допомогою програми EXCEL наступну таблицю:

	A	B	C	D	E	F
1	i	x _i	y _i	y' _i	h y' _i	y _{i+1}
2	0	0,2	0,2228	2,228	0,2228	0,24508
3	1	1,2	0,33695	3,369496	0,33695	0,370645
4	2	2,2	0,481444	4,814444	0,481444	0,529589
5	3	3,2	0,66146	6,614603	0,66146	0,727606
6	4	4,2	0,882869	8,828689	0,882869	0,971156
7	5	5,2	1,149476	11,49476	1,149476	1,264423
8	6	6,2	1,46123	14,6123	1,46123	1,607353
9	7	7,2	1,81425	18,1425	1,81425	1,995676
10	8	8,2	2,202648	22,02648	2,202648	2,422913
11	9	9,2	2,621297	26,21297	2,621297	2,883427
12	10	10,2	3,068247	30,68247	3,068247	3,375072

Операції з комітками стовпців А, В, С, D аналогічні п. 4.10.1. На відміну від п. 4.10.1. в комітці E2 записуємо формулу: =0,1*D2, а в комітці F2 формулу: =C2+0,1*E2. В комітці С3 записуємо формулу: =F2. Після отримання розрахунків в комітках С2-F2, виділяємо комітки D2 - F2 і за допомогою чорного квадратики при натиснутій лівій клавіші протягуємо курсор в комітку F3. Тепер виділяємо комітки С3 - F3 і протягуємо курсор в комітку F12.

Завдання 7

Використовуючи метод Ейлера, скласти таблицю приблизних значень інтеграла диференційного рівняння $y' = f(x, y)$, який задовольняє початкові умови $y(x_0) = y_0$ на відрізку $[a; b]$; крок $h = 0,1$. Всі обчислення вести з чотирма десятковими знаками:

- | | | |
|---|--------------------|--------------------|
| 1) $y' = x + \cos \frac{y}{\sqrt{5}}$, | $y_0(1,8) = 2,6$, | $x \in [1,8; 2,8]$ |
| 2) $y' = x + \cos \frac{y}{3}$, | $y_0(1,6) = 4,6$, | $x \in [1,6; 2,6]$ |
| 3) $y' = x + \cos \frac{y}{\sqrt{10}}$, | $y_0(0,6) = 0,8$, | $x \in [0,6; 1,6]$ |
| 4) $y' = x + \cos \frac{y}{\sqrt{7}}$, | $y_0(0,5) = 0,6$, | $x \in [0,5; 1,5]$ |
| 5) $y' = x + \cos \frac{y}{\pi}$, | $y_0(1,7) = 5,3$, | $x \in [1,7; 2,7]$ |
| 6) $y' = x + \cos \frac{y}{2,25}$, | $y_0(1,4) = 2,2$, | $x \in [1,4; 2,4]$ |
| 7) $y' = x + \cos \frac{y}{e}$, | $y_0(1,4) = 2,5$, | $x \in [1,4; 2,4]$ |
| 8) $y' = x + \cos \frac{y}{\sqrt{2}}$, | $y_0(0,8) = 1,4$, | $x \in [0,8; 1,8]$ |
| 9) $y' = x + \cos \frac{y}{\sqrt{3}}$, | $y_0(1,2) = 2,1$, | $x \in [1,2; 2,2]$ |
| 10) $y' = x + \cos \frac{y}{\sqrt{11}}$, | $y_0(2,1) = 2,5$, | $x \in [2,1; 3,1]$ |

- | | | |
|---|-------------------|-------------------|
| 11) $y' = x + \sin \frac{y}{\sqrt{5}},$ | $y_0(1,8) = 2,6,$ | $x \in [1,8;2,8]$ |
| 12) $y' = x + \sin \frac{y}{3},$ | $y_0(1,6) = 4,6,$ | $x \in [1,6;2,6]$ |
| 13) $y' = x + \sin \frac{y}{\sqrt{10}},$ | $y_0(0,6) = 0,8,$ | $x \in [0,6;1,6]$ |
| 14) $y' = x + \sin \frac{y}{\sqrt{7}},$ | $y_0(0,5) = 0,6,$ | $x \in [0,5;1,5]$ |
| 15) $y' = x + \sin \frac{y}{\pi},$ | $y_0(1,7) = 5,3,$ | $x \in [1,7;2,7]$ |
| 16) $y' = x + \sin \frac{y}{\sqrt{2,8}},$ | $y_0(1,4) = 2,2,$ | $x \in [1,4;2,4]$ |
| 17) $y' = x + \sin \frac{y}{e},$ | $y_0(1,4) = 2,5,$ | $x \in [1,4;2,4]$ |
| 18) $y' = x + \sin \frac{y}{\sqrt{2}},$ | $y_0(0,8) = 1,3,$ | $x \in [0,8;1,8]$ |
| 19) $y' = x + \sin \frac{y}{\sqrt{3}},$ | $y_0(1,1) = 1,5,$ | $x \in [1,1;2,1]$ |
| 20) $y' = x + \sin \frac{y}{\sqrt{11}},$ | $y_0(0,6) = 1,2,$ | $x \in [0,6;1,6]$ |
| 21) $y' = x + \sin \frac{y}{1,25},$ | $y_0(0,5) = 1,8,$ | $x \in [0,5;1,5]$ |
| 22) $y' = x + \sin \frac{y}{\sqrt{15}},$ | $y_0(0,2) = 1,1,$ | $x \in [0,2;1,2]$ |
| 23) $y' = x + \sin \frac{y}{\sqrt{1,3}},$ | $y_0(0,1) = 0,8,$ | $x \in [0,1;1,1]$ |
| 24) $y' = x + \sin \frac{y}{\sqrt{0,3}},$ | $y_0(0,5) = 0,6,$ | $x \in [0,5;1,5]$ |
| 25) $y' = x + \sin \frac{y}{\sqrt{0,7}},$ | $y_0(1,2) = 1,4,$ | $x \in [1,2;2,2]$ |
| 26) $y' = x + \cos \frac{y}{1,25},$ | $y_0(0,4) = 0,8,$ | $x \in [0,4;1,4]$ |
| 27) $y' = x + \cos \frac{y}{\sqrt{1,5}},$ | $y_0(0,3) = 0,9,$ | $x \in [0,3;1,3]$ |

$$28) y' = x + \cos \frac{y}{\sqrt{1,3}}, \quad y_0(1,2) = 1,8, \quad x \in [1,2; 2,2].$$

$$29) y' = x + \cos \frac{y}{\sqrt{0,3}}, \quad y_0(0,7) = 2,1, \quad x \in [0,7; 1,7].$$

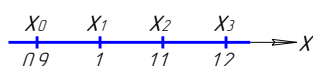
$$30) y' = x + \cos \frac{y}{\sqrt{0,7}}, \quad y_0(0,9) = 1,7, \quad x \in [0,9; 1,9].$$

4.11 Метод скінченних різниць

Методом скінчених різниць з точністю до 0,001 знайти розв'язок крайової задачі

$$\begin{cases} y'' - xy' + 2y = x + 1, \\ y(0,9) - 0,5y'(0,9) = 2, \\ y(1,2) = 1. \end{cases}$$

Поділимо відрізок $[0,9; 1,2]$ на частини з кроком $h = 0,1$.



Отримаємо чотири вузлові точки з абсцисами $x_0 = 0,9$; $x_1 = 1$; $x_2 = 1,1$; $x_3 = 1,2$.

Дане рівняння у внутрішніх точках $x_1=1$; $x_2 = 1,1$ замінюємо кінцевим рівнянням

$$\frac{y_{i+1} - 2y_i + y_{i-1}}{h^2} - x_i \frac{y_{i+1} - y_{i-1}}{2h} + 2y_i = x_{i+1} \quad (1)$$

Використовуючи крайові умови, складемо скінченно-різницеві рівняння в кінцевих граничних точках:

$$\begin{cases} y_0 - 0,5 \frac{y_1 - y_0}{h} = 2, & (2) \\ y_3 = 1. & (3) \end{cases}$$

Зведемо подібні члени і, враховуючи що $h = 0,1$, перепишемо рівняння (1), (2) відповідно у вигляді:

$$y_{i-1} (2+0,1x_i) - 4y_i (1-0,1) + y_{i+1} (2-0,1x_i) = 0,02(x_{i+1}), \quad (4)$$

$$1,2y_0 - y_1 = 0,4. \quad (5)$$

Підставляючи індекс $i = 1,2$ в (4) та враховуючи (3), отримаємо з врахуванням (5) таку систему алгебраїчних рівнянь:

$$\begin{cases} 1,2y_0 - y_1 = 0,4, \\ 2,1y_0 - 3,69y_1 + 1,9y_2 = 0,04, \\ 1,11y_1 - 3,96y_2 + 1,89y_3 = 0,042. \end{cases} \quad (6)$$

Запишемо систему (6) в матричній формі

$$\begin{pmatrix} 1,2 & -1 & 0 \\ 2,1 & -3,69 & 1,9 \\ 1 & 1,11 & -3,96 \end{pmatrix} \cdot \begin{pmatrix} y_0 \\ y_1 \\ y_2 \end{pmatrix} = \begin{pmatrix} 0,4 \\ 0,04 \\ -1,848 \end{pmatrix}.$$

Отже, маємо таке матричне рівняння

$$A \cdot y = B.$$

Для визначення невідомих y_0 , y_1 і y_2 перепишемо отримане рівняння у вигляді: $y = A^{-1} B$.

За допомогою програми EXCEL аналогічно п. 2 знаходимо y_0 , y_1 і y_2 .

	A	B	C	D	E	F
1		1,2	-1	0		0,4
2	A=	2,1	-3,96	1,9	B=	0,04
3		0	1,11	-3,96		-1,848
4		1,7027	-0,4968	-2384		
5	A ⁻¹ =	1,0437	-0,5962	-0,286		
6		0,2924	-0,1671	-0,3327		
7						
8			1,1105			
9	y=	A ⁻¹ *B=	0,9326			
10			0,7374			

Завдання 8

Використовуючи метод скінченних різниць, скласти розв'язання крайової задачі для звичайного диференціального рівняння з точністю $\varepsilon = 10^{-3}$; крок $h = 0,1$.

№ 1. $y'' + \frac{y'}{x} + 2y = x$,

№ 2. $y'' - xy + 2y = x + 1$

$$\begin{cases} y(0,7) = 0,5, \\ 2y(1) + 3y'(1) = 1,2. \end{cases}$$

$$\begin{cases} y(0,9) - 0,5y'(0,9) = 2, \\ y(1,2) = 1. \end{cases}$$

№ 3. $y'' + xy' + y = x + 1$

№ 4. $y'' + xy' + y = x + 1$

$$\begin{cases} y(0,5) + 2y'(0,5) = 1, \\ y'(0,8) = 1,2. \end{cases}$$

$$\begin{cases} y(0,2) = 2, \\ 0,5y(0,5) - y'(0,5) = 1. \end{cases}$$

№ 5. $y'' + 2y' - xy = x^2$
 $\begin{cases} y'(0,6) = 0,7, \\ y(0,9) - 0,5y'(0,9) = 1. \end{cases}$

№ 6. $y'' + 2y' - xy = x^2$
 $\begin{cases} y(1,1) - 0,5y'(1,1) = 2, \\ y'(1,4) = 4. \end{cases}$

№ 7. $y'' - 3y' + \frac{y}{x} = 1$
 $\begin{cases} y'(0,4) = 2, \\ y(0,7) + 2y'(0,7) = 0,7. \end{cases}$

№ 8. $y'' + 3y' - \frac{y}{x} = x + 1,$
 $\begin{cases} y'(1,2) = 1, \\ 2y(1,5) - y'(1,5) = 0,5. \end{cases}$

№ 9. $y'' - \frac{y'}{2} + 3y = 2x^2,$
 $\begin{cases} y(1) + 2y'(1) = 0,6, \\ y(1,3) = 1. \end{cases}$

№ 10. $y'' - 3y' + \frac{y}{x} = 1$
 $\begin{cases} 2y(1,3) - y'(1,3) = 1, \\ y(1,6) = 3 \end{cases}$

№ 11. $y'' + 2xy' - y = 0,4,$
 $\begin{cases} y(0,3) + y'(0,3) = 1, \\ y'(0,6) = 2. \end{cases}$

№ 12. $y'' - 0,5y' + y = 2$
 $\begin{cases} y(0,4) = 1,2, \\ y(0,7) + 2y'(0,7) = 1,4. \end{cases}$

№ 13. $y'' + \frac{2y'}{x} - 3y = 2$
 $\begin{cases} y'(0,8) = 1,5, \\ 2y(1,1) + y'(1,1) = 3. \end{cases}$

№ 14. $y'' + 2x^2y' + y = x$
 $\begin{cases} 2y(0,5) - y'(0,5) = 1, \\ y(0,8) = 3. \end{cases}$

№ 15. $y'' - 3xy' + 2y = 1,5$
 $\begin{cases} y'(0,7) = 1,3, \\ 0,5y(1) + y'(1) = 2. \end{cases}$

№ 16. $y'' + 2xy' - 2y = 0,6$
 $\begin{cases} y'(2) = 1, \\ 0,4y(2,3) - y'(2,3) = 1. \end{cases}$

№ 17. $y'' + \frac{y'}{x} - 0,4y = 2x$
 $\begin{cases} y(0,6) - 0,3y'(0,6) = 0,6, \\ y'(0,9) = 1,7. \end{cases}$

№ 18. $y'' - \frac{y'}{2x} + 0,8xy = x$
 $\begin{cases} y(1,7) + 1,2y'(1,7) = 2, \\ y'(2) = 1. \end{cases}$

№ 19. $y'' - \frac{y'}{3} + xy = 2$
 $\begin{cases} y(0,8) = 1,6, \\ 3y(1,1) - 0,5y'(1,1) = 1. \end{cases}$

№ 20. $y'' + 0,8y' - xy = 1,4$
 $\begin{cases} y(1,8) = 0,5, \\ 2y(2,1) + y'(2,1) = 1,7. \end{cases}$

№ 21. $y'' + 2y' - \frac{y}{x} = \frac{1}{x}$

№ 22. $y'' - \frac{y'}{4} + \frac{2y}{x} = \frac{x}{2}$

$$\begin{cases} 0,5y(0,9) + y'(0,9) = 1, \\ y(1,2) = 0,8. \end{cases}$$

$$\begin{cases} 1,5y(1,3) - y'(1,3) = 0,6, \\ 2y(1,6) = 0,3. \end{cases}$$

№ 23. $y'' - 0,5y' + 0,5xy = 2x$

№ 24. $y'' + 2y' - 1,5xy = \frac{2}{x}$

$$\begin{cases} y'(1) = 0,5, \\ 2y(1,3) - y'(1,3) = 2. \end{cases}$$

$$\begin{cases} y'(0,8) = 1, \\ y(1,1) + 2y'(1,1) = 1. \end{cases}$$

№ 25. $y'' + 2xy' - 1,5 = x$

№ 26. $y'' - \frac{xy'}{2} + 0,5y = 2x$

$$\begin{cases} 1,4y(1,1) + 0,5y'(1,1) = 2, \\ y'(1,4) = 2,5. \end{cases}$$

$$\begin{cases} 0,4y(0,2) - y'(0,2) = 1,5, \\ y'(0,5) = 0,4. \end{cases}$$

№ 27. $y'' + 0,6xy' - 2y = 1$

№ 28. $y'' + \frac{y'}{2x} - y = 2x$

$$\begin{cases} y(1,5) = 0,6, \\ 2y(1,8) - 0,8y'(1,8) = 3. \end{cases}$$

$$\begin{cases} y(0,6) = 1,3, \\ 0,5y(0,9) - 1,2y'(0,9) = 1. \end{cases}$$

№ 29. $y'' - 0,5x^2y' + 2y = x^2$
 $\begin{cases} y(1,6) + 0,7y'(1,6) = 2, \\ y(1,9) = 0,8. \end{cases}$

№ 30. $y'' - xy' + 2xy = 0,8$
 $\begin{cases} y(1,2) - 0,5y'(1,2) = 1, \\ y'(1,5) = 2. \end{cases}$

5 ПРИКЛАДИ ВИКОНАННЯ ЗАВДАННЯ ЗА ДОПОМОГОЮ ПРОГРАМИ КОМПАС

5.1 Основні положення для графічного визначення опорних зусиль конструкції

Додавання векторів

Векторна сума двох векторів \vec{F}_1 і \vec{F}_2 є діагоналлю паралелограма \vec{R} , побудованого за допомогою векторів як його сторін, зображених у вибраному масштабі (рис. 5.1).

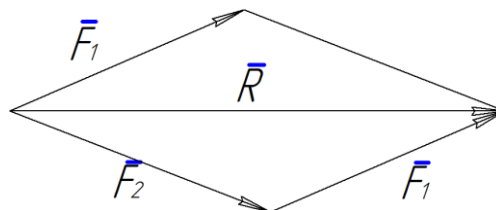


Рисунок 5.1

З рис. 5.1 маємо, що вектор \mathbf{R} можна побудувати по іншому. Наприклад, зображаємо вектор \mathbf{F}_2 у вибраному масштабі та у відповідному напрямку.

Через кінець даного вектора проводимо аналогічно вектор \mathbf{F}_1 . З'єднуємо початок вектора \mathbf{F}_2 з кінцем вектора \mathbf{F}_1 , в результаті отримуємо вектор \mathbf{R} .

Для додавання трьох і більше векторів процедура аналогічна. Так, для трьох векторів \mathbf{F}_1 , \mathbf{F}_2 і \mathbf{F}_3 (рис. 5.2) маємо: $\mathbf{R}=\mathbf{F}_1+\mathbf{F}_2+\mathbf{F}_3$ (рис. 5.3).

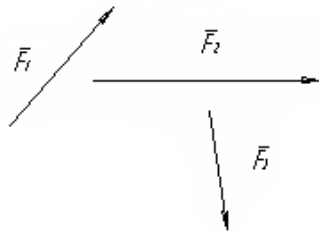


Рисунок 5.2

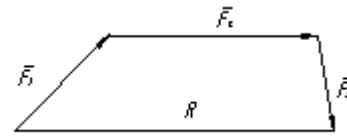


Рисунок 5.3

Якщо розглянути операцію додавання векторів \mathbf{F}_1 , \mathbf{F}_2 , \mathbf{F}_3 і \mathbf{F}_4 (рис. 5.4), то

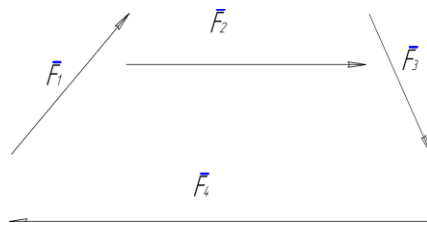


Рисунок 5.4

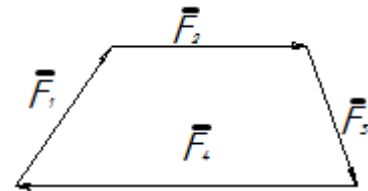


Рисунок 5.5

отримуємо замкнутий силовий багатокутник, тобто їх сума (\mathbf{R}) дорівнює нулеві (рис. 5.5).

Пряма, по якій направлена сила, називається лінією дії сили. Це поняття необхідне для того, щоб можна було переміщувати сили по відповідних прямих з метою їх додавання.

Систему сил (їх сукупність), які діють на відповідний матеріальний об'єкт, класифікують як збіжна або довільна система сил.

Збіжною системою називають таку систему сил, лінії дії яких перетинаються в одній точці. В іншому випадку систему сил називають довільною.

Якщо лінії дії сил належать одній площині, то така система сил називається плоскою системою сил.

Введемо поняття механічних в'язей, тобто тіл, які обмежують свободу руху даного твердого тіла.

Сила або система сил, які виражають механічну дію в'язі на тіло, називаються реакцією в'язі.

Розглянемо деякі види в'язей, які необхідні нам для подальших розрахунків.

Гладенька поверхня

Це поверхня, на якій коефіцієнт тертя дорівнює нулю (рис. 5.6).

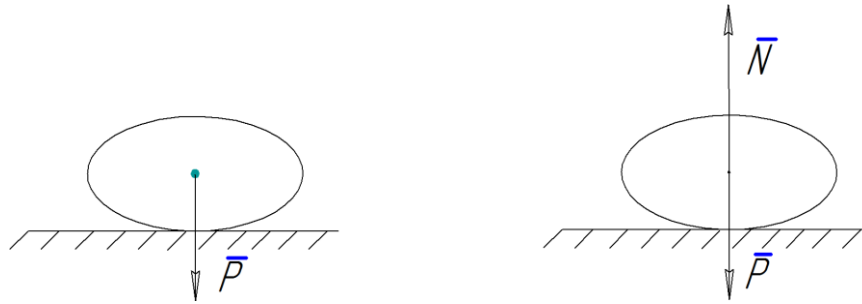


Рисунок 5.6

Ідеальний стрижень

Це невагомий стрижень який закріплений шарнірно з обох сторін (реакція в'язі направлена по стрижню) (рис. 5.7):

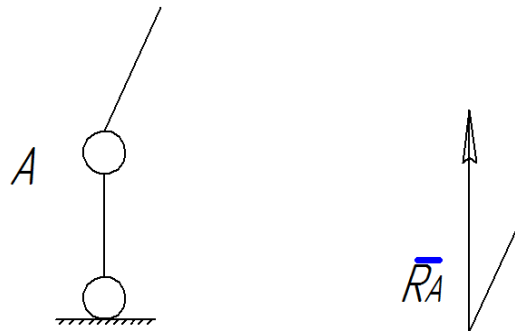


Рисунок 5.7
Ідеальний блок

Якщо тертям на блоці нехтувати, то натяг з обох його сторін однаковий (рис. 5.8).

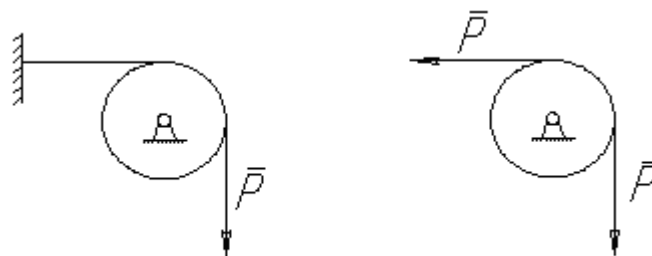


Рисунок 5.8

Рухома та нерухома шарнірна опора

Реакція \mathbf{R}_A такої опори направлена по нормалі до поверхні, на яку опираються котки рухомої опори.

Реакція \mathbf{R}_B такої опори проходить через вісь шарніра і може мати будь-який напрямок в площині креслення. При розв'язанні задач реакцію \mathbf{R}_B зображають її складовими \mathbf{X}_B і \mathbf{Y}_B в напрямку осей координат (рис. 5.9).



Рисунок 5.9

Елементи графічної статки

Графічний метод розв'язання задач статки для плоскої системи сил оснований на побудовах силового і вірвовочного багатокутників.

Нехай на тверде тіло діє система трьох сил \mathbf{F}_1 , \mathbf{F}_2 , \mathbf{F}_3 (рис. 5.10, а). Фігура **abcd**, побудована з цих сил (рис. 5.10, б) називається силовим багатокутником.

Якщо кінець останньої сили збігається з початком першої, силовий багатокутник називається замкненим.

Візьмемо в площині силового багатокутника точку O (полюс), яка не лежить на сторонах багатокутника – променя Oa , Ov , Oc , Od , які пронумеруємо цифрами 0-1, 1-2, 2-3, 3-0 (ці цифри вказують номери сил, які сходяться у вершині, куди проведений відповідний промінь).

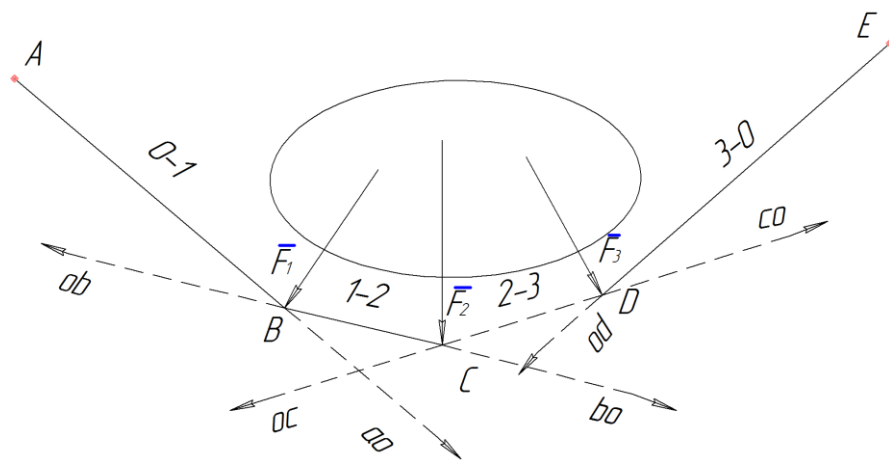


Рисунок 5.10, а

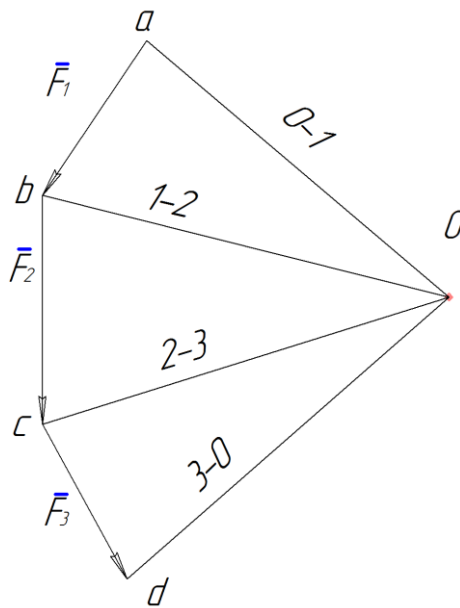


Рисунок 5.10, б

Візьмемо на основному рисунку (рис. 5.10, а) довільну точку А і проведемо з неї пряму, яка паралельна променю 0-1, до перетину її з лінією дії сили F_1 в точці В. З точки В проведемо пряму, паралельну променю 1-2, до перетину її з лінією дії сили F_2 в точці С і т. д. Побудована таким способом фігура ABCDE називається вірьвовочним багатокутником. Назва ця пояснюється тим, що якщо вірьовку закріпити в точках А і Е і прикласти до неї в точках В, С і D сили F_1 , F_2 , F_3 то вона при рівновазі набуде форми ламаної ABCDE. Вірьвовочний багатокутник називається замкненим, коли його крайні сторони (у нашому випадку АВ і DE) збігаються, тобто будуть направлені вздовж однієї прямої. В іншому випадку багатокутник називається незамкненим.

Розглянемо, наприклад, силу F_1 . Коли ми зображаємо цю силу окремо у вигляді вектора $\mathbf{a}\mathbf{v}$ (рис. 5.10, б), а потім з'єднуємо точки а і в з довільною точкою О, то ми цим самим розкладаємо силу \mathbf{F} на дві сили $\mathbf{a}\mathbf{O}$ і $\mathbf{v}\mathbf{O}$. Так з силового трикутника авО видно, що $\mathbf{F}_1 = \mathbf{a}\mathbf{v} = \mathbf{a}\mathbf{O} + \mathbf{v}\mathbf{O}$ (рис. 5.10, б). Але за аксіомою паралелограма сил, якщо $\mathbf{F}_1 = \mathbf{a}\mathbf{O} + \mathbf{v}\mathbf{O}$, то діючу на тіло силу F_1 можна замінити силами, рівними $\mathbf{a}\mathbf{O}$ і $\mathbf{v}\mathbf{O}$, і їх прикладемо в будь якій точці на лінії дії сили F_1 , наприклад, в точці В (рис. 5.10, а). Оскільки у вірьвовочному багатокутнику сторона АВ проводилась паралельно $\mathbf{a}\mathbf{O}$, а ВС – паралельно $\mathbf{v}\mathbf{O}$, то сила $\mathbf{a}\mathbf{O}$ буде напрямлена вздовж сторони АВ багатокутника, а сила $\mathbf{v}\mathbf{O}$ – вздовж ВС. Аналогічний результат отримаємо для всіх інших сил.

Таким чином, на рис. 5.10, б проведенням променів $\mathbf{a}\mathbf{O}$, $\mathbf{v}\mathbf{O}$ і т. д. кожна з сил F_1 , F_2 , F_3 розкладається на дві: $\mathbf{F}_1 = \mathbf{a}\mathbf{v} = \mathbf{a}\mathbf{O} + \mathbf{v}\mathbf{O}$, $\mathbf{F}_2 = \mathbf{v}\mathbf{c} = \mathbf{v}\mathbf{O} + \mathbf{c}\mathbf{O}$, $\mathbf{F}_3 = \mathbf{c}\mathbf{d} = \mathbf{c}\mathbf{O} + \mathbf{d}\mathbf{O}$.

Отже, зображення складових сил F_1 , F_2 , F_3 в точках В, С і D (рис. 5.10, а) призвело до того, що по лініям ВС і CD сили $\mathbf{v}\mathbf{O}$, $\mathbf{v}\mathbf{O}$ і $\mathbf{c}\mathbf{O}$, $\mathbf{c}\mathbf{O}$ взаємно врівноважується.

В результаті система сил F_1, F_2, F_3 дійсно буде замінена двома силами aO і dO , які направлені по крайнім сторонам AB і DE вірьовочного багатокутника.

Аналогічний результат отримуємо при будь якій кількості сил.

5.2 Визначення опорних зусиль у випадку плоскої збіжної системи сил

Приклад 1

Стержні AB і BC та трос BD підтримують вантаж вагою Q (рис. 5.11).

Дано:

$$Q = 50 \text{ Н}$$

$$\alpha = 30^\circ$$

$$\beta = 45^\circ$$

$$S_{AB} - ? \quad S_{BC} - ?$$

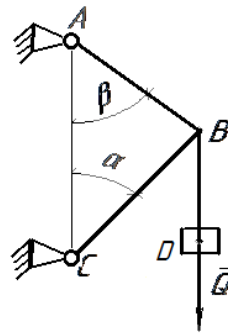



Рисунок 5.11

Зусилля в тросі дорівнює вазі тягарця Q .

Отже маємо невідомі два зусилля, знаходимо їх в такому порядку.

1. На панелі інструментів вибираємо кнопку і зображаємо точку на екрані.
2. Від точки за допомогою кнопки та вікна координат , що знаходиться внизу, де In – це довжина лінії, а an – кут нахилу лінії, задаємо потрібні розміри сили Q у відповідному масштабі, тим самим зображаємо вектор відомої сили Q . Щоб зобразити вектор, потрібно скористатися кнопкою .
3. Через початок вектора Q проводимо за допомогою кнопки лінію, яка паралельна одній з невідомих сил, які замінюють стержень або трос. Фіксуємо її за допомогою кнопки . Якщо операція виконана неправильно, то за допомогою кнопки виходимо для редагування. В іншому випадку через кінець вектора Q проводимо іншу лінію, яка паралельна іншій з невідомих сил і виконуємо операцію, аналогічну попередній. В результаті отримуємо замкнутий трикутник. За допомогою кнопки в кожній вершині трикутника проставляємо точки. Цим самим фіксуємо вершини трикутника.
4. В головному меню вибираємо команду **Удалить \ Вспомогательные кривые и точки \ В текущем виде**, видаляємо допоміжні лінії. З'єднуємо точки, які залишились, за допомогою кнопки і за напрямком сили Q вказуємо на цих відрізках стрілки (кнопка) так, щоб обхід стрілок по контуру був згідно з напрямком сили Q (рис. 5.12).

5. Підписуємо отримані невідомі сили і за допомогою вікна  вимірюємо їх довжини попередньо фіксуємо початок і кінець відрізка.

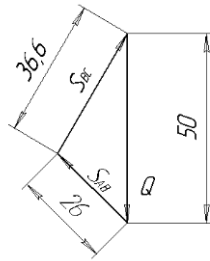


Рисунок 5.12

Приклад 2

Стержні АВ і ВС мають блок В, через який перекинута трос КD, до кінця якого прикріплено вантаж вагою Q (рис. 5.13).

При розрахунках розміром блока В нехтуємо і натяг з обох його сторін вважаємо однаковим – Q . Сили можна замінити однією (\bar{R}) за допомогою паралелограма сил або зображати їх послідовно як показано на рис. 5.14.

Дано:

$$Q = 50 \text{ Н}$$

$$\alpha = 30^\circ$$

$$\beta = 45^\circ$$

$$\gamma = 30^\circ$$

$$S_{AB} - ? \quad S_{BC} - ?$$

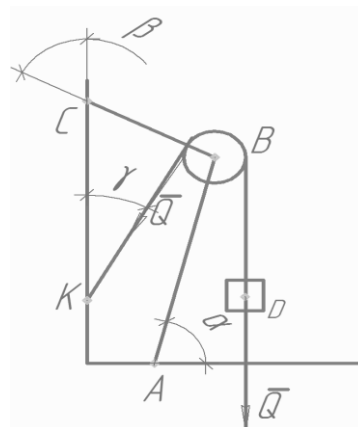









Рисунок 5.13

1. На панелі інструментів вибираємо кнопку  і зображаємо точку на екрані.
2. Від точки (рис. 5.14) за допомогою кнопки  та вікна координат, що знаходиться внизу, де **In** – це довжина лінії, а **an** – кут нахилу лінії, задаємо потрібні розміри сили Q у відповідному масштабі, тим самим зображаємо вектор відомої вертикальної сили Q . Щоб зобразити кінець вектора, потрібно натиснути на кнопку .
3. З кінця отриманого вектора Q аналогічно будуємо похилий вектор Q . Через кінець похилого вектора Q проводимо за допомогою кнопки  лінію, яка паралельна одній з невідомих сил, що замінюють стержень або трос. Фіксуємо її за допомогою кнопки . Якщо операція виконана неправильно, то за допомогою кнопки  виходимо для редагування. В іншому випадку через кінець вектора Q

проводимо іншу лінію, яка паралельна іншій з невідомих сил, і виконуємо операцію аналогічну попередній. В результаті отримуємо замкнутий трикутник. За допомогою кнопки  в кожній вершині трикутника ставимо точку. Цим самим фіксуємо вершини трикутника.

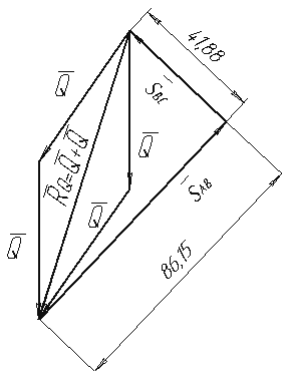





Рисунок 5.14

4. В головному меню вибираємо команду **Удалить \ Вспомогательные кривые и точки \ В текущем виде** та видаляємо допоміжні лінії. З'єднуємо точки, які залишились за допомогою кнопки , вказуємо на цих відрізках стрілки (кнопка ) так, щоб обхід стрілок по контуру був згідно з напрямком сил Q .

5. Підписуємо отримані невідомі сили і за допомогою вікна  вимірюємо їх довжини, попередньо фіксуємо початок і кінець відрізка.

Завдання 9

На схемах (рис. 5.15 – 5.17) наведено варіанти підвісу ліхтаря вагою Q . Знайти зусилля у тросі BC та стержні AB . Дані для розрахунку наведені в таблиці 5.1.

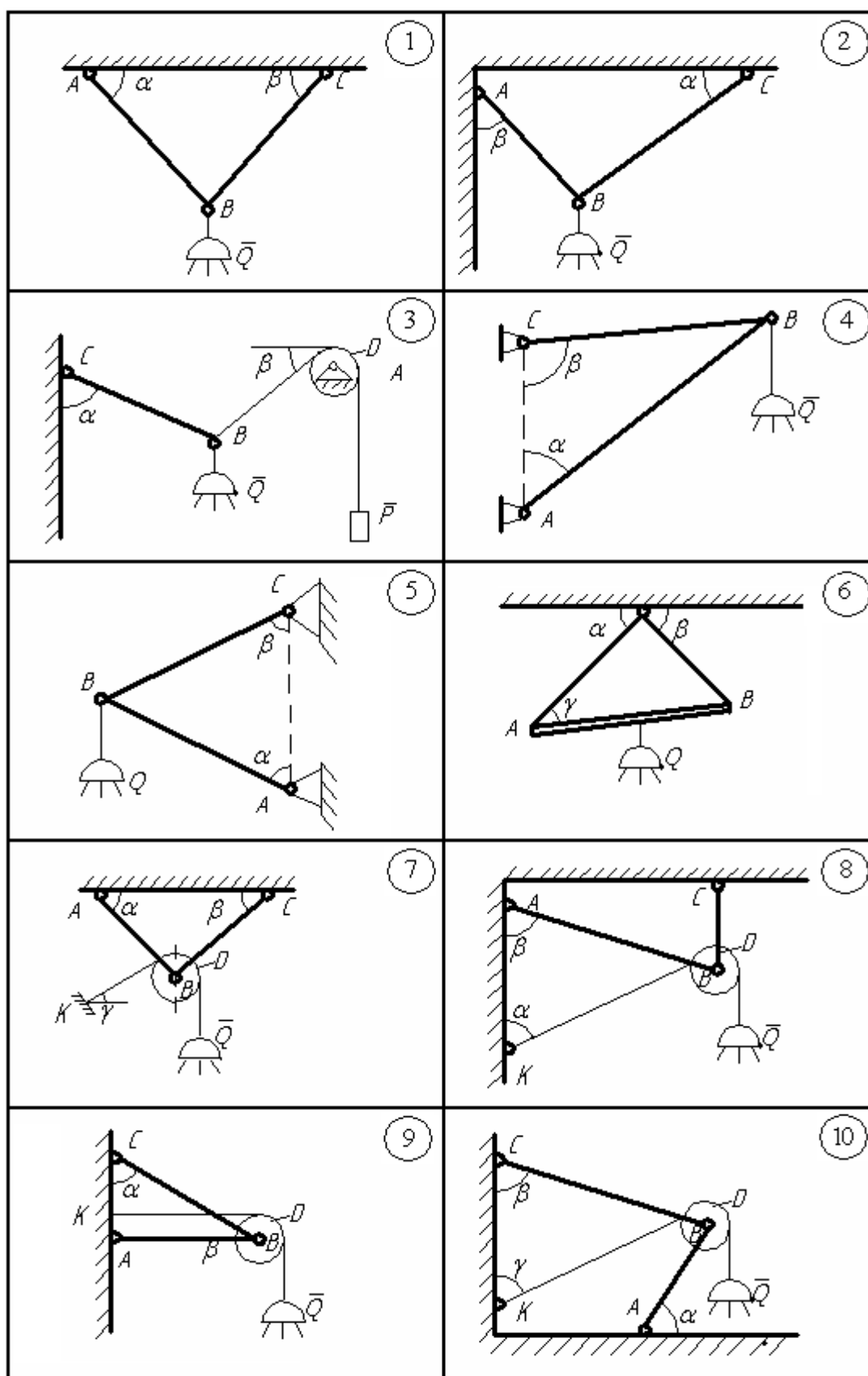


Рисунок 5.15

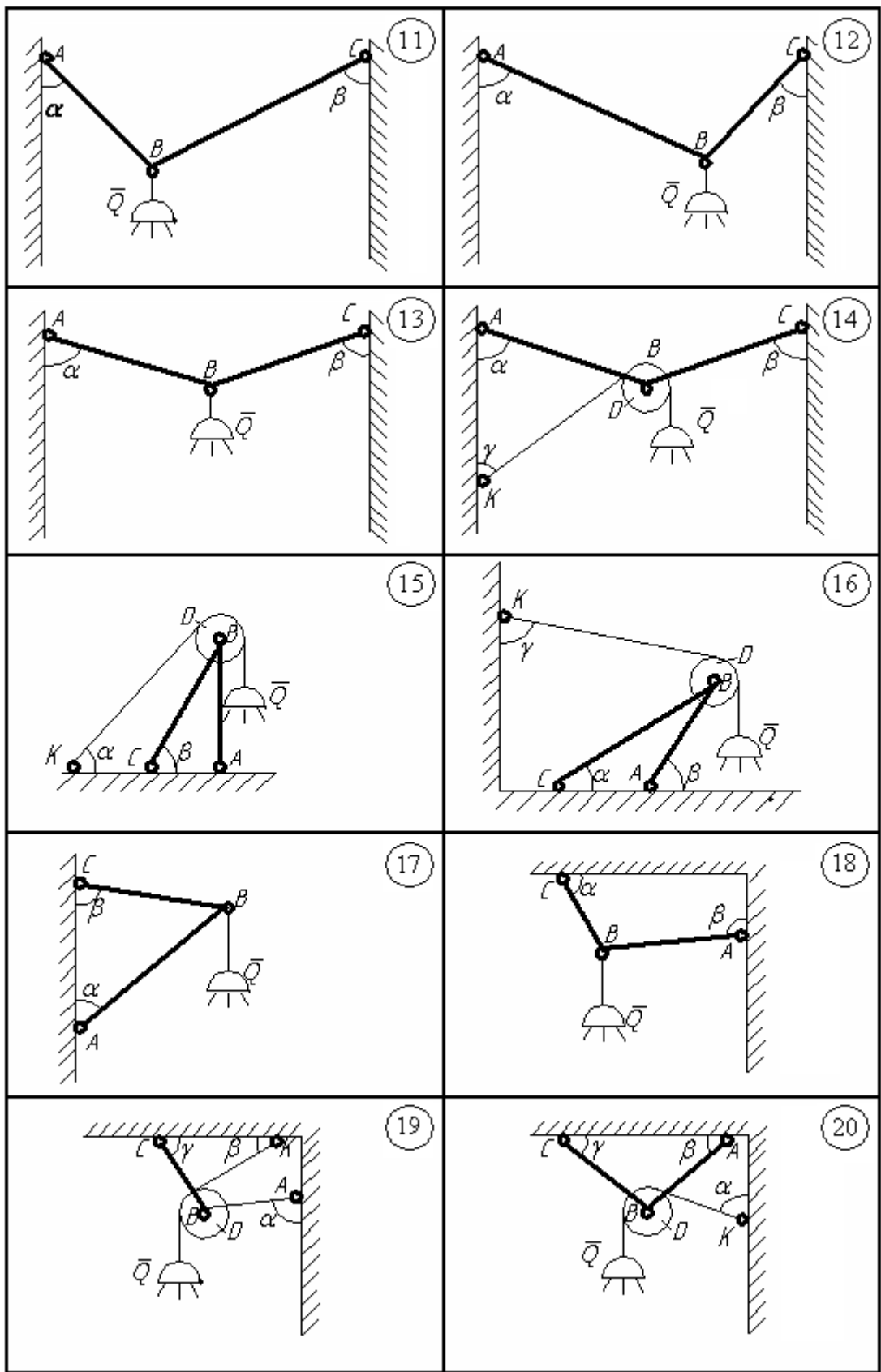


Рисунок 5.16

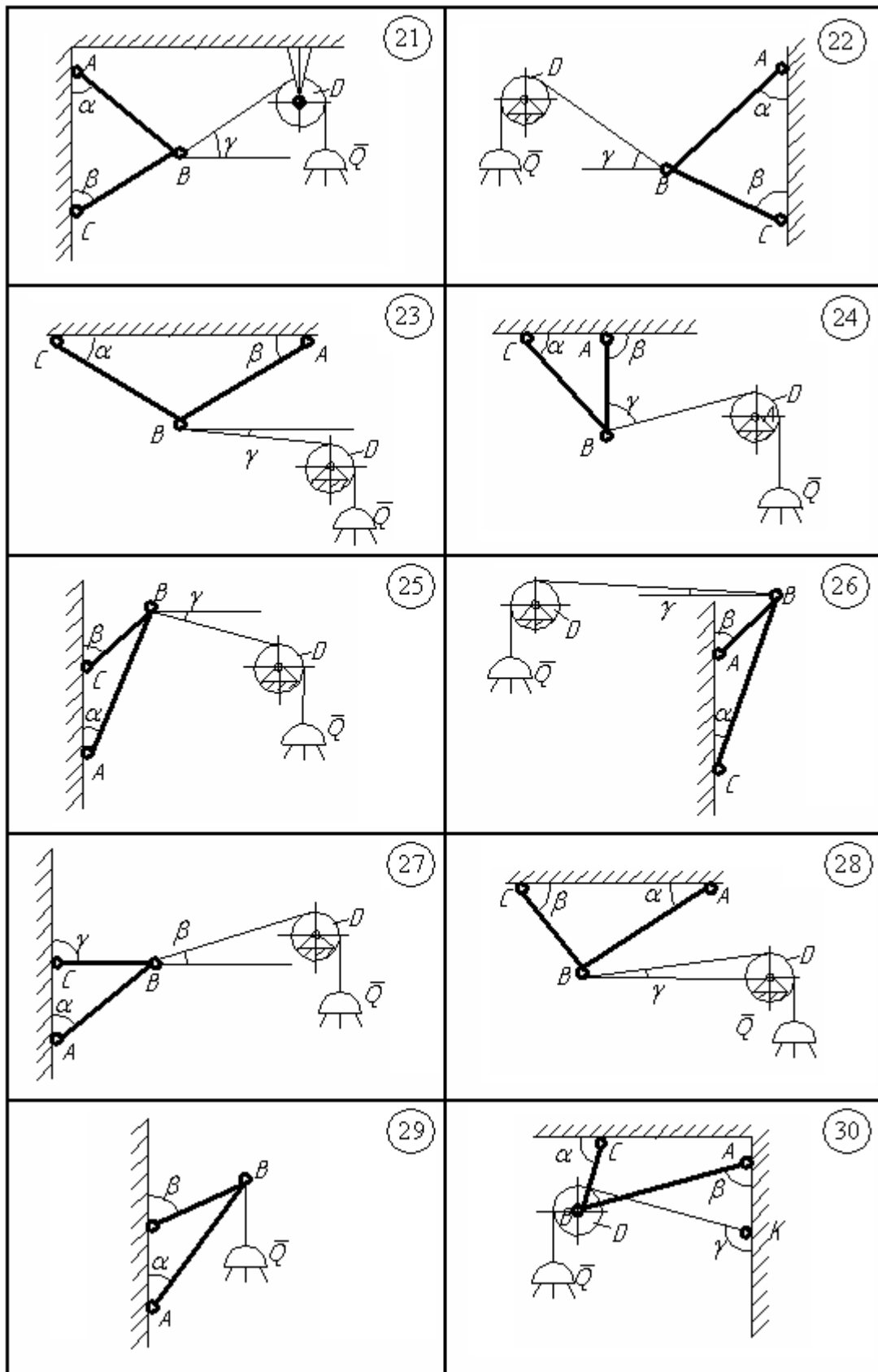


Рисунок 5.17

Таблиця 5.1

Варіант	Сила, Н	Кут, град		
	Q	α	β	γ
1	50	30	45	30
2	40	30	60	45
3	60	60	30	60
4	30	30	120	75
5	45	30	60	15
6	60	30	60	30
7	70	60	30	45
8	30	60	75	60
9	80	30	60	75
0	150	60	30	45

Приклад 3

Плоска рама, що зображена на рис. 5.18, знаходяться в рівновазі під дією сил F_1 і F_2 . Знайти реакції опор в точках А і В, якщо задані сили, кути та розміри рами.

Дано:

$$d = 2\text{ м}; a = 2\text{ м}; b = 3\text{ м}; c = 4\text{ м}; h = 2\text{ м};$$

$$F_1 = 5\text{ Н}; F_2 = 10\text{ Н}; \beta = 60^\circ; \alpha = 45^\circ.$$



$$R_A, R_B - ?$$


1. Зображаємо рисунок у вибраному масштабі з обов'язковим розміром кутів під якими діють сили F_1 і F_2 .


2. Аналогічно до пункту 1, 2, 3 (з прикладу 1) будуємо силовий багатокутник, починаючи з сили F_1 або F_2 . Проводимо лінію дії відомої за напрямком реакції в'язі через кінець останньої на силовому багатокутнику сили.

3. Вибираємо довільну точку **O** за допомогою кнопки .

4. З точки **O** проводимо промені до початку і кінця кожної з сил, зображених на силовому багатокутнику і нумеруємо їх. Нумерація променя фіксує кінець і початок відповідних сил. Наприклад, якщо у відповідній точці закінчується сила F_1 , а починається F_2 , то нумерація променя буде 1-2.

5. На основному рисунку (рис 5.18) з точки, де не відома за напрямком реакція в'язі (т. А) проводимо через точку А пряму, яка паралельна променю a-1 (за допомогою кнопки ) і фіксуємо за допомогою кнопки  та нумеруємо її **a-1**.


6. Продовжуємо вектор сили F_1 за допомогою кнопки  до перетину з побудованою лінією **a-1** та фіксуємо продовження.

7. Точку перетину лінії дії сили F_1 та лінії **a-1** фіксуємо крапкою  і позначаємо довільною малою літерою. Наприклад, точка **r**.

8. З точки r проводимо лінію паралельно до **1-2**, що споріднена по назві з попередньою. Фіксуємо отриману лінію. Аналогічно пунктам 6 і 7, отримуємо точку m .


9. З точки m проводимо пряму, яка паралельна променю **2-b**, до перетину з лінією дії реакцій в'язі R_B . Отримуємо точку n .


10. З точки n проводимо жирну (пунктирну) лінію до точки A , нумеруємо її через **a-b**. В результаті одержали замкнений вірвовочний багатокутник.

11. Через точку O на силовому багатокутнику проводимо пряму, яка паралельна **a-b**, до перетину з лінією дії сили R_B . За допомогою кнопки  вказуємо напрям сили R_B .

12. Через кінець сили R_B проводимо відрізок до початку першої сили F_1 . Нумеруємо останній відрізок (R_A) і вказуємо напрям сили R_A . В результаті отримуємо силовий замкнутий багатокутник. Силу R_A розкладаємо по осям (X_A , Y_A) з відповідним напрямком.

13. Аналогічно до п. 5 (прикладу 1) зазначаємо розміри невідомих сил.

14. За допомогою кнопки  записуємо відповідь враховуючи вибраний масштаб.

15. Зберігаємо інформацію в файлі за допомогою кнопки . Але, якщо ви зберігаєте ваш файл вперше на жорсткий диск, то треба спочатку виконати команду в головному меню (**Файл\Сохранить как...**). З'явиться вікно, де треба вказати ім'я файла (довільне), розширення, і звичайно місце куди система його і запише. Наприклад : **В:\Учёба\Онищук\2Б-13\Документ1.doc**.

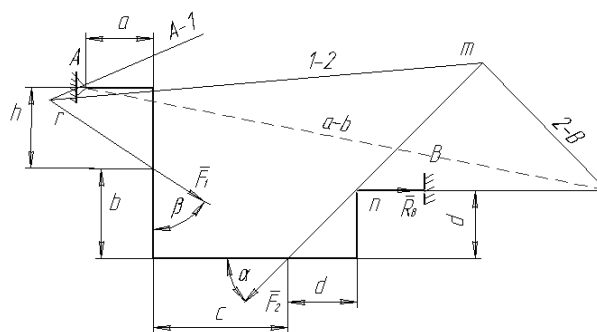


Рисунок 5.18

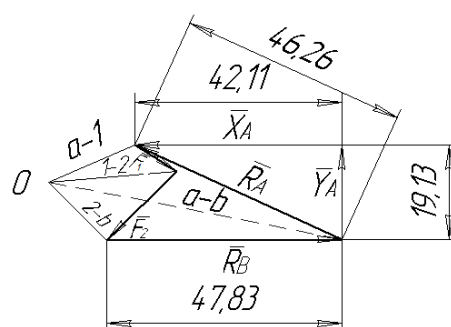


Рисунок 5.19

5.3 Знаходження зусиль у випадку довільної плоскої системи сил

У випадку наявності пари або пар сил для побудови віршовочного багатокутника необхідно виконати такі кроки:

1. Конструкцію зображаємо у вибраному масштабі з зовнішніми навантаженнями і відповідними кутами.

2. Якщо на конструкцію діє одна пара сил, то плече пари d необхідно вибрати так, щоб його розміри належали розмірам конструкцій l тобто $d < l$

Вибираємо переріз в якому прикладена пара сил і відносно цієї точки симетрично з відповідним плечем d згідно напрямку цієї пари зображуємо сили, які знаходимо за формулою:

$$P = M \cdot l / d$$

3. У випадку декількох пар сил, що діють на конструкцію пункт 2 повторюємо для кожної пари.

Приклад:

Дано:
 $P = 1 \text{ кН}$
 $M = 2 \text{ кНм}$
 $\alpha = 45^\circ$
 $X_A, Y_A, Y_B - ?$

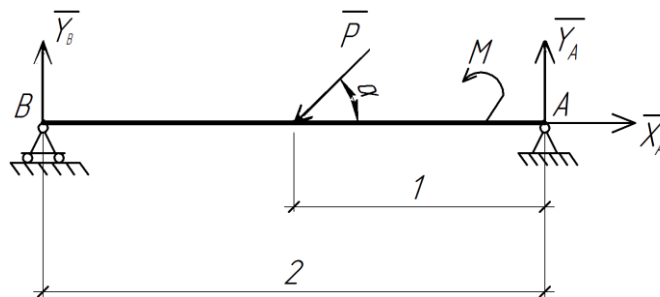


Рисунок 5.20

Аналітичне знаходження реакцій в'язей:

$$X_A - P \cos \alpha = 0$$

$$Y_B + Y_A - P \sin \alpha = 0$$

$$P \sin \alpha \cdot 1 + M - 2Y_B = 0$$

$$Y_B = \frac{P \sin \alpha + M}{2} = \frac{0.71 + 2}{2} = \frac{2.71}{2} = 1.355$$

$$Y_A = P \sin \alpha - Y_B = 0.71 - 1.355 = -0.625$$

$$X_A = 0.71$$

Заміна момента сил парю сил: $M = 4(\text{Н}) \cdot 0.5(\text{м})$ (Рис.5.21).

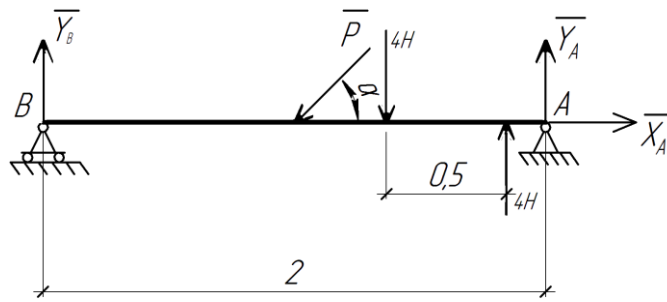


Рисунок 5.21

Графічне визначення опорних реакцій:

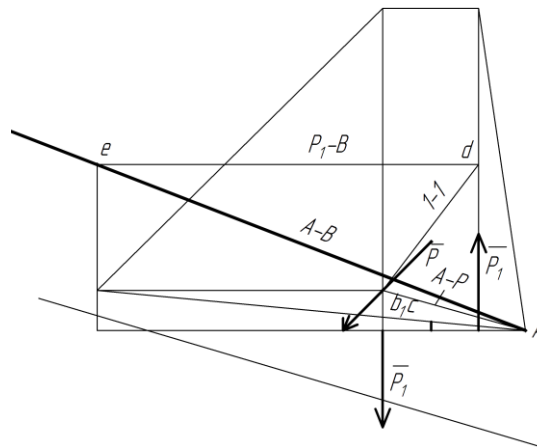


Рисунок 5.22 Вірвовочний багатокутник

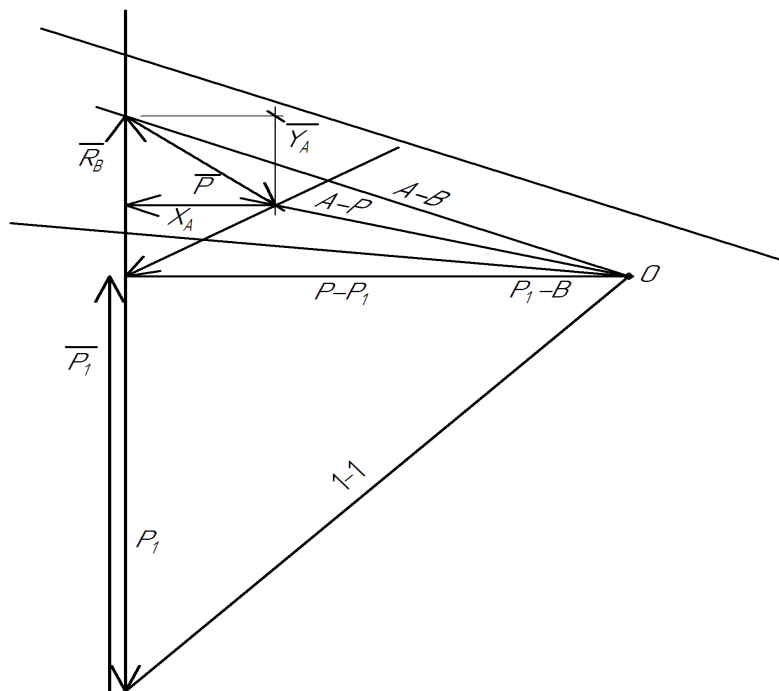


Рисунок 5.23 Силевий багатокутник

Завдання 10

Плоска рама (рис.5.24 – 5.28) знаходиться під дією сил F_1 і F_2 . Напрямок сил визначається кутами β і φ , а геометричні розміри параметрами a, b, c, d .

Рама закріплена до нерухомої основи за допомогою плоского шарніра a , а в точці B – тонким стержнем.

Дані для розрахунків знаходяться в таблиці 5.2, де сили мають розмірність кН, лінійні розміри в метрах, кути в градусах.

Для заданої конструкції рами при умові її рівноваги. Знайти опорні реакції.

Таблиця 5.2

Варіант	Сила, кН		Нм	Розміри, м					Кут, град	
	F_1	F_2	M	a	b	c	d	h	β	φ
1	4	2	2	2	3	4	2	3	60	30
2	3	1	4	3	2	5	1	2	60	45
3	5	2	4	1	2	4	3	3	75	45
4	1	2	2	2	3	5	1	1	15	35
5	8	1	8	3	2	4	2	4	25	20
6	5	2	4	1	3	5	2	3	75	45
7	6	1	6	2	3	4	1	2	65	45
8	7	2	4	3	2	5	2	2	30	35
9	8	1	2	1	2	4	2	6	45	15
0	3	2	2	2	3	5	3	6	20	35

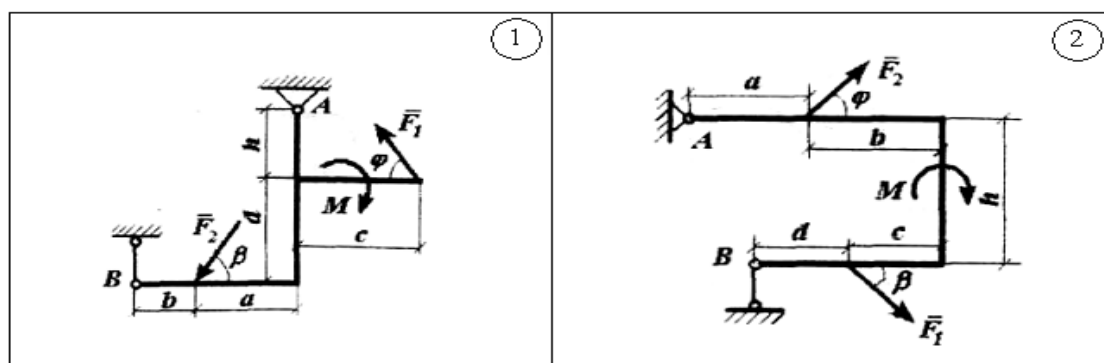


Рисунок 5.24

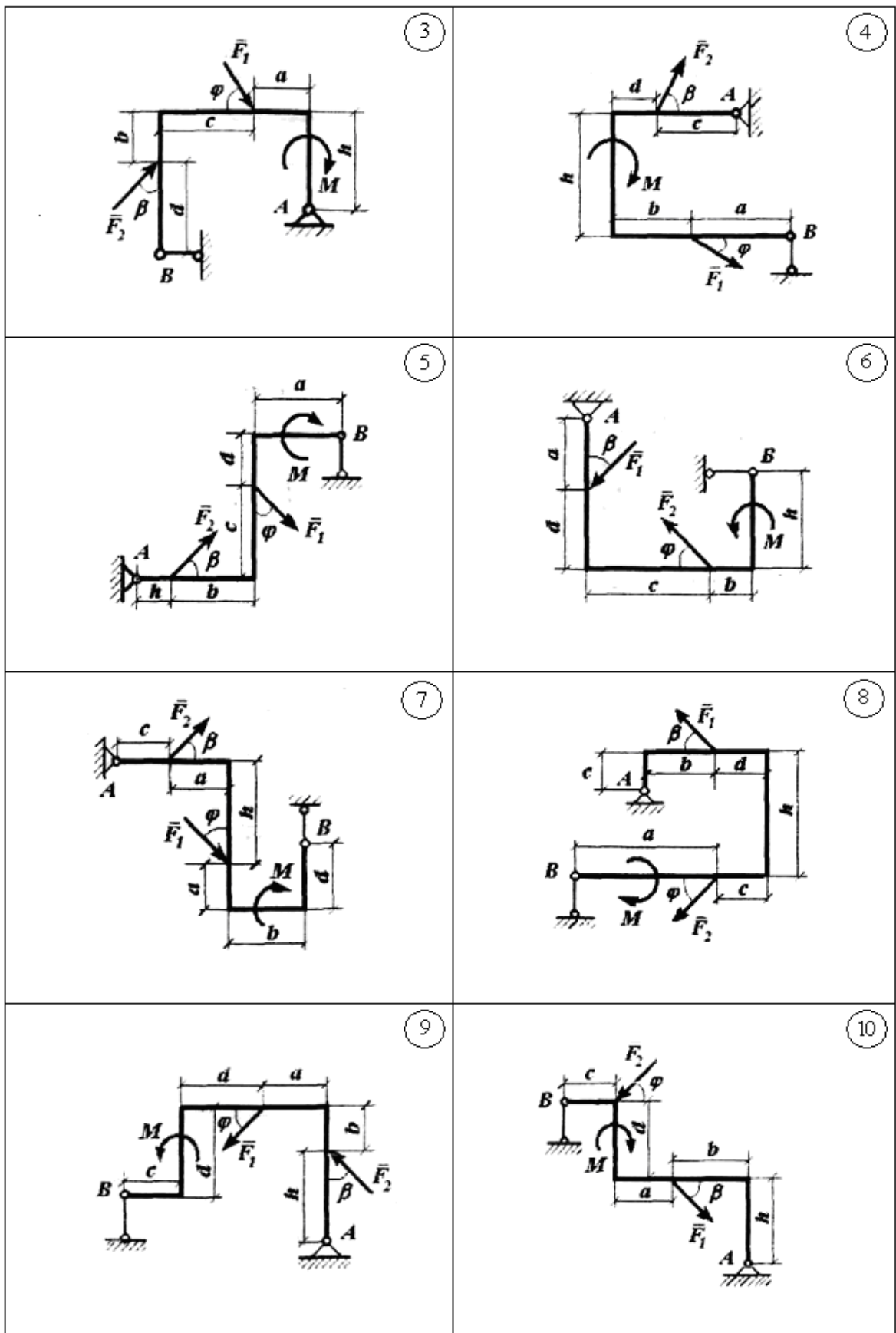


Рисунок 5.25

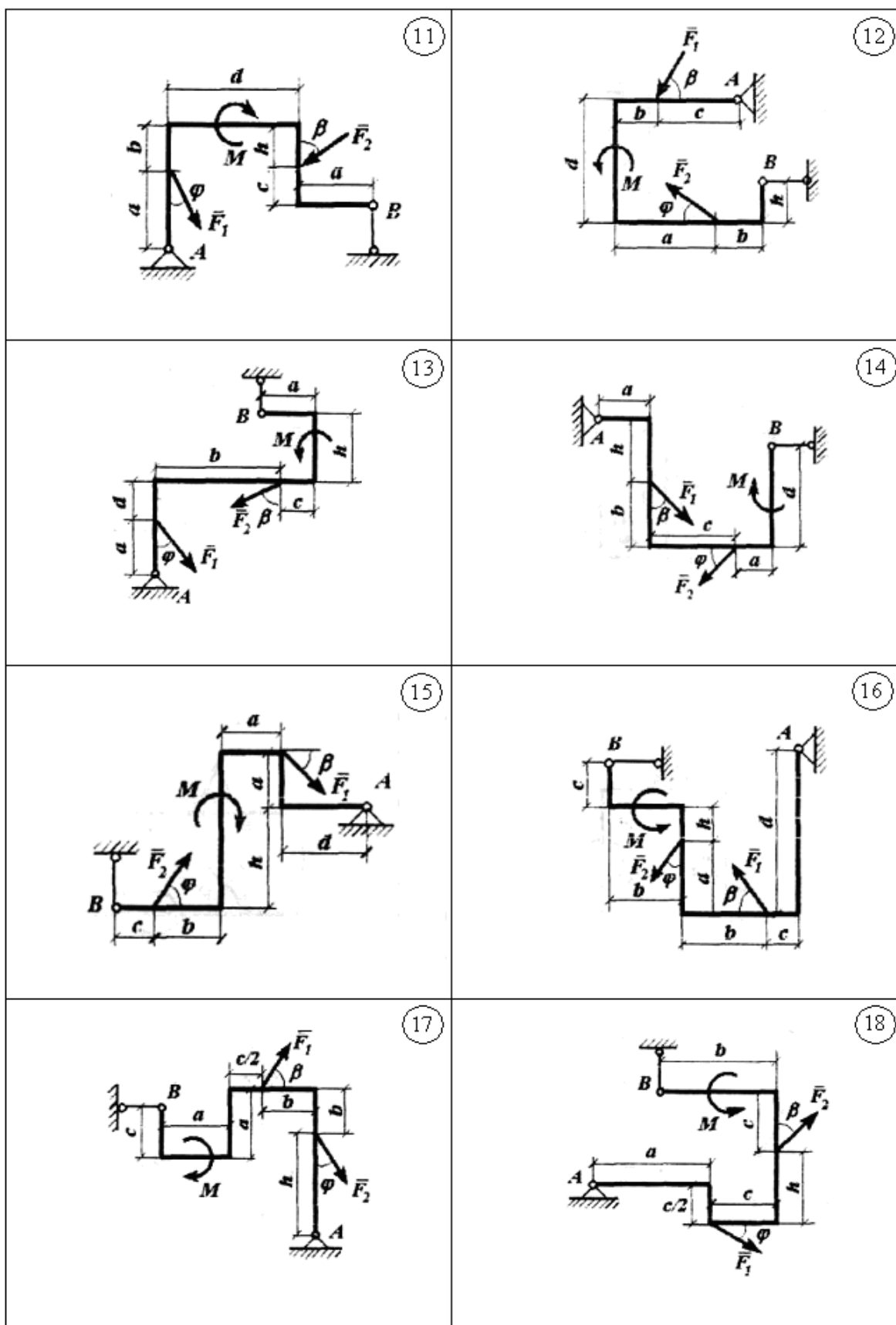


Рисунок 5.26

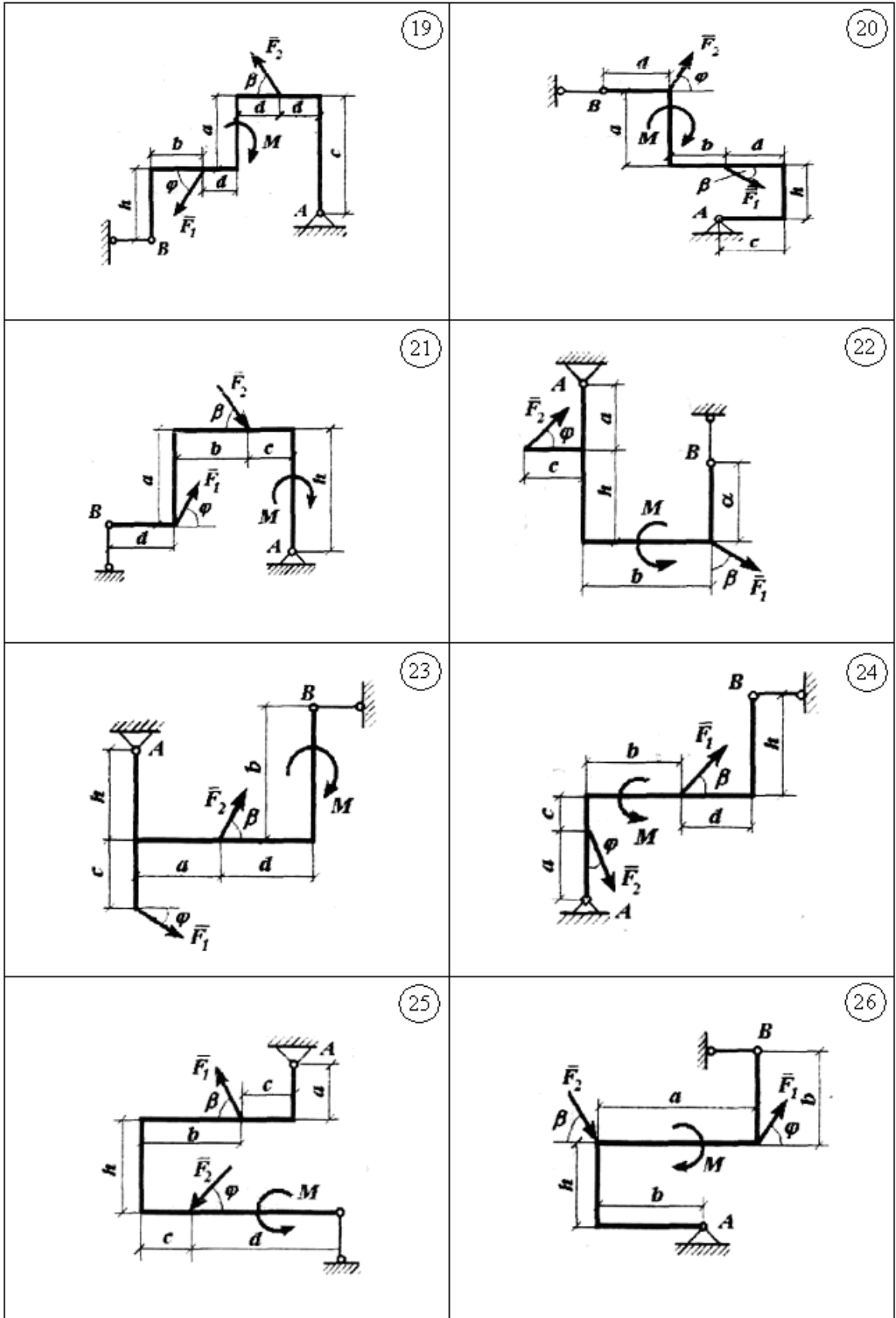


Рисунок 5.27

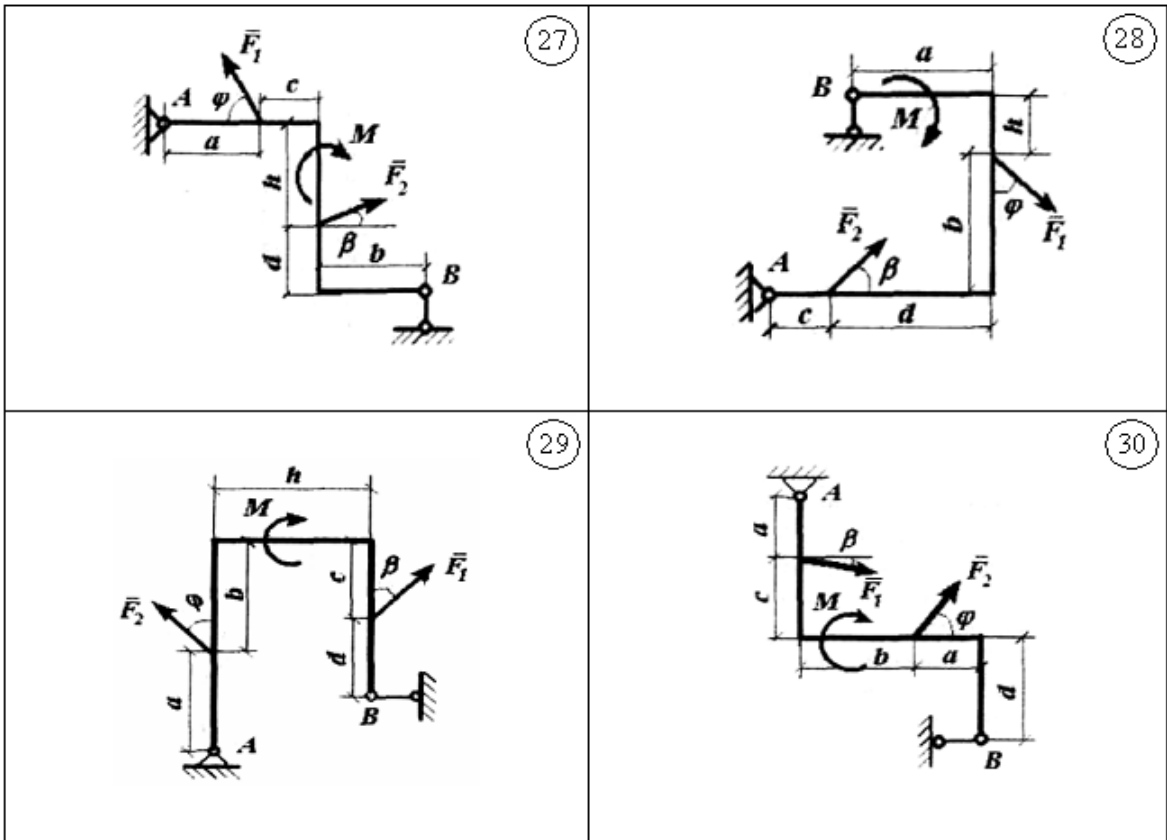


Рисунок 5.28

5.4 Графічне визначення опорних зусиль ферми за допомогою вірвовочного багатокутника

Сила, кН			Розміри, м						Кут, град.			Сила, кН	
P1	P2	P3	a1	a2	b1	B2	h1	h2	α1	α2	α3	Ra	Rb
3	5	6	3	3	3	3	3	6	0	90	30	?	?

Креслимо ферму в вибраному масштабі (рис. 5.31) без нумерації стержнів. Вибираємо масштаб сил: в 1 см – 2кН.

Креслимо силовий багатокутник (рис. 5.32). Паралельним переносом відкладаємо вектори сил P1, P2 і P3. Із кінця сили P3 проводимо лінію дії сили Rb, напрямленої паралельно опорному стержню BE. Використовуємо вірвовочний багатокутник знаходження точки, де міститься кінець вектора Rb. Реакціям Rb і Ra присвоюємо відповідно номери 4 і 5. Довільно вибрану точку O (рис. 5.32) з'єднуємо відрізками, які називаються променями, з вершинами силового багатокутника.

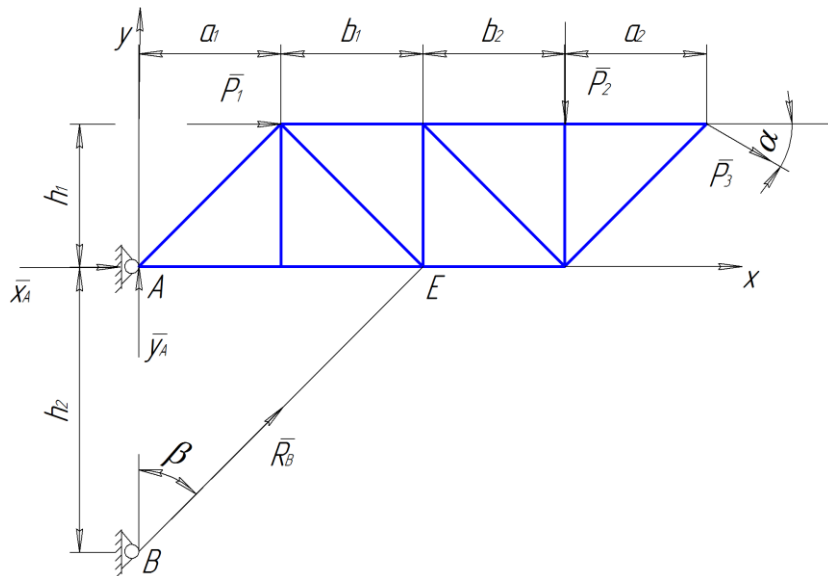


Рисунок 5.30

Назви променів відповідають індексам сил, що входять у вершину і виходять з неї. Для зображених на рис. 5.32 сил проводимо відповідно промені 1-2, 2-3, 3-4 і 5-1. Із точки А (рис. 5.31) точки прикладення реакції нерухомого шарніра, проводимо промінь 5-1 до перетину з лінією дії сили P_2 (точка A_2). Із отриманої точки A_1 проводимо промінь 1-2 до перетину з лінією дії сили P_2 , із точки A_2 – промінь 2-3 до перетину з лінією дії сили P_3 (точка A_3), із точки A_3 – промінь 3-4 до перетину з лінією дії сили R_B (точка A_4). Точку A_4 з'єднуємо з точкою А. Відрізок A_4A є замикальний промінь 4-5. Замкнута ламана лінія $AA_1A_2A_3A_4A$ на рис 5.18, сторони якої є променями 5-1, 1-2, 2-3, 3-4, 4-5, називається вірвовочним багатокутником.

Паралельним переносом будуюмо промінь 4-5 із точки О (рис. 5.19). Точка, де промінь 4-5 перетинається з лінією, дії сили R_B – кінець вектора R_B і початок вектора R_A . З отриманої точки проводимо промінь в початок сили P_1 . Замкнутий багатокутник, побудований на векторах P_1, P_2, P_3, R_B і R_A , який зображено на рис 5.19, називається силовим. Вимірюємо довжину векторів R_A та R_B , через масштаб сил переводимо в одиниці сили і отримуємо $R_A=27,31\text{кН}$, $R_B=24,6\text{кН}$.

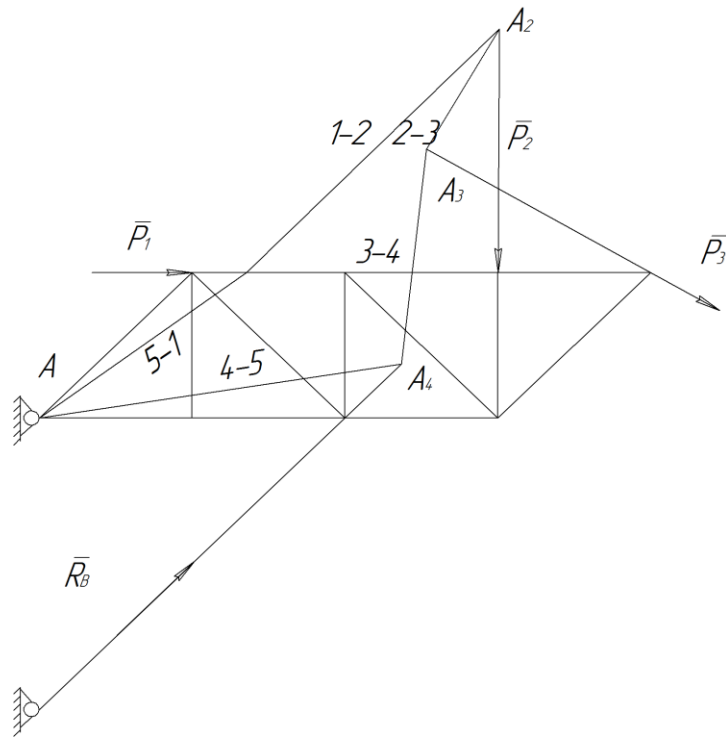


Рисунок 5.31

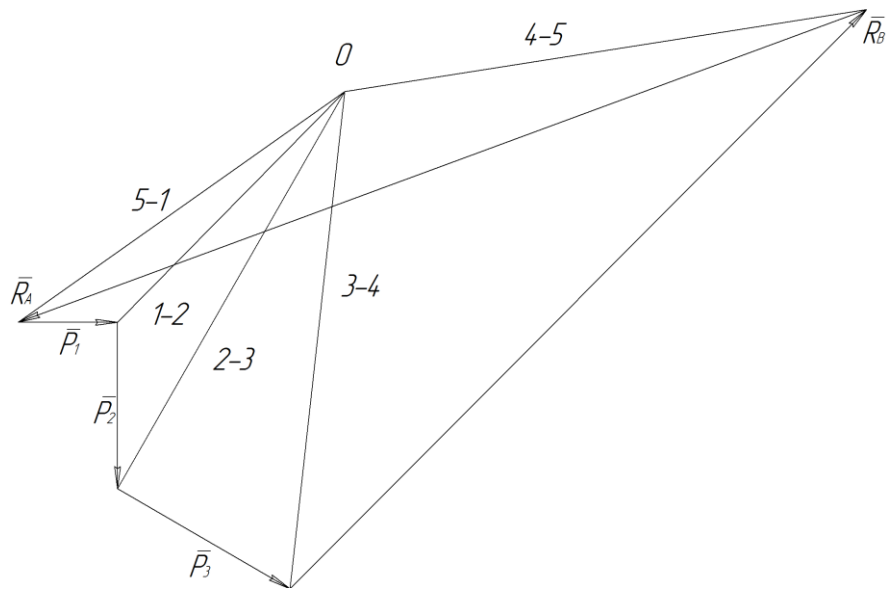


Рисунок 5.32

5.5 Знаходження зусиль в стержнях ферми графічним методом (побудова діаграми Максвелла – Кремони)

Перед побудовою діаграми Максвелла – Кремони необхідно провести таку підготовку:

- виконуємо рисунок ферми відповідно до її геометричних розмірів (рис.5.33);
- показуємо вектори заданих сил \bar{P}_1 \bar{P}_2 \bar{P}_3 і знайдених реакцій \bar{R}_B і \bar{R}_A ;

в) позначаємо області між зовнішніми силами: Q, B, V, D, F;

г) позначаємо внутрішні області K, L, M, N, O, T;

д) позначаємо вузли римськими цифрами :I – VIII;

є) вибираємо обхід зовнішніх сил і вузлів (на рис. 5.33 показано його напрям за годинниковою стрілкою);

ж) вказуємо масштаб сил (в одноковому випадку в 1 см – 2 кН).

Будуємо діаграму Максвелла – Кремони (рис. 5.34). Креслимо багатокутник зовнішніх сил відповідно до вибраного обходу. Цей багатокутник позначаємо відповідними великими буквами. Між зовнішніми силами ферми знаходяться області Q, B, V, D, F і Q. Одержуємо багатокутник зовнішніх сил qbvfdq на діаграмі.

Побудову зусиль в стержнях ферми починаємо з вузла, де сходяться два стержні. Такими вузлами на рис.5.33 можуть бути вузли I, VIII. Розглянемо вузол I.

При обході вузла I у вибраному напрямку зустрічаються області Q,K,F і Q. На діаграмі побудований відрізок qf. Через точку q (рис. 5.34) проводимо пряму, паралельну стержню 1, а через точку f – пряму, паралельну стержню 8. На перетині цих двох прямих одержуємо точку r. Багатокутник qkfq – багатокутник сил, прикладених до вузла I. Стержню 1 відповідає зусилля qk, а стержню 8 – зусилля kf.

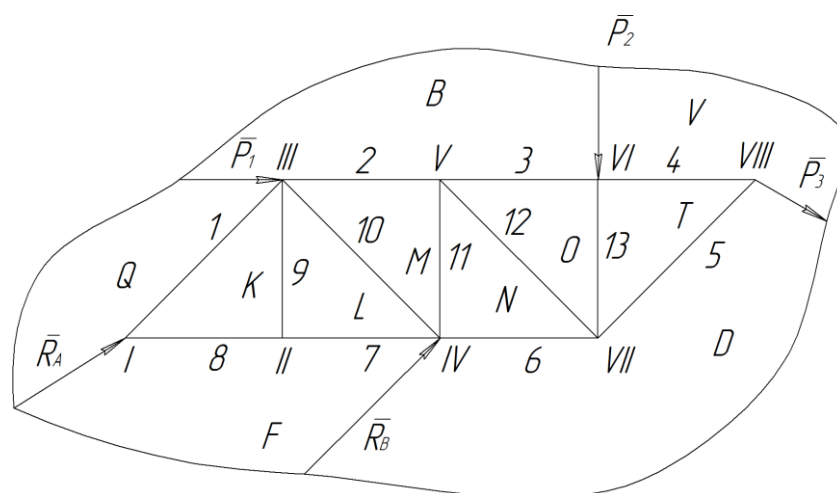


Рисунок 5.33

При обході вузла II зустрічаються області F, K, L і F. На діаграмі знаходимо відрізок fk , через точку k проводимо пряму, паралельну стержню 9, а через точку f – пряму, паралельну стержню 7. Їх точка перетину l відповідає області L та збігається з точкою k .

Багатокутник сил для вузла II – фігура $fklf$, що показана на діаграмі відрізком kf . Оскільки точка k і l збігаються, то зусилля $kl=0$, тоді стержень 9 – нульовий.

Переходимо до вузла III. Сили, що діють на цей вузол, розмежують області L, K, Q, B, M і L. Після побудови зусиль вузлів I та II зусилля lk , kq та qb відомі. Тоді через точку b проводимо пряму, паралельну стержню 10. Їх перетин дає точку m , що відповідає області M. Багатокутник сил для вузла III – $lkqbm$.

Аналогічними побудовами знаходимо багатокутник сил для вузлів, що залишились в такій послідовності IV, VII, VI. Це багатокутники: для вузла IV – $dflmnd$, для вузла VIII – $dtvd$, для вузла VI – $bvtob$. Залишились два останні вузли V та VII.

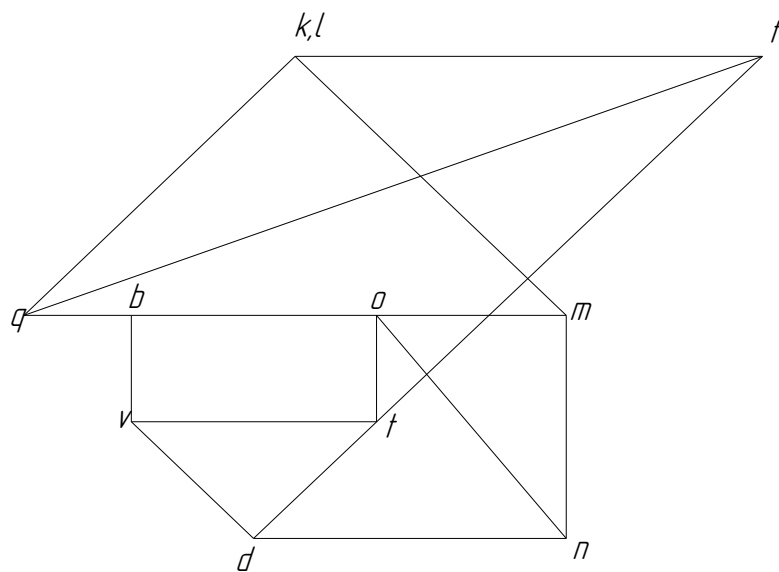


Рисунок 5.34

$$R_b=24,89 \text{ кН}; Y_a=-9,6 \text{ кН}; X_a=-25,79 \text{ кН}; R_a=27,31 \text{ кН}.$$

Для отримання багатокутників сил у вузлах V та VII достатньо з'єднати точки o і n (рис. 5.34). Якщо відрізок on буде паралельним стержню 12, то діаграма побудована правильно. Одержуємо силові багатокутники: $nmbon$ – для вузла V і $notdn$ – для вузла VIII. Побудова діаграми закінчена.

Отримана діаграма Максвелла – Кремони (див. рис. 5.34) дає змогу відшукати значення зусилля в будь-якому стержні ферми, а також його знак. Модуль вимірюється довжиною відрізка і переведенням її через масштаб в одиниці сили, а знак «-» – напрямком відрізків на діаграмі.

Наприклад, розглянемо стержень під номером 11 (див. рис. 5.33).

Зусилля цього стержня при обході вузла IV називається m_n . Знаходимо на діаграмі (рис. 5.34) напрямлений відрізок m_n , уявно переносимо напрям m_n з рис. 5.34 на рис. 5.33 до вузла IV. Вектор m_n напрямлений до вузла IV. Якщо зусилля спрямоване до вузла, то під його дією стержень стискується. Тоді стержень 11 стиснутий і знак зусилля N «мінус». Якщо зусилля для будь-якого іншого стержня спрямоване від вузла, то такий стержень розтягнений і його зусилля «плюс». Із діаграми на рис. 5.34 маємо, кН:

$$S1 = qk = 13,4$$

$$S4 = vt = 8$$

$$S7 = fl = 16$$

$$S10 = ml = -13,6$$

$$S2 = bm = 16,1$$

$$S5 = dt = -4$$

$$S8 = kf = 16$$

$$S11 = nm = -7,8$$

$$S3 = ob = 8$$

$$S6 = dn = 10,8$$

$$S9 = kl = 0$$

$$S12 = on = 11,2$$

Завдання 10

Плоска ферма (рис. 5.35 – 5.44) перебуває під впливом активних зовнішніх навантажень P_1 - P_5 , які прикладені до вузлів, напрям яких вказується кутами α_j ($j=1..5$). Геометричний розмір ферми визначається величинами $a_1, a_2, b_1, b_2, h_1, h_2$. Значення сил P_j , кутів α_j та геометричні розміри наведено в таблиці 3.1.

Для заданої конструкції ферми, при умові її рівноваги, знайти графічно опорні реакції ферми та побудувати діаграму Максвелла-Кремони для визначення зусиль в її стержнях.

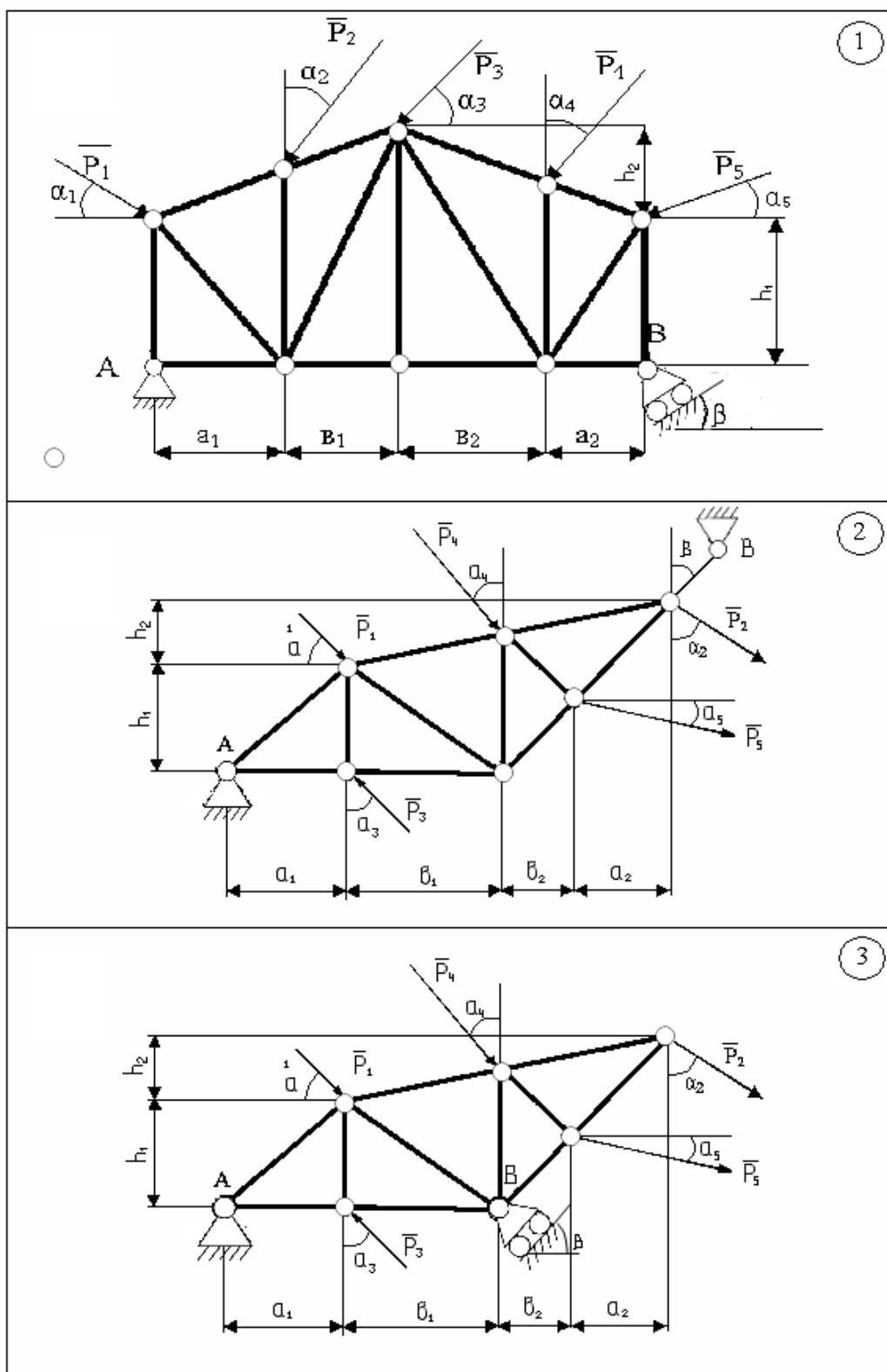


Рисунок 5.35

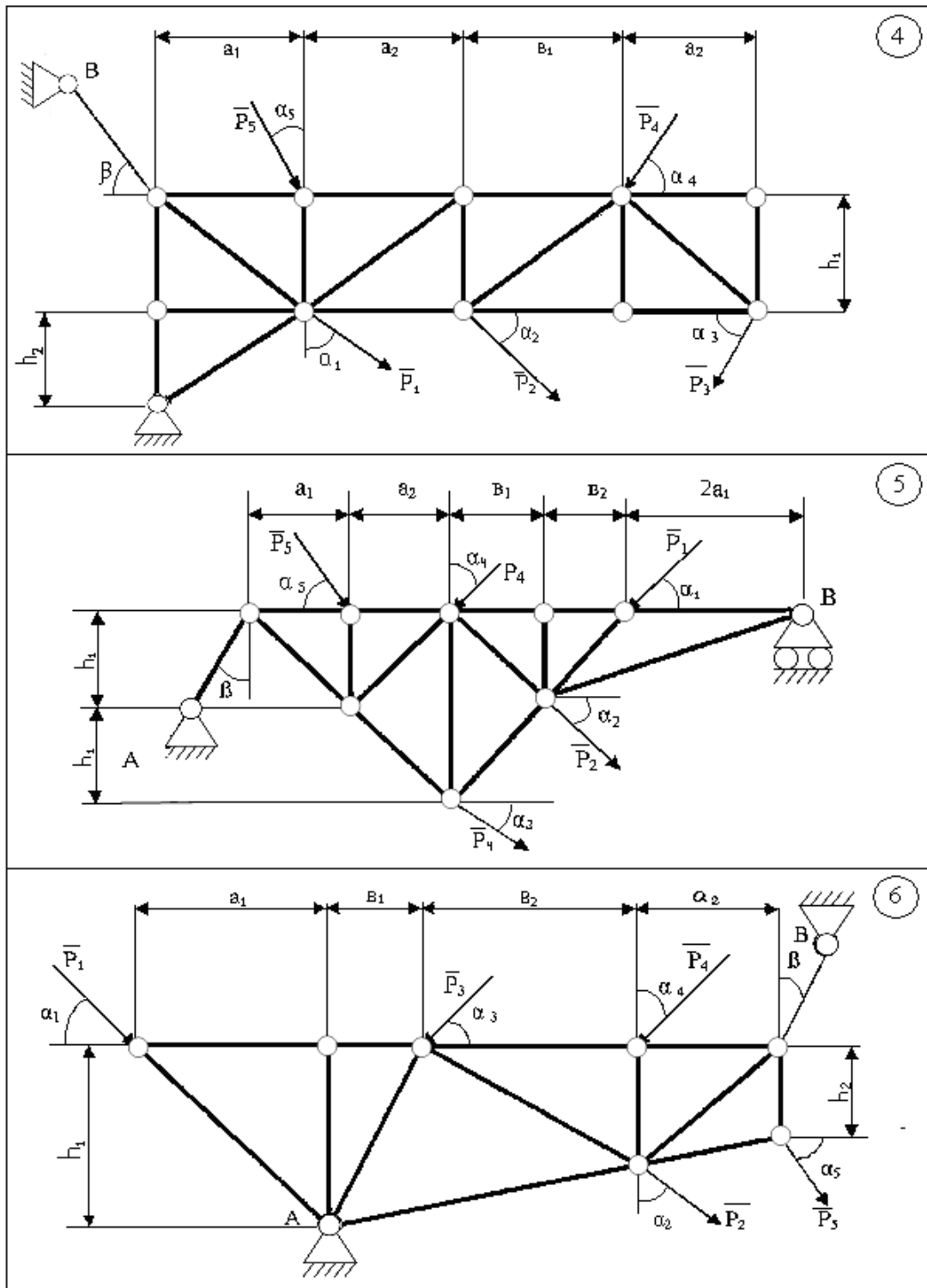


Рисунок 5.36

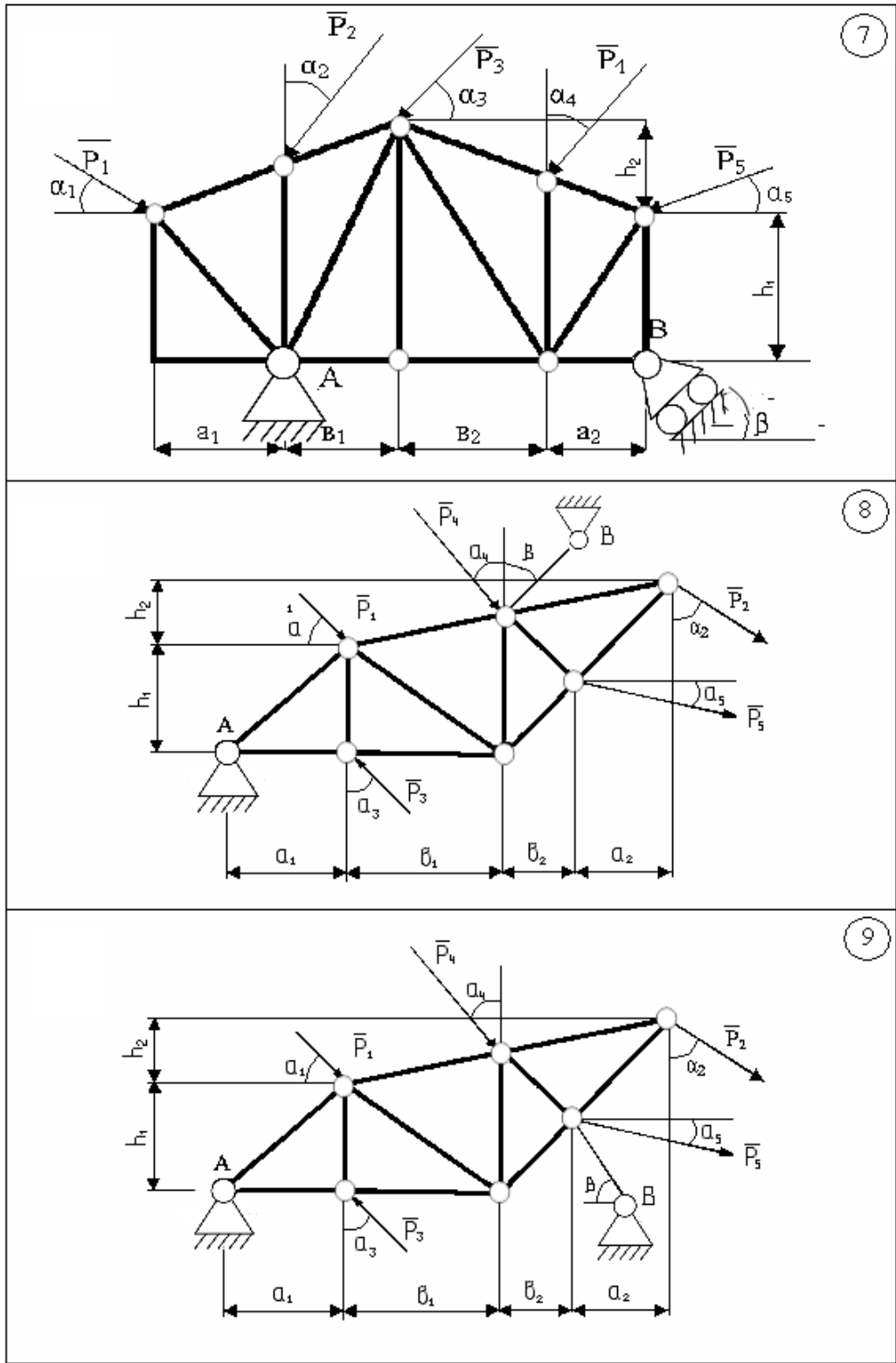


Рисунок 5.37

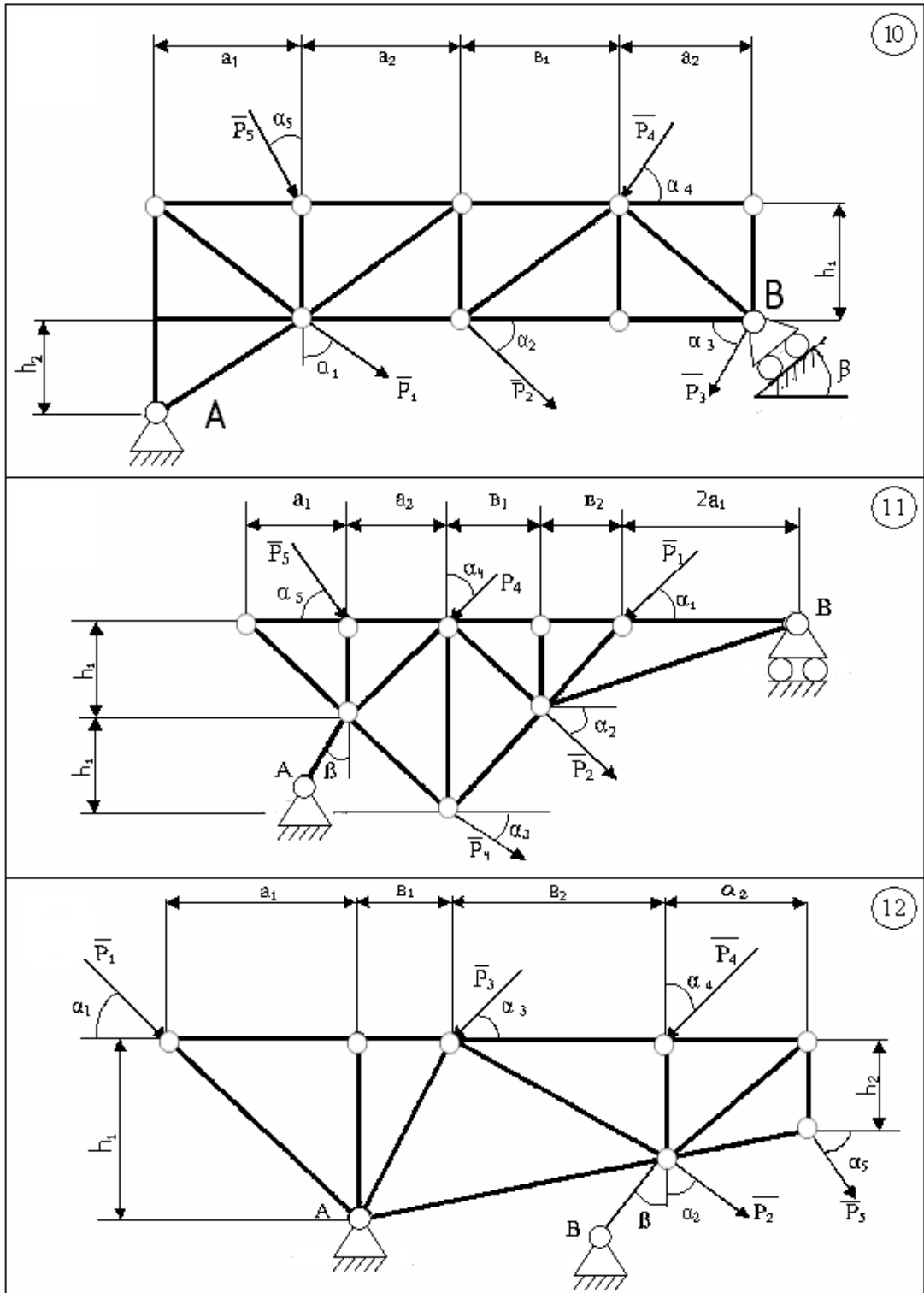


Рисунок 5.38

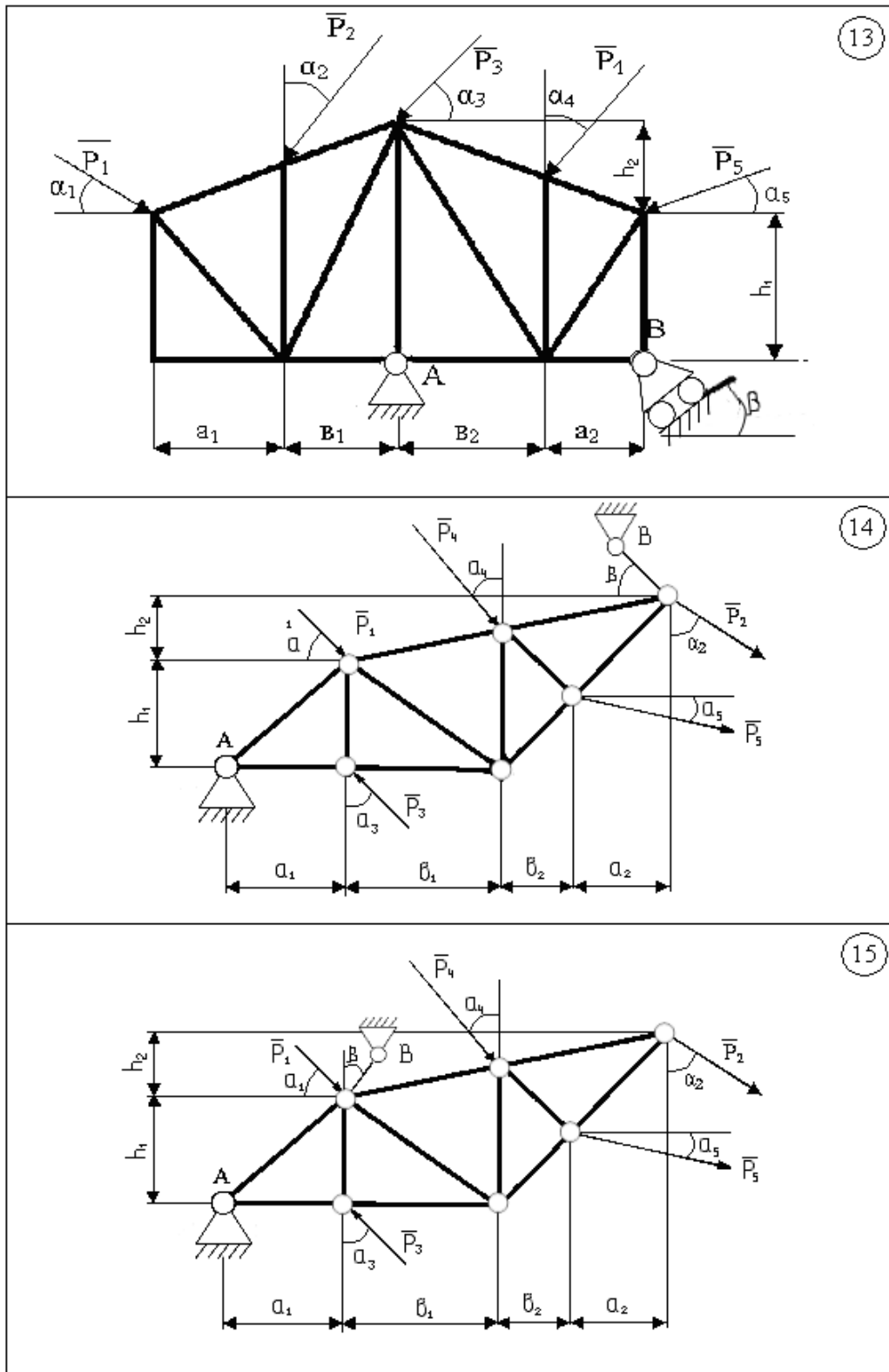


Рисунок 5.39

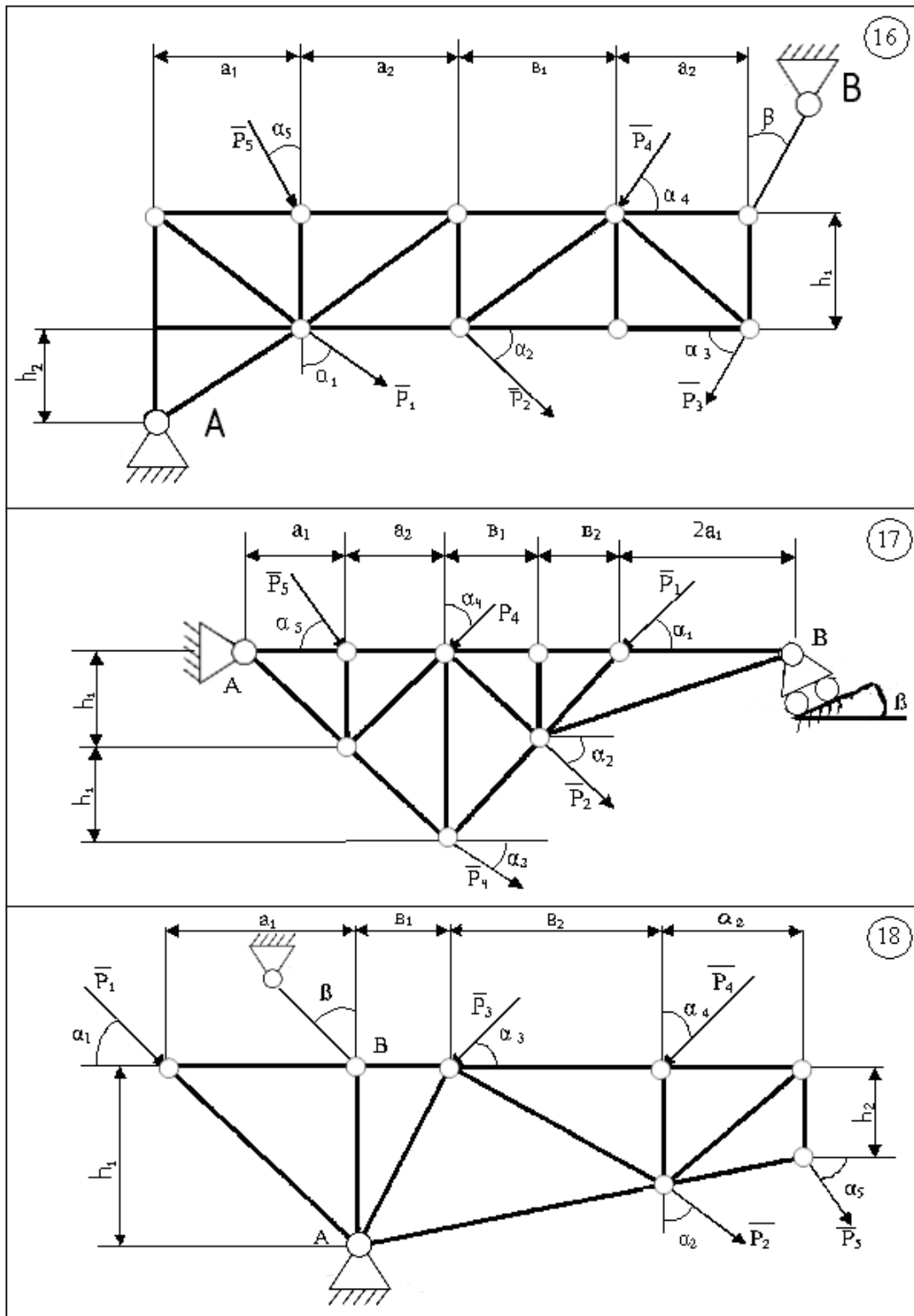


Рисунок 5.40

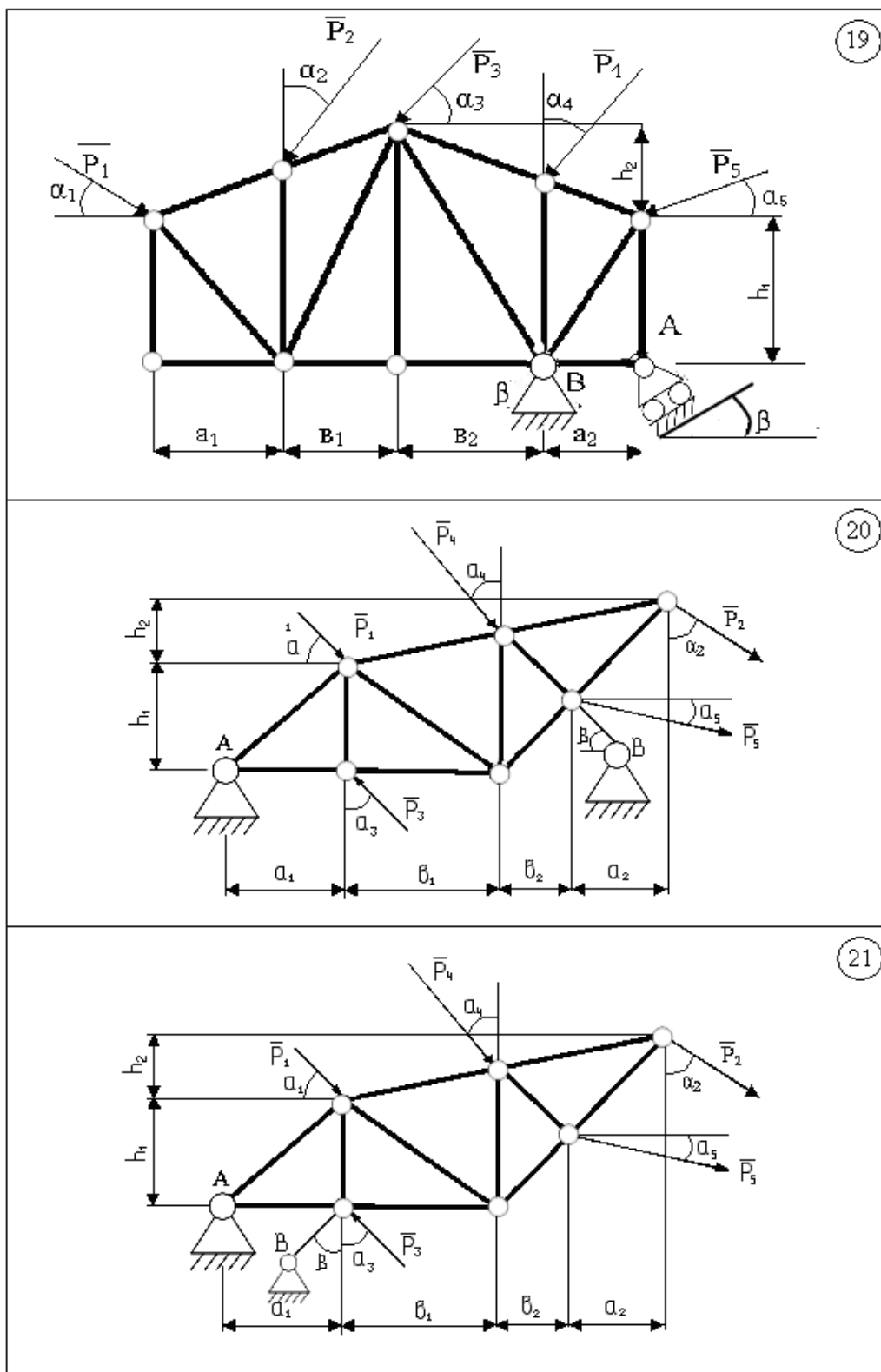


Рисунок 5.41

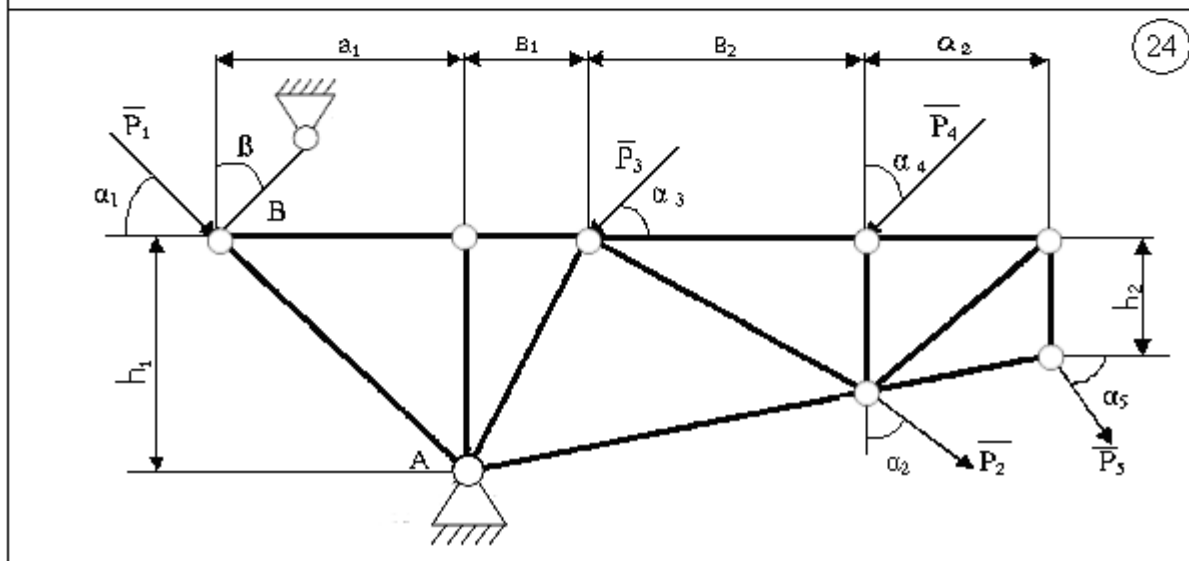
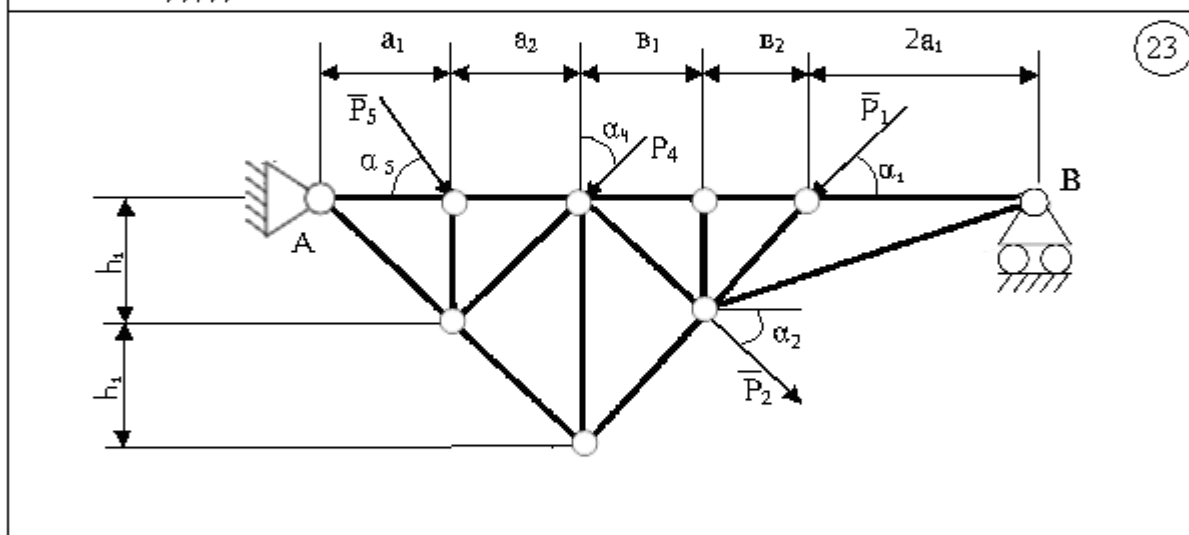
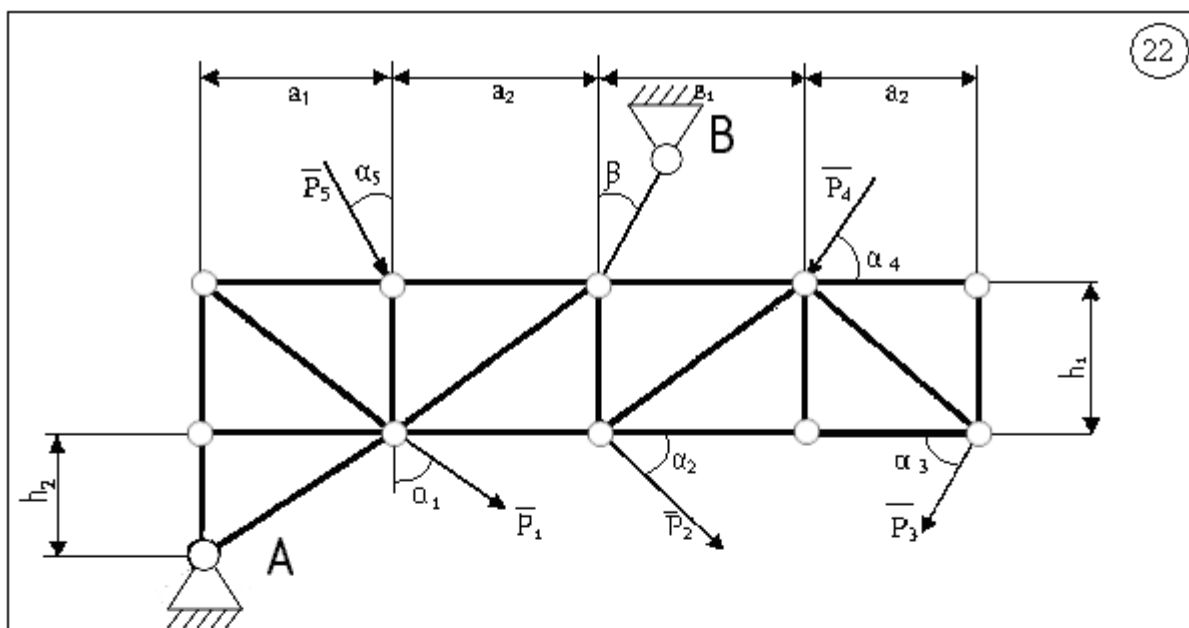


Рисунок 5.42

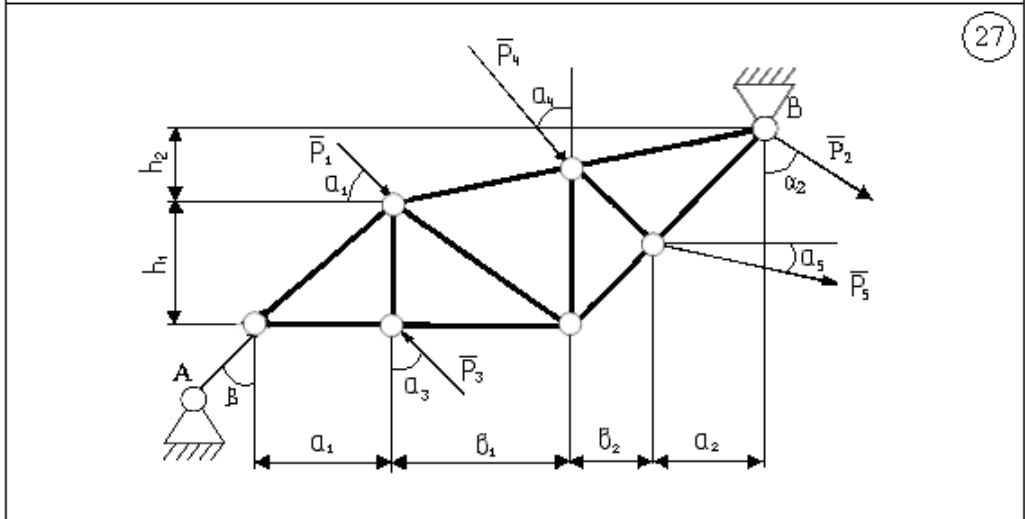
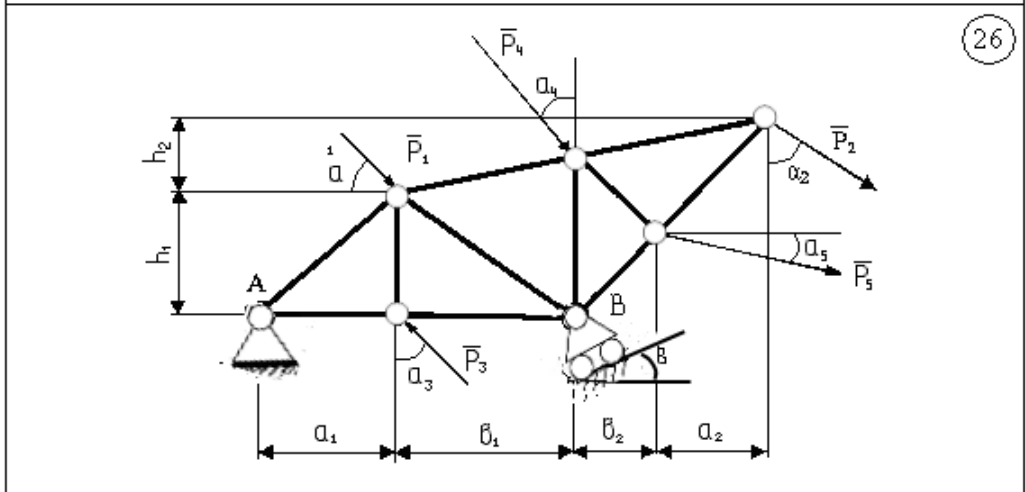
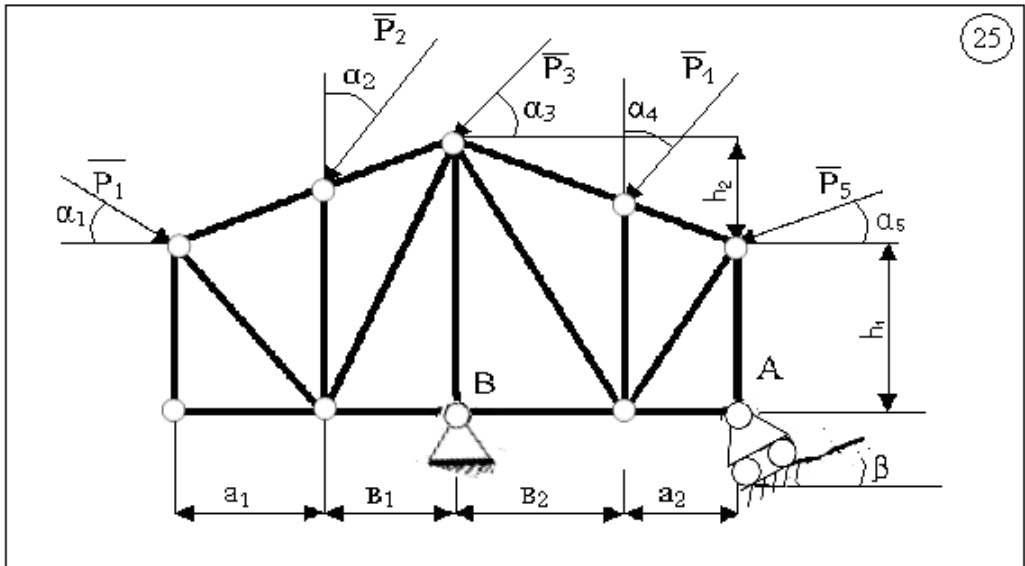


Рисунок 5.43

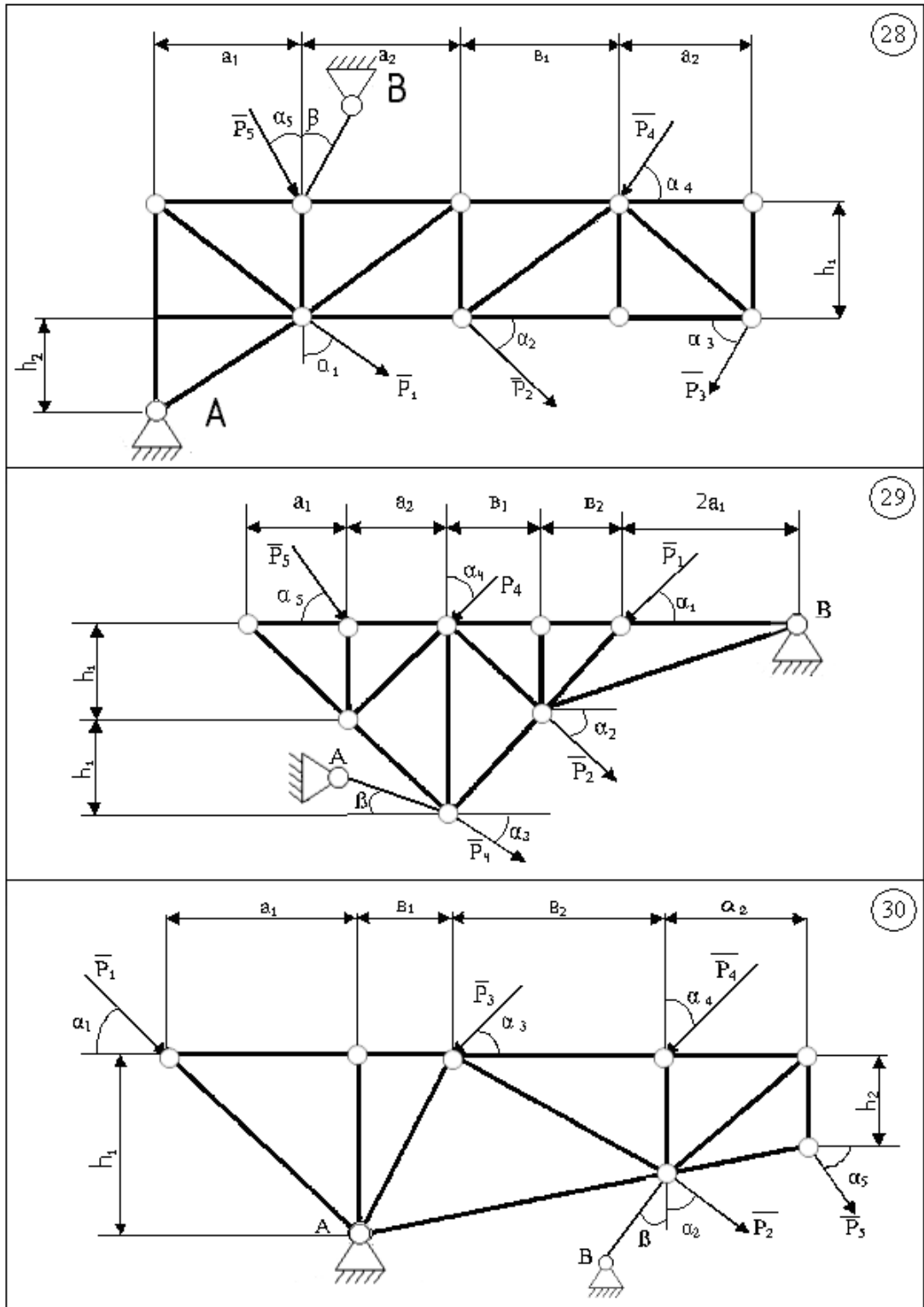


Рисунок 5.44

Таблиця 5.3

Варіант	Сила, кН					Розміри, м						Кут, град.					
	P_1	P_2	P_3	P_4	P_5	a_1	a_2	b_1	b_2	h_1	h_2	α_1	α_2	α_3	α_4	α_5	β
1	2	5	7	0	0	3	3	3	3	4	0	45	30	45	-	-	0
2	3	0	0	4	3	4	4	2	2	4	4	30	-	-	35	60	30
3	4	3	0	0	5	2	2	2	2	2	2	45	60	-	-	90	0
4	5	4	0	6	0	5	0	4	5	5	4	45	45	-	0	-	60
5	6	0	0	4	2	8	5	2	2	6	1	60	-	-	45	30	45
6	7	1	0	0	1	2	2	3	3	2	2	40	45	-	-	30	30
7	8	0	0	2	0	2	2	1	1	2	1	45	-	-	60	45	0
8	9	0	4	2	0	1	1	3	3	3	2	90	-	45	30	-	0
9	10	5	6	0	0	3	3	1	1	2	2	60	45	30	-	-	0
0	4	1	0	2	2	0	3	2	2	1	3	30	45	-	30	25	30

ЛІТЕРАТУРА

1. Воробьева Г. Н. Практикум по вычислительной математике : Учебное пособие для техникумов / Г. Н. Воробьева, А. Н. Данилова. – 2-е изд., перераб. и доп. – М. : Высшая школа, 1990. – 208 с.
2. Алтунов Е. В. Основи інформатики і обчислювальної техніки / Е. В. Алтунов, Л.А. Рибалко, В.С. Савченко. – М. : Вища школа, 1992. – 278 с.
3. Шуп Терри Е. Решение инженерных задач на ЭВМ / Е. Терри Шуп. - М. : Мир, 1982. – 235 с.
4. Форсайт Дж. Машинные методы математических вычислений / Дж. Форсайт, М. Малькольм, К. Моулер. – М. : Мир, 1981. – 279 с.
5. Додж М. Эффективная работа. EXCEL 2007 / М. Додж, К. Спитсон. – СПб. : Питер, 2007. – 992 с.
6. Власенко С. Ю. Microsoft Word 2007 / С. Ю. Власенко. – СПб. : БХВ. – Петербург, 2007. – 862 с.
7. Турчак Л. И. Основы численных методов / учебное пособие / Л.И. Турчак. – М. : Наука; Гл. ред. физ.-мат. лит., 1987. – 320 с.
8. Риндюк В. І. Математичні методи розв'язання інженерних задач у будівництві : практикум / В. І. Риндюк , І. В. Коц. – Вінниця : ВНТУ, 2005. – 117 с.

Навчальне видання

Володимир Іванович Риндюк

Іван Васильович Коц

Світлана Володимирівна Риндюк

Інформатика.

**Приклади і завдання з обчислювальної математики
та теоретичної механіки
для самостійної роботи студентів**

Навчальний посібник

для студентів напряму підготовки

«Будівництво та цивільна інженерія» та «Теплоенергетика»
всіх форм навчання

Редактор Т. О. Старічек

Оригінал-макет підготовлено І. В. Коцом

Підписано до друку 15.09.2017 р.

Формат 29,7×42 1/4. Папір офсетний.

Гарнітура Times New Roman

Ум. друк. арк. 4,39. Наклад 50 (1-й запуск 1-20) пр.

Зам. № 2017-340.

Видавець та виготовлювач

Вінницький національний технічний університет,
інформаційний редакційно-видавничий центр.

ВНТУ, ГНК, к. 114.

Хмельницьке шосе, 95,

м. Вінниця, 21021.

Тел. (0432) 59-85-32, 59-81-59,

press.vntu.edu.ua,

E-mail: kivc.vntu@gmail.com.

Свідоцтво суб'єкта видавничої справи
серія ДК № 3516 від 01.07.2009 р.

004:519.6(075.8)

P51 **Риндюк, В. І.**

Інформатика. Приклади і завдання з обчислювальної математики та теоретичної механіки для самостійної роботи студентів [Текст] : навчальний посібник

/ В. І. Риндюк, І. В. Коц, С. В. Риндюк. – Вінниця : ВНТУ, 2017. – 78 с. – 52,35 грн, 50 пр.

В посібнику для розв'язання задач обчислювальної математики і статички в теоретичній механіці використовується редактор WORD, електронні таблиці EXCEL та програмна система автоматизованого проектування КОМПАС. Наведені приклади виконання завдань є достатніми для засвоєння відповідних методик розрахунків на комп'ютері.

УДК 004:[519.61+531]](075.8)